



حكومة إقليم كردستان - العراق
وزارة التربية - المديرية العامة للمناهج والمطبوعات



الرياضيات للجميع



الصف الأول الأساس

كتاب التلميذ



الطبعة الثامنة
٢٠١٥م / ٢٧١٥ كوردي / ١٤٣٦ هـ

الأشراف الفني على الطبع

عثمان پیرداود کواز

آمانج اسماعیل عبدي

مُتَوَى الْكِتَابِ

الفصل ١ المُطابَقةُ وَالْعَدُّ: الأَعْدَادُ مِنْ ١ إلى ٥

الفصل ٢ الأَعْدَادُ مِنْ ٦ إلى ٩ ثُمَّ الصَّفْرُ وَالْعَشْرَةُ

الفصل ٣ الأَعْدَادُ مِنْ ١١ إلى ٣٠

الفصل ٤ الْجَمْعُ

الفصل ٥ الطَّرْحُ

الفصل ٦ طَرَائِقُ لِلْجَمْعِ وَالطَّرْحِ

الفصل ٧ الأَعْدَادُ حَتَّى ٩٩



مُحتوى الكِتَابِ



الفصل ٨ مقارنة الأعداد وترتيبها

الفصل ٩ جمع وطرح

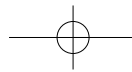
الفصل ١٠ القياس والهندسة

الفصل ١١ الكسور والوقت

الفصل ١٢ جمع العشرات وطرحها

الفصل ١٣ جمع وطرح عددَيْن





الفصل ١ المطابقة والعد: الأعداد من ١ إلى ٥

الفصل ١

- ٢..... صَفْحَةُ الأَهْلِ
 ٣..... وَاحِدٌ بِوَاحِدٍ... الدَّرْسُ الأَوَّلُ
 ٥..... أَكْثَرُ، أَقَلُّ... الدَّرْسُ الثَّانِي
 ٧..... اتَّعَرَّفُ إلى ١-٢-٣... الدَّرْسُ الثَّالِثُ
 ٩..... اتَّعَرَّفُ إلى ٤ و ٥... الدَّرْسُ الرَّابِعُ
 ١١..... أَرْتَبُ الأَعْدَادَ... الدَّرْسُ الخَامِسُ
 ١٣..... أَحْلُ مَسْأَلَةً - أَصْنَعُ نَمُودَجًا... الدَّرْسُ السَّادِسُ
 ١٥..... مُرَاجَعَةٌ - الفَصْلُ ١
 ١٦..... تَحْضِيرٌ لِإِخْتِيَارٍ - الفَصْلُ ١



الفصل ٢ الأعداد من ٦ إلى ٩ ثم الصفر والعشرة

الفصل ٢

- ١٨..... صَفْحَةُ الأَهْلِ
 ١٩..... اتَّعَرَّفُ إلى ٦ و ٧... الدَّرْسُ الأَوَّلُ
 ٢١..... اتَّعَرَّفُ إلى ٨ و ٩... الدَّرْسُ الثَّانِي
 ٢٣..... اتَّعَرَّفُ إلى الصِّفْرِ... الدَّرْسُ الثَّالِثُ
 ٢٥..... اتَّعَرَّفُ إلى ١٠... الدَّرْسُ الرَّابِعُ
 ٢٧..... أَرْتَبُ الأَعْدَادَ... الدَّرْسُ الخَامِسُ
 ٢٩..... أَحْلُ مَسْأَلَةً - أَصْنَعُ نَمُودَجًا... الدَّرْسُ السَّادِسُ
 ٣١..... مُرَاجَعَةٌ - الفَصْلُ ٢
 ٣٢..... تَحْضِيرٌ لِإِخْتِيَارٍ - الفَصْلُ ٢





الأعداد من ١١ إلى ٣٠

الفصل ٣


٣٤.....	صَفْحَةُ الأَهْلِ
٣٥.....	الدَّرْسُ الأَوَّلُ
٣٧.....	الدَّرْسُ الثَّانِي
٣٩.....	الدَّرْسُ الثَّالِثُ
٤١.....	الدَّرْسُ الرَّابِعُ
٤٣.....	الدَّرْسُ الخَامِسُ
٤٥.....	الدَّرْسُ السَّادِسُ
٤٧.....	مُرَاجَعَةٌ . الفَصْلُ ٣
٤٨.....	تَحْضِيرٌ لِلاِخْتِيَارِ . الفَصْلُ ٣



الجمع

الفصل ٤

٥٠.....	صَفْحَةُ الأَهْلِ
٥١.....	الدَّرْسُ الأَوَّلُ
٥٣.....	الدَّرْسُ الثَّانِي
٥٥.....	الدَّرْسُ الثَّالِثُ
٥٧.....	الدَّرْسُ الرَّابِعُ
٥٩.....	الدَّرْسُ الخَامِسُ
٦١.....	الدَّرْسُ السَّادِسُ
٦٣.....	مُرَاجَعَةٌ . الفَصْلُ ٤
٦٤.....	تَحْضِيرٌ لِلاِخْتِيَارِ . الفَصْلُ ٤



الفصل ٥ الطَّرْحُ

- ٦٦.....
 ٦٧..... حكاياتٌ عنِ الطَّرْحِ
 ٦٩..... أنا أطرحُ
 ٧١..... أَكْتُبُ جُمْلَةً طَرَحَ
 ٧٣..... أَطْرَحُ الكُلَّ أَوْ لا أَطْرَحُ شَيْئًا
 ٧٥..... أَطْرَحُ ضِمْنَ ١٠
 ٧٧..... أَحُلُّ مَسْأَلَةً . أَصْنَعُ نَمُودَ جَا
 ٧٩.....
 ٨٠.....

صَفْحَةُ الأَهْلِ

الدَّرْسُ الأَوَّلُ

الدَّرْسُ الثَّانِي

الدَّرْسُ الثَّالِثُ

الدَّرْسُ الرَّابِعُ

الدَّرْسُ الخَامِسُ

الدَّرْسُ السَّادِسُ

مُرَاجَعَةٌ . الفَصْلُ ٥

تَحْضِيرٌ لِلاِخْتِيَارِ . الفَصْلُ ٥



الفصل ٦ طَرَائِقُ لِلجَمْعِ وَالتَّطْرَحِ

- ٨٢.....
 ٨٣..... أَعُدُّ إلى الأمامِ
 ٨٥..... أُضَاعِفُ
 ٨٧..... أَجْمَعُ ضِمْنَ ١٠
 ٨٩..... أَعُدُّ إلى الخِوَارِ
 ٩١..... أَرْبِطُ بَيْنَ الجَمْعِ وَالتَّطْرَحِ
 ٩٣..... حَقَائِقُ طَرَحٍ مُتْرَابِطَةٌ
 ٩٥..... أَحُلُّ مَسْأَلَةً . أَحْتَارُ العَمَلِيَّةَ المُنَاسِبَةَ
 ٩٧.....
 ٩٨.....

صَفْحَةُ الأَهْلِ

الدَّرْسُ الأَوَّلُ

الدَّرْسُ الثَّانِي

الدَّرْسُ الثَّالِثُ

الدَّرْسُ الرَّابِعُ

الدَّرْسُ الخَامِسُ

الدَّرْسُ السَّادِسُ

الدَّرْسُ السَّابِعُ

مُرَاجَعَةٌ . الفَصْلُ ٦

تَحْضِيرٌ لِلاِخْتِيَارِ . الفَصْلُ ٦



الفصل ٧ الأعداد حتى ٩٩

١٠٠.....	صَفْحَةُ الأَهْلِ
١٠١.....	الدَّرْسُ الأَوَّلُ العَشْرَات
١٠٣.....	الدَّرْسُ الثَّانِي أَحَادٌ وَعَشْرَات
١٠٥.....	الدَّرْسُ الثَّالِثُ الأَعْدَادُ حَتَّى ٩٩
١٠٧.....	الدَّرْسُ الرَّابِعُ أَفْصَلُ الأَعْدَادِ
١٠٩.....	الدَّرْسُ الخَامِسُ أَحْلُ مَسْأَلَةً - أَقْدَرُ
١١١.....	مُرَاجَعَةٌ - الفَصْلُ ٧
١١٢.....	تَحْضِيرٌ لِالإِخْتِيَارِ - الفَصْلُ ٧



الفصل ٨ مُقَارَنَةُ الأَعْدَادِ وَتَرْتِيبُهَا

١١٤.....	صَفْحَةُ الأَهْلِ
١١٥.....	الدَّرْسُ الأَوَّلُ أَكْبَرُ مِنْ، أَصْغَرُ مِنْ
١١٧.....	الدَّرْسُ الثَّانِي قَبْلَ، بَعْدَ، بَيْنَ
١١٩.....	الدَّرْسُ الثَّالِثُ وَاحِدٌ أَوْ عَشْرَةٌ
١٢١.....	الدَّرْسُ الرَّابِعُ أَرْبَعٌ: أَوَّلُ، ثَانٍ، ثَالِثٌ
١٢٣.....	الدَّرْسُ الخَامِسُ أَنْمَاطٌ عَلَى لَوْحَةِ الأَعْدَادِ
١٢٥.....	الدَّرْسُ السَّادِسُ أَعْدُدٌ قَفْرًا
١٢٧.....	الدَّرْسُ السَّابِعُ أَحْلُ مَسْأَلَةً - أَصْنَعُ نَمُودَجًا
١٢٩.....	مُرَاجَعَةٌ - الفَصْلُ ٨
١٣٠.....	تَحْضِيرٌ لِالإِخْتِيَارِ - الفَصْلُ ٨



الفصل ٩ جَمْعُ وَطَرْحُ


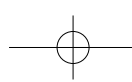
١٣٢.....	صَفْحَةُ الْأَهْلِ
١٣٣.....	الدَّرْسُ الْأَوَّلُ
١٣٥.....	الدَّرْسُ الثَّانِي
١٣٧.....	الدَّرْسُ الثَّلَاثُ
١٣٩.....	الدَّرْسُ الرَّابِعُ
١٤١.....	مُرَاجَعَةٌ - الْفَصْلُ ٩
١٤٢.....	تَحْضِيرٌ لِلِاخْتِيَارِ - الْفَصْلُ ٩



الفصل ١٠ الْقِيَّاسُ وَالْمَهْدَسَةُ

١٤٤.....	صَفْحَةُ الْأَهْلِ
١٤٥.....	الدَّرْسُ الْأَوَّلُ
١٤٧.....	الدَّرْسُ الثَّانِي
١٤٩.....	الدَّرْسُ الثَّلَاثُ
١٥١.....	الدَّرْسُ الرَّابِعُ
١٥٣.....	الدَّرْسُ الْخَامِسُ
١٥٥.....	الدَّرْسُ السَّادِسُ
١٥٧.....	مُرَاجَعَةٌ - الْفَصْلُ ١٠
١٥٨.....	تَحْضِيرٌ لِلِاخْتِيَارِ - الْفَصْلُ ١٠





الكسور والوقت

الفصل ١١

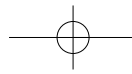
١٦٠.....	صَفْحَةُ الأَهْلِ
١٦١.....	الدَّرْسُ الأَوَّلُ
١٦٣.....	الدَّرْسُ الثَّانِي
١٦٥.....	الدَّرْسُ الثَّالِثُ
١٦٧.....	الدَّرْسُ الرَّابِعُ
١٦٩.....	مُرَاجَعَةٌ - الفَصْلُ ١١
١٧٠.....	تَحْضِيرٌ لِلاِخْتِيَارِ - الفَصْلُ ١١

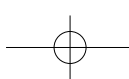


جَمْعُ العَشْرَاتِ وَطَرْحُهَا

الفصل ١٢

١٧٢.....	صَفْحَةُ الأَهْلِ
١٧٣.....	الدَّرْسُ الأَوَّلُ
١٧٥.....	الدَّرْسُ الثَّانِي
١٧٧.....	الدَّرْسُ الثَّالِثُ
١٧٩.....	الدَّرْسُ الرَّابِعُ
١٨١.....	الدَّرْسُ الخَامِسُ
١٨٣.....	الدَّرْسُ السَّادِسُ
١٨٥.....	مُرَاجَعَةٌ - الفَصْلُ ١٢
١٨٦.....	تَحْضِيرٌ لِلاِخْتِيَارِ - الفَصْلُ ١٢

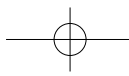
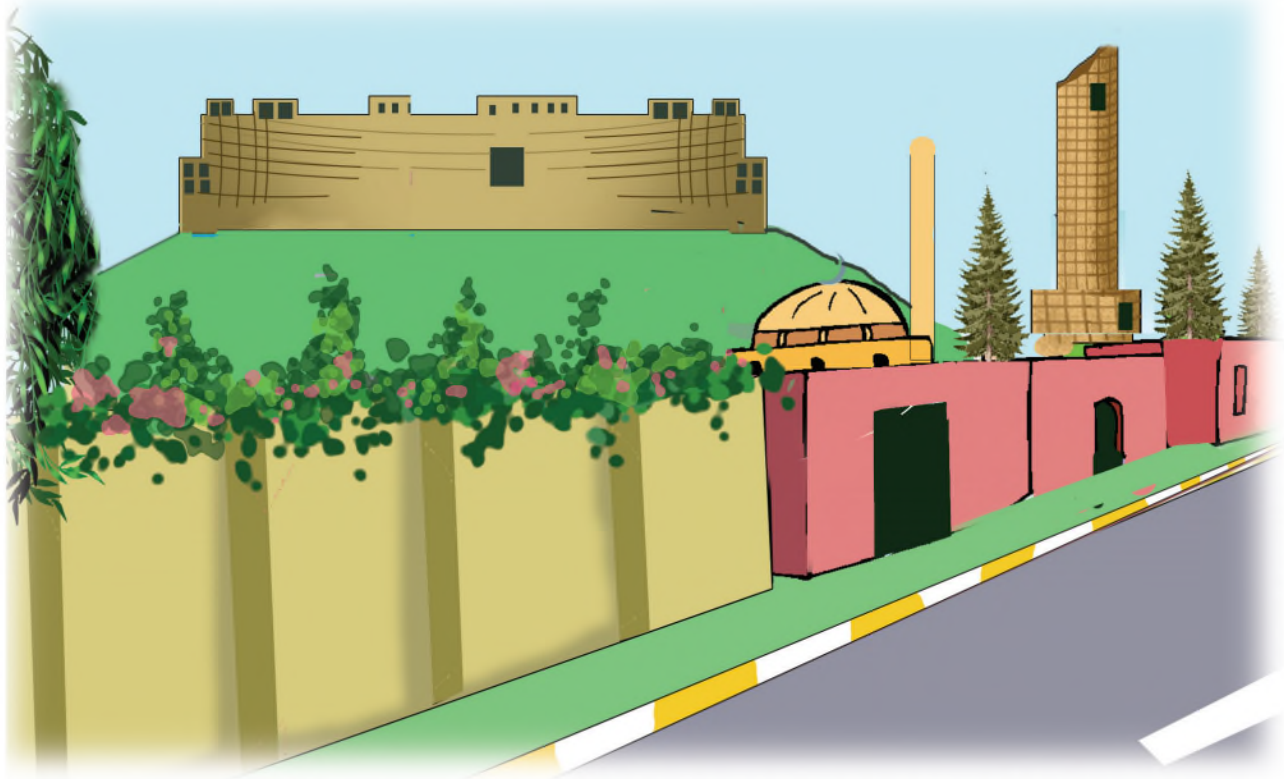


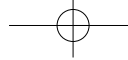


جَمْعُ وَطَرُحُ عَدَدَيْنِ

الفصل ١٣

١٨٨.....	صَفْحَةُ الْأَهْلِ
١٨٩.....	الدَّرْسُ الْأَوَّلُ
١٩١.....	الدَّرْسُ الثَّانِي
١٩٣.....	الدَّرْسُ الثَّلَاثُ
١٩٥.....	الدَّرْسُ الرَّابِعُ
١٩٧.....	الدَّرْسُ الْخَامِسُ
١٩٩.....	مُرَاجَعَةٌ - الْفَصْلُ ١٣
٢٠٠.....	تَحْضِيرٌ لِلِاخْتِيَارِ - الْفَصْلُ ١٣

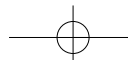




الفصل

١

المطابقة والعد: الأعداد من ١ إلى ٥





الأهل الأعزّاء،

اليومَ نبدأ الفصلَ ١ . سوف نتعلّم كيف نطابق
بين مجموعتين من الأشياء . سنتعلّم أيضاً الأعداد
من واحد إلى خمسة وكيف نكتبها ونرتبها . تحوي
هذه الصفحة المفردات الرياضية الجديدة
ونشاطاً نقوم به معاً في المنزل .
مع حبّي،

مُفرداتي الجديدةُ

أَكْثَرُ

أَقَلُّ

العددُ نفسهُ

نشاط

- اطلب إلى ولدك أن يعدّ معك .
- عندما تحضّر طاولة الطعام، اطلب إلى ولدك أن يطابق بين مجموعتين، كالملاعق والصحون، ليلاحظ أيهما أكثر وأيهما أقل وأي مجموعتين لهما العدد نفسه .

المفردات



أَقَلُّ

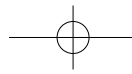
أَكْثَرُ

هناك عصافير أكثر من البيوت .
هناك بيوت أقل من العصافير .





العدد نفسه





عدد النحلّات هو العدد نفسه
للأزهار . كم نحلة أرى؟ أرى ثلاث
نحلّات .

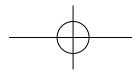


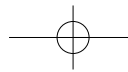
واحدٌ بواحدٍ

الدرس ١





أرسمُ خطًّا يدلُّ كلَّ سمكةٍ على وعائها.  
ألونُ علبةً لكلِّ حيوانٍ.  



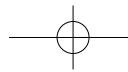


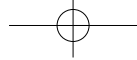
أَتَمَرُنْ



نشاط منزلي • أَلْفُ مَجْمُوعَةٍ أَشْيَاءَ، وَاطْلُبْ إِلَى وِلْدِكَ أَنْ يُؤَلِّفَ مَجْمُوعَةً فِيهَا الْعَدَدُ نَفْسَهُ.











أَرَسِمُ خَطًّا يَدُلُّ كُلَّ سَمَكَةٍ عَلَى وَعَائِهَا.
أَلْوَنُ عُلْبَةَ لِكُلِّ حَيَّوَانٍ.

















أَكْثَرُ، أَقَلُّ


الدرس ٢


					
					



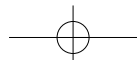









أَحْوَطُ الصَّفِّ الَّذِي يَحْوِي أَكْثَرَ. ★ 🐟
 أَحْوَطُ الصَّفِّ الَّذِي يَحْوِي أَقَلَّ. ♥ 🐡

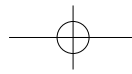


أَتَمَرُنْ






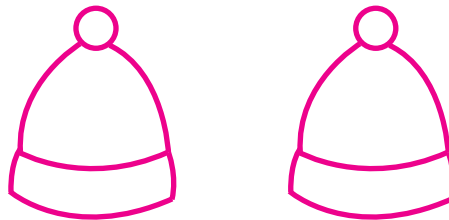

نشاط منزلي • أَلْفَ مَجْمُوعَةٍ أَشْيَاءَ، وَاطْلُبْ إِلَى وِلْدِكَ
أَنْ يُوَلِّفَ مَجْمُوعَةً عَدَدُ عُنَاصِرِهَا أَقَلُّ.

أَحْوَطُ الصَّفِّ الَّذِي يَحْوِي أَكْثَرَ. ★ 🐟
أَحْوَطُ الصَّفِّ الَّذِي يَحْوِي أَقَلُّ. 🐸 ❤️

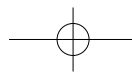


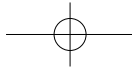
أَتَعَرَّفُ إِلَى ١ - ٢ - ٣

الدرس ٣


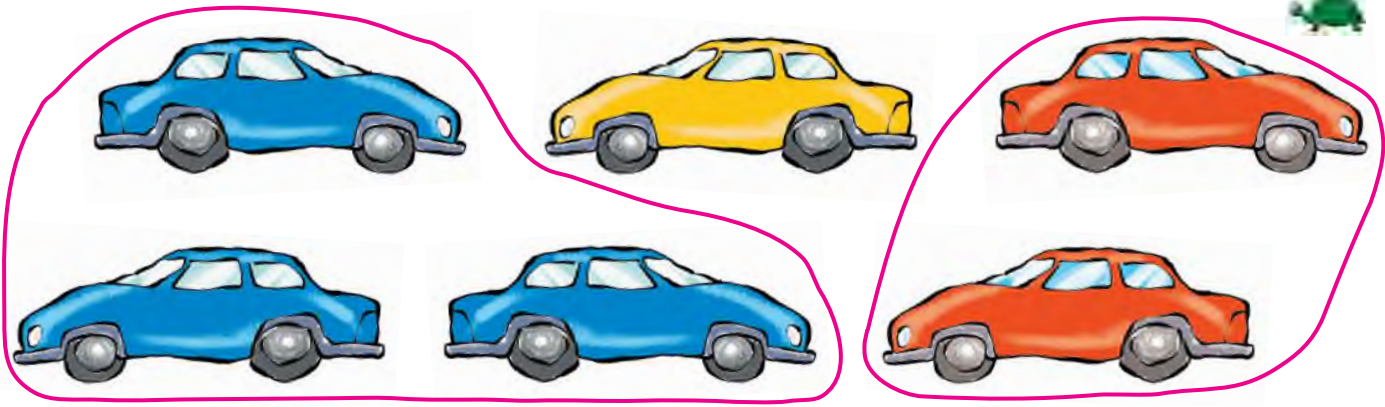
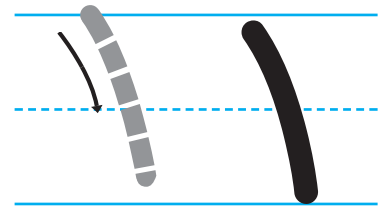
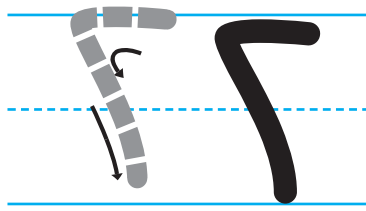
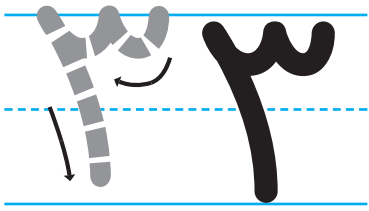


أَقْرَأُ الْعِدَدَ. أَرْسُمُ عِدَدًا مُسَاوِيًا مِنَ الْقُبْعَاتِ. 🌸 ❤️ ★ 🐢 🐟

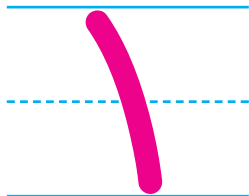




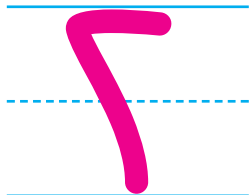
أَتَمَرُنْ



سَيَّارَاتُ زَرْقَاءُ






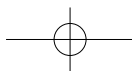
سَيَّارَاتُ صَفْرَاءُ

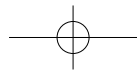


سَيَّارَاتُ حَمْرَاءُ

نَشَاطٌ مَنْزِلِيٌّ • اطلُبْ إِلَى وِلْدِكَ أَنْ يَجِدَ مَجْمُوعَاتٍ
مِنْ شَيْئَيْنِ وَمَجْمُوعَاتٍ مِنْ ثَلَاثَةِ أَشْيَاءٍ.

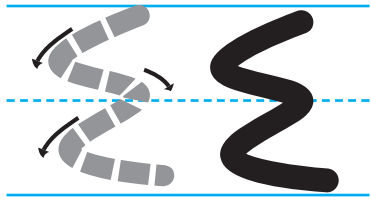
أَكْتُبِ الْعَدَدَ. 
أُحِيطُ السَّيَّارَاتِ الَّتِي لَهَا اللَّوْنُ نَفْسُهُ. 
أَكْتُبِ عَدَدَ السَّيَّارَاتِ مِنْ كُلِّ لَوْنٍ. 





أَتَعَرَّفُ إِلَى ٤ وَ ٥

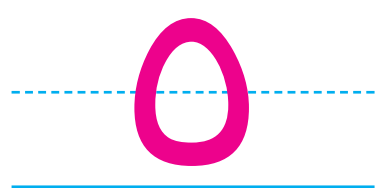

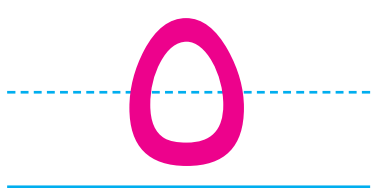
الدرس ٤



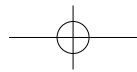
٥ ٤ ٣

٥ ٤ ٣

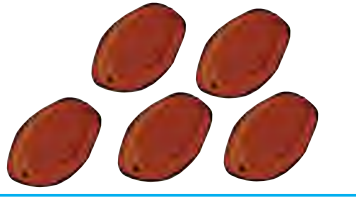
٥ ٤ ٣




● أعد. أكتب العدد.
♥ أعد كل مجموعة. أحط العدد المناسب.
★ أعد كل مجموعة. أكتب العدد المناسب.




أَمْرُن



٥



٤



٥




٥ ٤ ٣



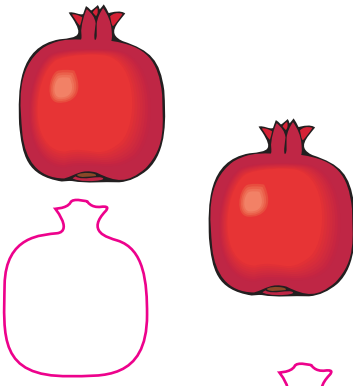
٥ ٤ ٣




٥ ٤ ٣



٤



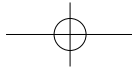
٤



٤

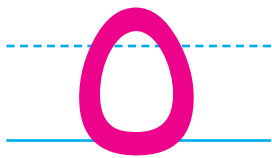



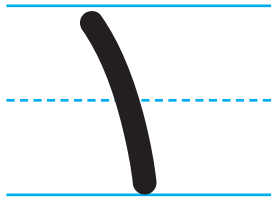
أرسم مجموعة من ٤ رمانات،
وأكتب العدد.

أعد كل مجموعة. أكتب العدد المناسب.
أعد كل مجموعة. أحط العدد المناسب.
أرسم مزيداً من الرمان، لأحصل على ٤ رمانات. أكتب العدد.

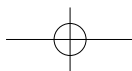


أرْتَبُ الأَعْدَادَ

الدرس ٥



أعدِّ الدَّبِيبَةَ فِي كُلِّ صَفٍّ. أَكْتُبُ الأَعْدَادَ.



أَتَمَرْنُ



٥



٤



٣




٥




٤



١



٤



٣



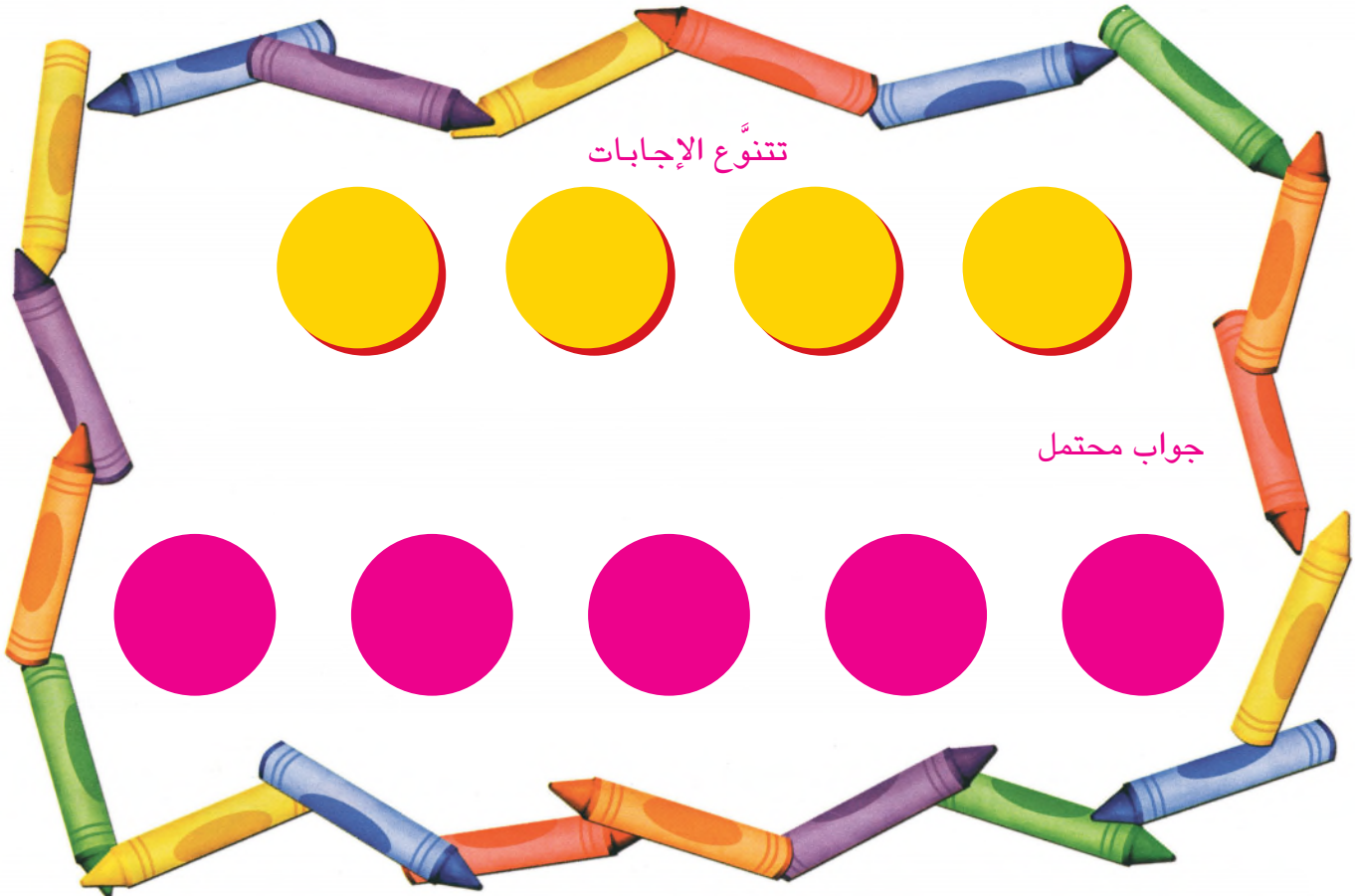

٢

نشاط منزلي • شكّل مجموعات من ١، ٢، ٣، ٤، ٥ قطع في خمسة أكواب صغيرة. اطلب إلى ولدك أن يرتب هذه الأكواب من ١ إلى ٥.

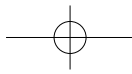
أعد الصور، وأقرأ الأعداد، وأكتب العدد التالي.

أَحَلُّ مَسْأَلَةً أَصْنَعُ نَمُودَجًا

الدرس ٦



أَسْتَعْمِلُ أَقْرَاصًا لِأُبَيِّنَ مَجْمُوعَةً أَكْثَرَ. أَرْسُمُ وَالْوَنُّ.



أَتَمَّرْنِ

تتنوع الإجابات

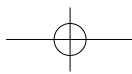
جواب محتمل

تتنوع الإجابات

جواب محتمل

نشاط منزلي • ضع بين يديّ ولديك مجموعة من الأشياء. اطلب إليه أن يشكل مجموعة أقلّ باستخدام أشياء أخرى.

أستعمل أقراصاً لأبين مجموعة أقلّ. أرسم واللون.



مُراجَعَة

الفصل ١

الاسم _____



٥

٤

٣



٤

٣

٢



٥

٤

٣



٤

٣

٢



٥



٤



٣

أحِطُ العَدَدَ المُناسِبَ.



أعدُّ التَّفاحاتِ، وأَقْرَأُ الأَعْدادَ، وَأَكْتُبُ العَدَدَ التَّالِي.



تَحْضِيرٌ لِلِإِخْتِبَارِ

الفصل ١

الاسم



١
واحد



٢
إثنان



٣
ثلاثة

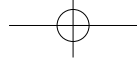


٤
أربعة



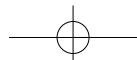
٥
خمسة

أحِطْ بِمَجْمُوعَةِ الدَّبِيبَةِ الَّتِي يَدُلُّ عَلَيْهَا الْعَدَدُ. 🌸 ❤️ ★ 🐸 🐟



الأعداد من ٦ إلى ٩ ثم الصفرة والعشرة

الفصل
٦





الأهل الأعزّاء،

اليومَ نبدأ الفصلَ ٢ . سندرس الأعداد من ٦ إلى ٩
ثمّ الصفرَ والعشرة، وسنطبق بين هذه الأعداد
ومجموعاتٍ من الأشياء . سنتعرّف إلى المجموعة
التي تحوي أكثر من غيرها أو أقلّ . تحوي هذه
الصفحة المفردات الرياضية الجديدة
ونشاطًا نقوم به معًا في المنزل .
مع حبّي،


مُفرداتي الجديدة

أكثر من
أقل من


ن ش ا ط

- قدّم إلى ولدك مجموعاتٍ تحوي
٦ و ٧ و ٨ و ٩ أشياء .
اطلب إليه أن يعدّ ما فيها .
- اطلب إليه أيضًا أن يقارن عدد
الأشياء في مجموعتين، ثمّ
اسأله: أي مجموعة تحوي أكثر؟
- أعط ولدك قطعتين من الحلوى .
اطلب إليه أن يأكل واحدةً
ويُعطيك الثانية .
اسأله: كم قطعة حلوى لديك
الآن؟

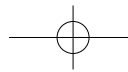
المفردات



أكثر من ٨ أكثر من ٧


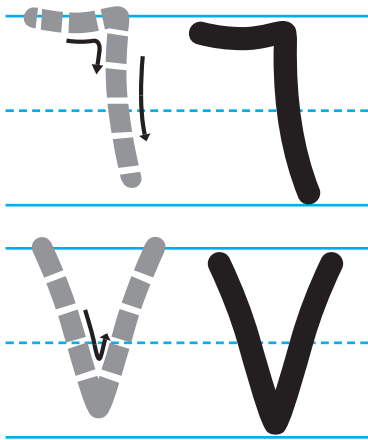


أقل من ٧ أقل من ٨



أَتَعَرَّفُ إِلَى ٦ وَ ٧

الدرس ١



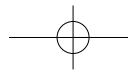
٧ ٦ ٥






٧ ٦ ٥



أَعِدُّ الْعَصَافِيرَ عَلَى كُلِّ غُصْنٍ، وَأَكْتُبِ الْعَدَدَ.
 أَعِدُّ الْعَصَافِيرَ فِي كُلِّ مَجْمُوعَةٍ. أَحِوِّطِ الْعَدَدَ الْمُنَاسِبَ.
 ارْسُمْ مَزِيدًا مِنَ الْبَيْضِ لِأَحْصِلَ عَلَى ٦. أَكْتُبِ الْعَدَدَ.
 ارْسُمْ مَزِيدًا مِنَ الْبَيْضِ لِأَحْصِلَ عَلَى ٧. أَكْتُبِ الْعَدَدَ.



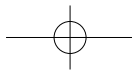
أَمْرُنْ



نشاط منزلي • نكّر ولدك بأن أيام
الأسبوع ٧. اشترك معه في تسمية الأيام.
اطلب إليه أن يرفع إصبعاً لكل يوم
يسميه، وأن يعد أصابعه المرفوعة.



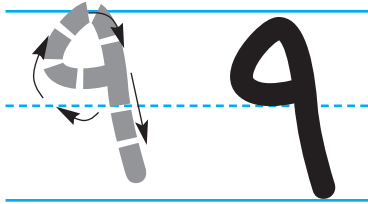
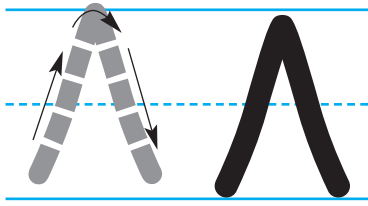
أكتب ٦. أرسم مزيداً من الطيور لأحصل على ٧. أكتب العدد.
أحوظ العدد المناسب. أكتب ٧.





أَتَعَرَّفُ إِلَى ٨ وَ ٩

الدرس ٢

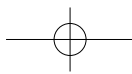


أَعِدُّ النِّوَافِذَ فِي الطَّائِرَةِ، وَأَكْتُبْ ٨. 




أَعِدُّ النِّوَافِذَ فِي الطَّائِرَةِ، وَأَكْتُبْ ٩.

أَرَسِّمْ مَزِيدًا مِنَ النِّوَافِذِ لِأَحْصِلَ عَلَى ٨. 

أَرَسِّمْ مَزِيدًا مِنَ النِّوَافِذِ لِأَحْصِلَ عَلَى ٩. 




أَتَمَرُنْ



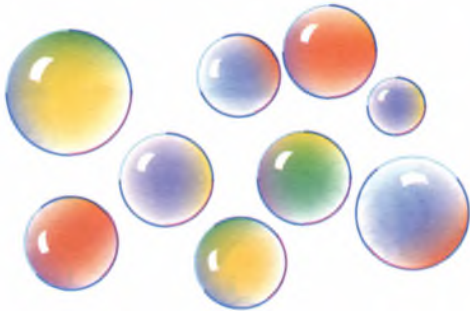
٩

٨



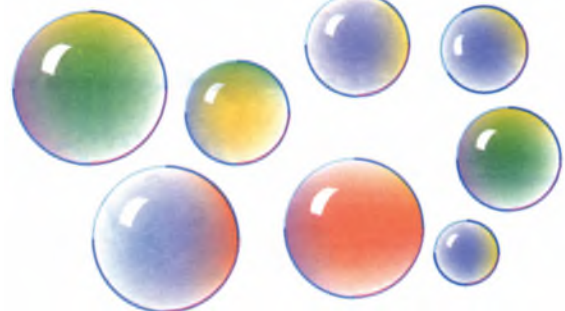
٩

٧



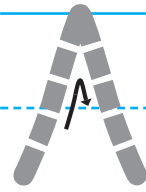
٩






٦

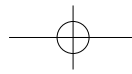


٩

٨

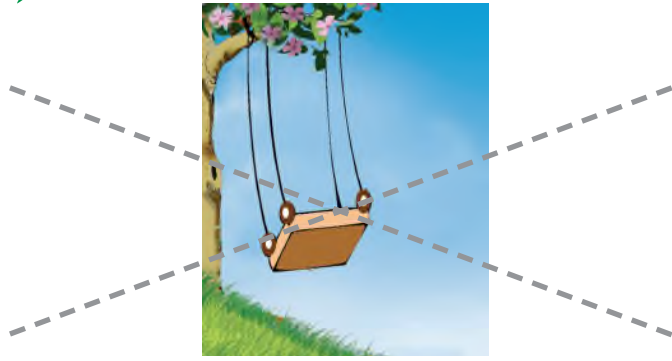


أعدّ الفقاعات في كل مجموعة. أكتب العدد.  نشاط منزلي • اطلب إلى ولدك أن يعدّ الأرجل في كرسيين. ساعده على اكتشاف أشياء أخرى تظهر فيها مجموعة من ٨.    أكتب ٨.  أكتب ٩.



أَتَعَرَّفُ إِلَى الصَّفْرِ


الدرس ٣



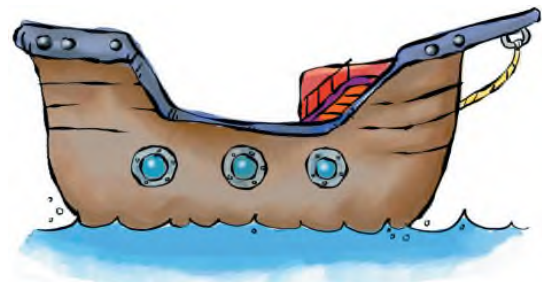
٢





٢





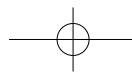
٣

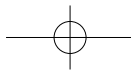


٣

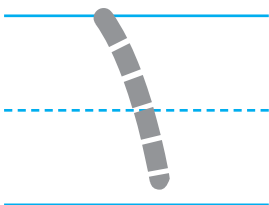
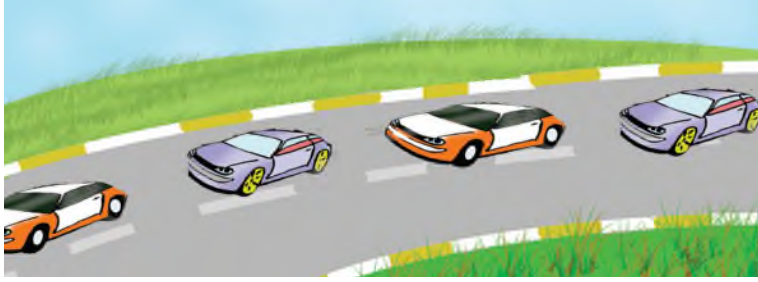
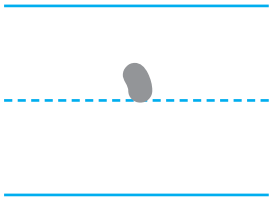
أَضَعُ X عَلَى بَيْتِ الْعَصَافِيرِ حَيْثُ لَا يَوْجَدُ عَصَافِيرٌ. 
أُحَوِّطُ عِدَدَ النَّوَافِذِ فِي كُلِّ سَفِينَةٍ. 

أَضَعُ X عَلَى الْأَرْجُوحةِ حَيْثُ لَا يَوْجَدُ أَوْلَادٌ. 
أُحَوِّطُ عِدَدَ الْعَصَافِيرِ فِي كُلِّ عَشٍ. 



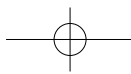


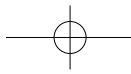
أَتَمَرُنْ



نشاط منزلي • ضع ٤ ثمرات في صحن، واطلب إلى ولدك أن يعدها. اسحب ثمرة واطلب إليه أن يعد الباقي. كرر العملية حتى يفرغ الصحن. تأكد من استعمال ولدك للعدد صفر.





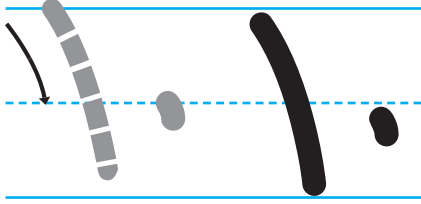
أعد السيّارات. اكتب العدد.





أَتَعَرَّفُ إِلَى ١٠

الدرس



١٠ ٩ ٨

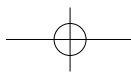


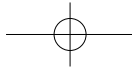
أَعِدُّ الْفَرَاشَاتِ. أَحِوِّطُ الْعِدَدَ الْمُنَاسِبَ. ♥

أَكْتُبُ ١٠. ♣

أَعِدُّ النَّحْلَاتِ. أَكْتُبُ ١٠. 🐝

أَرَسِّمُ مَزِيدًا مِنَ النَّحْلِ لِأَحْصِلَ عَلَى ١٠. ★ 🐢







أَتَمَرُنْ



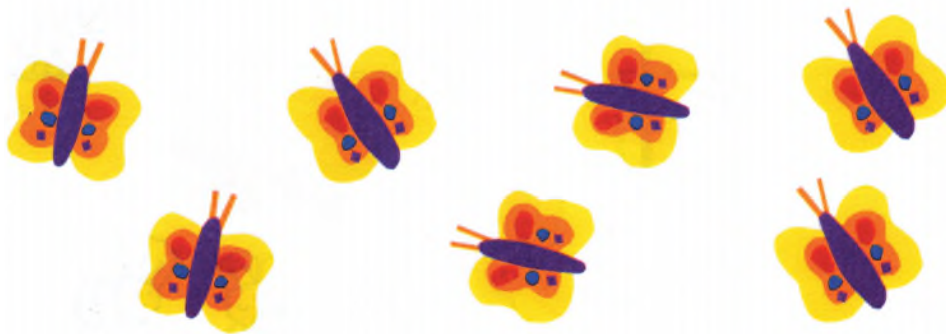
١٠ ٩ ٨



٧ ٦ ٥



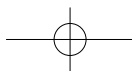
١٠ ٩ ٨

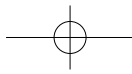


٨ ٧ ٦

نَشَاطٌ مَّنْزِلِيٌّ • اطلُبْ إِلَى وِلَدِكَ أَنْ يَعِدَّ أَصَابِعَ يَدَيْهِ وَيَكْتُبَ الْعَدَدَ.

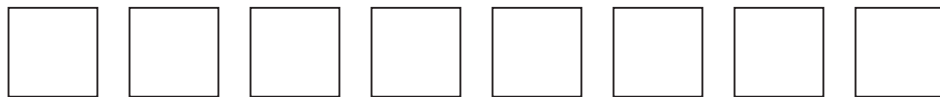
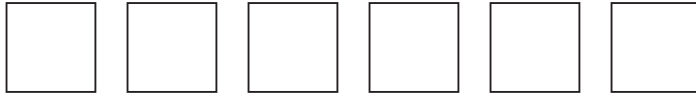
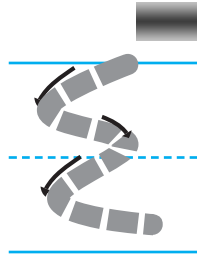
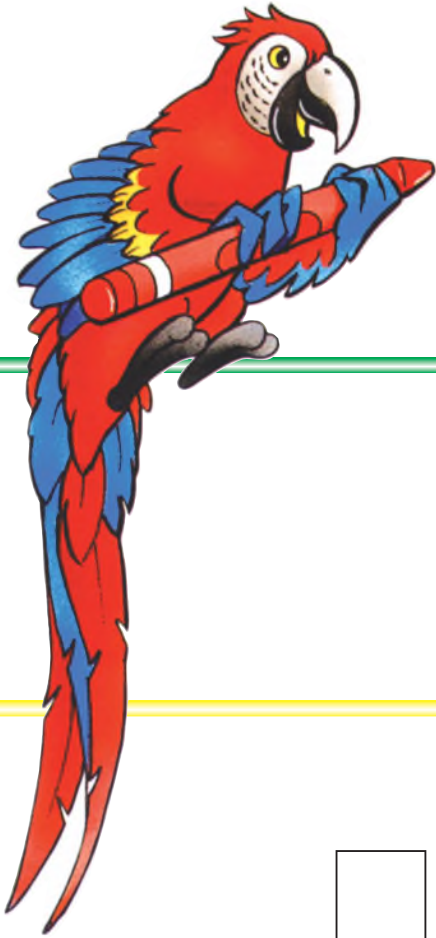
أُحِوْطُ الْعَدَدَ الْمُنَاسِبَ. ♥ ★ 🐢 🐟



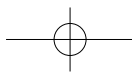


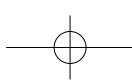
أرْتَبُ الأَعْدَادَ

الدرس ٥



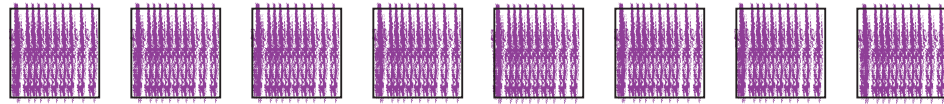
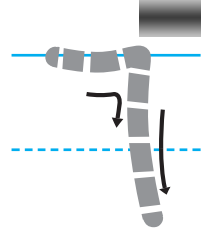



أَعِدُّ المَرَبَّعَاتِ وَالْوَنُهَا. أَكْتُبُ عَدَدَهَا. 🌸 ❤️ ★ 🐢



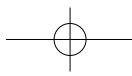


أَتَمَّرْنِ



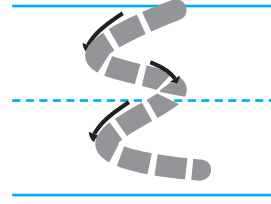

نشاط منزلي • رتب قطعاً من الميكانو (أو أي شيء آخر) بعضها فوق بعض، لتؤلف مجموعات من ٦ و ٧ و ٨ و ٩ و ١٠ قطع. اطلب إلى ولدك أن يرتب هذه المجموعات من الأقل إلى الأكثر.

أعد المربعات وأكتب عددها. 🌸 ❤️ ★ 🐢 🐟





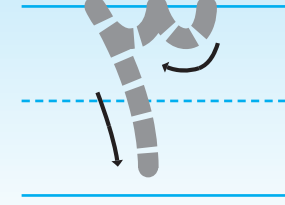

أَحِلُّ مَسْأَلَةً أَصْنَعُ نَمُودَجًا

الدرس ٦



أَشَكِّلُ قِطَارًا مِنْ ١٠ مَكْعَبَاتٍ. أَفْصِلُ الْقِطَارَ قِسْمَيْنِ أَحَدُهُمَا أَطْوَلُ مِنَ الْآخَرِ. أَضَعُ الْقِسْمَيْنِ عَلَى لَوْحَةِ الْعَمَلِ. أَعِدُّ وَأَرْسُمُ الْمَكْعَبَاتِ فِي كُلِّ قِسْمٍ، وَأَكْتُبُ الْعِدَدَ. أَحِطُّ الْعِدَدَ الَّذِي يَدُلُّ عَلَى الْأَكْثَرِ.

أَتَمَرْنُ



نشاط منزلي • اطلب إلى ولدك أن يشكّل مجموعتين متساويتين مستعملاً ١٠ قطع من النقود. اسحب قطعة من إحدى المجموعتين وألحقها بالمجموعة الثانية. اطلب إليه أن يدلّ على المجموعة الأكثر.

★ 🐞 🐟 أشكّل قطاراً من ١٠ مكعبات. أفصل القطار قسمين أحدهما أطول من الآخر. أضع القسمين على لوحة العمل. أعد وأرسم المكعبات في كل قسم وأكتب العدد. أحوط العدد الذي يدلّ على الأكثر.

مُرَاجَعَةٌ

الفصل ٢

الإسم _____

٨ ٧ ٦



١٠ ٩ ٨



٩ ٨ ٧



٩ ٨ ٦



أحوظ العدد المناسب. ♥ ★ 🐸 🐟

تَحْضِيرٌ لِلِإِخْتِبَارِ

الفصل ٢

الاسم



أَصِلْ بَيْنَ النُّقْطِ بِالتَّسْلُوسِ. أَلْوَنِ الصُّورَةَ.

الأعداد من ١١ إلى ٣٠

الفصل

٣





الأهل الأعزّاء،

اليومَ نبدأ الفصلَ ٣ . سندرس فيه الأعداد
من ١١ إلى ٣٠، وسوف نستكشف هذه الأعداد
على لوحة العشرة . تحوي هذه الصفحة مفردة
رياضية جديدة ونشاطاً نقوم به معاً
في المنزل .

مع حُبّي،

مُفرداتي الجديدةُ

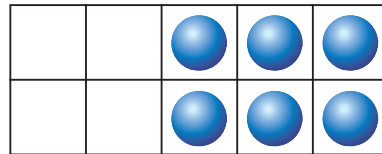
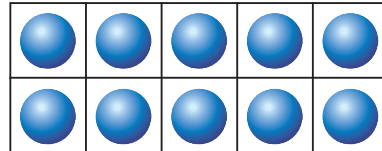
لُوحَةُ العَشْرَةِ



• عدّ بِشكْلِ مَسْمُوعٍ، وَاجْعَلْ
وَلَدَكَ يُشَارِكُ فِي العَدِّ.

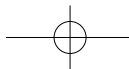
المفردات

لُوحَةُ العَشْرَةِ




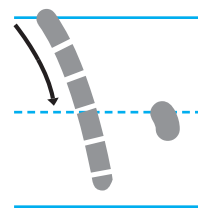
١٦ هي عَشْرَةٌ وَسِتَّةٌ

تُسْتَعْمَلُ لُوحَةُ العَشْرَةِ لِبناءِ
صورةٍ ذهنيّةٍ للعَشْرَةِ عِنْدَ التِّلْمِيزِ.



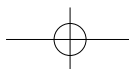
مجموعات من ١٠

الدرس ١




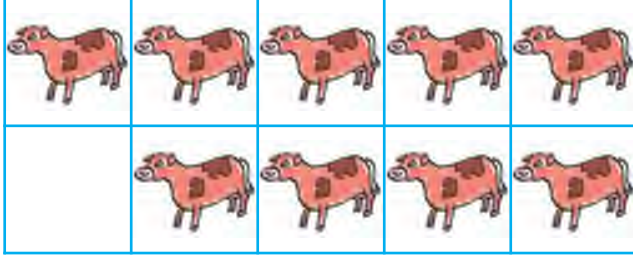


١٠ ٩ ٨

- أضع ١٠ أقراص على لوحة العشرة. أكتب العدد.
- أحط المجموعة المولفة من ١٠ أشياء.
- أحط العدد المناسب للمجموعة.






أَمْرُنْ

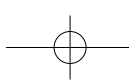


١٠ ٩ ٨

١٠ ٩ ٨



نشاط منزلي • ارسم لوحة العشرة على ورقة.
مثل الأعداد من واحد إلى عشرة عليها مستعملاً
أشياء صغيرة. واسأل ولدك كل مرة هل اللوحة
تمثل مجموعة من عشرة؟

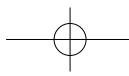
أحط المجموعة المؤلفة من ١٠ أشياء. 
أرسم مزيداً من العناصر لأحصل على ١٠. 
أحط العدد المناسب. 




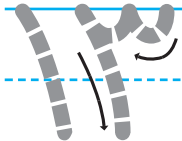
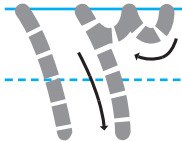
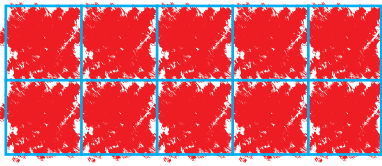


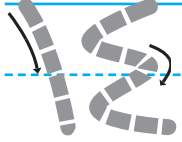
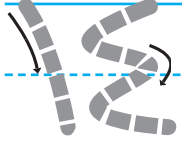


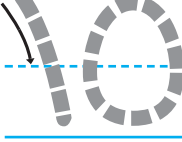
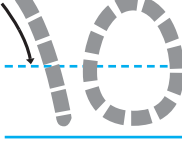

الأعداد من ١١ إلى ١٥

الدرس ٢

أضع عشرة أقراص على لوحة العشرة. 
 أضع قرصاً على اللوحة الثانية. أكتب العدد.
 أرسم مزيداً من الصيغان حتى ١٢. أكتب العدد. 



أَتَمَّرْنِ

 <table border="1" style="width: 100%; height: 60px;"> <tr><td></td><td></td><td></td><td></td><td></td></tr> <tr><td></td><td></td><td></td><td></td><td></td></tr> </table> <table border="1" style="width: 100%; height: 60px;"> <tr><td></td><td></td><td></td><td></td><td></td></tr> <tr><td></td><td></td><td></td><td></td><td></td></tr> </table>																					 	  <table border="1" style="width: 100%; height: 60px;"> <tr><td></td><td></td><td></td><td></td><td></td></tr> <tr><td></td><td></td><td></td><td></td><td></td></tr> </table>										
 <table border="1" style="width: 100%; height: 60px;"> <tr><td></td><td></td><td></td><td></td><td></td></tr> <tr><td></td><td></td><td></td><td></td><td></td></tr> </table> <table border="1" style="width: 100%; height: 60px;"> <tr><td></td><td></td><td></td><td></td><td></td></tr> <tr><td></td><td></td><td></td><td></td><td></td></tr> </table>																					 	 <table border="1" style="width: 100%; height: 60px;"> <tr><td></td><td></td><td></td><td></td><td></td></tr> <tr><td></td><td></td><td></td><td></td><td></td></tr> </table>										
 <table border="1" style="width: 100%; height: 60px;"> <tr><td></td><td></td><td></td><td></td><td></td></tr> <tr><td></td><td></td><td></td><td></td><td></td></tr> </table> <table border="1" style="width: 100%; height: 60px;"> <tr><td></td><td></td><td></td><td></td><td></td></tr> <tr><td></td><td></td><td></td><td></td><td></td></tr> </table>																					 	 <table border="1" style="width: 100%; height: 60px;"> <tr><td></td><td></td><td></td><td></td><td></td></tr> <tr><td></td><td></td><td></td><td></td><td></td></tr> </table>										

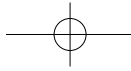
أَلُونُ ١٠ مَرَبَّعَاتٍ ثُمَّ ٣. أَكْتُبُ الْعَدَدَ.
 أَلُونُ ١٠ مَرَبَّعَاتٍ ثُمَّ ٤. أَكْتُبُ الْعَدَدَ.
 أَلُونُ ١٠ مَرَبَّعَاتٍ ثُمَّ ٥. أَكْتُبُ الْعَدَدَ.



أَعِدُّ الْمَرَبَّعَاتِ الْمُلَوَّنَةَ. أَكْتُبُ الْعَدَدَ.
 أَلُونُ ٤ مَرَبَّعَاتٍ إِضَافِيَّةً. أَكْتُبُ الْعَدَدَ.
 أَلُونُ ٥ مَرَبَّعَاتٍ إِضَافِيَّةً. أَكْتُبُ الْعَدَدَ.




نَشَاطٌ مَنْزِلِيٌّ • ارْسُمْ لَوْحَتِي عَشْرَةَ عَلَى وَرَقَةٍ. اظْلُبْ إِلَى وَلَدِكَ أَنْ يَبِينَنَّ الْأَعْدَادَ ١١ وَ ١٢ وَ ١٣ وَ ١٤ وَ ١٥ عَلَى التَّوَالِي بِاسْتِعْمَالِ اللَّوْحَتَيْنِ وَأَشْيَاءٍ مِثْلِ أَرْزَارِ الْقَمِيصِ.




الأعداد من ١٦ إلى ٢٠


الدرس ٣




Handwriting practice for the number 16. It includes a large number 16 with stroke order arrows, a dashed number 16 for tracing, and two 2x5 grids for independent practice.




Handwriting practice for the number 16. It includes a large number 16 with stroke order arrows, a dashed number 16 for tracing, and two 2x5 grids. The top grid contains five green pencils in each cell, and the bottom grid contains a dashed diagonal line in the last cell.




Handwriting practice for the number 19. It includes a large number 19 with stroke order arrows, a dashed number 19 for tracing, and two 2x5 grids.



Handwriting practice for the number 19. It includes a large number 19 with stroke order arrows, a dashed number 19 for tracing, and two 2x5 grids. The top grid contains five red apples in each cell, and the bottom grid contains a dashed number 9 in the last cell.

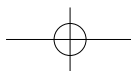


Handwriting practice for the number 20. It includes a large number 20 with stroke order arrows, a dashed number 20 for tracing, and two 2x5 grids.




Handwriting practice for the number 20. It includes a large number 20 with stroke order arrows, a dashed number 20 for tracing, and two 2x5 grids. The top grid contains five blue fish in each cell, and the bottom grid contains a dashed number 0 in the last cell.


- ٦ أرسم أقلام زيادة على العشرة. أكتب عدد الأقلام. 🐢
 ٨ أرسم تفاحات زيادة على العشرة. أكتب العدد. ❤️
 ١٠ أرسم سمكات زيادة على العشرة. أكتب العدد. 🐟
 ٧ أرسم ١٠ أزرار ثم ٧ أزرار. أكتب العدد.
 ٩ أرسم ١٠ قلوب ثم ٩ قلوب. أكتب العدد. ★
 ٢٠ أرسم ٢٠ كعكة. أكتب العدد. 🌸




أَمْرُنْ




١٤ ١٣ ١٢



١٦ ١٥ ١٤



١٨ ١٧ ١٦




٢٠ ١٩ ١٨


نشاط منزلي • قص من كرتونة بيض قسمين، في كل قسمة عشرة مواضع. اطلب إلى ولدك أن يمثل العدد ١٦ بأشياء صغيرة ومرة ثانية العدد ١٨ (كحبات الحمص).


أعد. أحوط العدد المناسب. أكتب العدد.

أَحُلُّ مَسْأَلَةٍ أَقْدَرُ

الدرس ٤



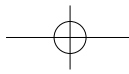
أحوط الوعاء الذي يحتوي على ٢٠ ثمرة تقريباً. 

أحوط الوعاء الذي يحتوي على أقل من ٢٠ كرة زجاجية. 

أَتَمَرْنُ







● أَحُوْطُ الْوِعَاءِ الَّذِي يَحْتَوِي عَلَى أَقَلِّ مِنْ ٢٠ كُرَّةٍ زُجَاجِيَّةٍ. **نَشَاطٌ مَنْزِلِيٌّ** • اطلُبْ إِلَى وِلَدِكَ أَنْ يَضَعَ ١٠
 حَبَّاتِ فَاصُولِيَا فِي وَعَاءٍ، وَعَدَدًا آخَرَ غَيْرِ مُحَدَّدٍ. أَحُوْطُ الْوِعَاءِ الَّذِي يَحْتَوِي عَلَى أَقَلِّ مِنْ ١٠ كُرَاتٍ زُجَاجِيَّةٍ.
 ★ أَحُوْطُ الْوِعَاءِ الَّذِي يَحْتَوِي عَلَى أَكْثَرَ مِنْ ٢٠ كُرَّةٍ زُجَاجِيَّةٍ. مِنْ حَبَّاتِ الْفَاصُولِيَا فِي وَعَاءٍ وَيَقْدِّرْ عَدَدَهَا.
 ثُمَّ اطلُبْ إِلَيْهِ أَنْ يَعِدَّ الْحَبَّاتِ الَّتِي قَدَّرَ عَدَدَهَا.



الأعدادُ مِنْ ٢١ إلى ٢٥




















الدرس ٥

٢١



٢٢



٢٣





														
														

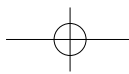


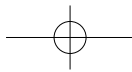
٢٤



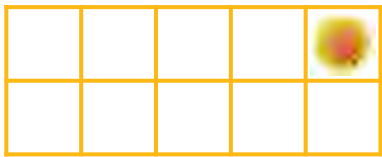


-  أَعِدُّ السَّلَالَ، ارْسُمْ سَلَّةَ زِيَادَةٍ لِأَحْصَلَ عَلَى ٢١. اَكْتُبِ الْعَدَدَ.
 أَعِدُّ الْمِرْشَاتِ، ارْسُمْ ٢ زِيَادَةً لِأَحْصَلَ عَلَى ٢٢. اَكْتُبِ الْعَدَدَ.
 أَعِدُّ الشُّمُوسَ، ارْسُمْ ٣ زِيَادَةً لِأَحْصَلَ عَلَى ٢٣. اَكْتُبِ الْعَدَدَ.
 أَعِدُّ الْقُبْعَاتِ، ارْسُمْ ٥ زِيَادَةً لِأَحْصَلَ عَلَى ٢٥. اَكْتُبِ الْعَدَدَ.






أَتَمَّرْنُ



٢١

٢٠



٢٣

٢٢



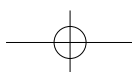
٢٥

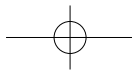
٢٤



نشاط منزلي • اطلب إلى ولدك أن يتعرف إلى الأعداد ٢١ و ٢٢ و ٢٣ و ٢٤ و ٢٥ على صفحات أحد الكتب.

أحط العدد المناسب.










الأعداد من ٢٦ إلى ٣٠

الدرس ٦



٢٧

٢٦



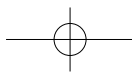
٣٠

٢٩




أعد الثمار، أرسم ٩ زيادة لأحصل على ٢٩. ★
أحوظ العدد المناسب. ♥

أحوظ العدد المناسب. 🐟
أعد الثمار، أرسم ٧ زيادة لأحصل على ٢٧. 🐢



أَتَمَرُنْ



٢٧ ٢٦ ٢٥



٢٨ ٢٧ ٢٦



٢٩ ٢٨ ٢٧



٣٠ ٢٩ ٢٨



نشاط منزلي • اكتب على قطع صغيرة من الكرتون
الاعداد من ١ إلى ٣٠ وضعها بالترتيب، اطلب إلى ولدك
أن يجد عدد يقع بين ٢١ و ٣٠ وليتعرف عليه وهكذا.

أحوظ العدد المناسب. ♥ ★ 🐢 🐟

مُرَاجَعَةٌ

الفصل ٣

الإسم _____

١٤

١٣

		X	X	X

X	X	X	X	X
X	X	X	X	X

١٨

١٧

X	X	X	X	X
			X	X

X	X	X	X	X
X	X	X	X	X

٢٥

٢٤

X	X	X	X	X

X	X	X	X	X
X	X	X	X	X

X	X	X	X	X
X	X	X	X	X

٢٨

٢٧

X	X	X	X	X
			X	X

X	X	X	X	X
X	X	X	X	X

X	X	X	X	X
X	X	X	X	X

٣٠

٢٩

X	X	X	X	X
X	X	X	X	X

X	X	X	X	X
X	X	X	X	X


X	X	X	X	X
X	X	X	X	X



أعدُّ أحوط العدد المناسب. 🌸 ❤️ ★ 🐢 🐟

تَحْضِيرٌ لِلِإِخْتِبَارِ

الفصل ٣

الاسم _____




<p>_____</p> <p>-----</p> <p>_____</p>	
<p>_____</p> <p>-----</p> <p>_____</p>	

أعد السمكات الكبيرة وأكتب العدد.
أعد السمكات الصغيرة وأكتب العدد.



الْجَمْعُ

الفصل ٤





الأهل الأعزّاء،

اليومَ نبدأ الفصلَ ٤ . سنتعلم الجمعَ من خلال
قصصٍ ورسومٍ . وسنكتبُ جُملاً جمح . تحوي هذه
الصفحة المفردات الرياضية الجديدة ونشاطاً
نقوم به معاً في المنزل .

مُفرداتي الجديدةُ

المجموعُ زائد
جُملةُ جمحٍ يُساوي

معَ حُبّي،

ن ث ا ط

اطلُبْ إلى وِلْدِكَ أَنْ يُؤَلِّفَ جُمْلَ جَمْعٍ
مُسْتَعْمِلاً أَشْيَاءَ مِنَ الْمَنْزِلِ . يَسْتَطِيعُ
وِلْدُكَ مِثْلًا أَنْ يُرِيكَ حِذَائِينَ، ثُمَّ
حِذَائِينَ آخَرِينَ، وَيَعْبُرُ عَنْ ذَلِكَ
بِجُمْلَةٍ جَمْعٍ: $٤ = ٢ + ٢$.

المفردات



يُساوي

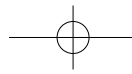
زائد

$$٥ = ١ + ٤$$

المجموعُ

جُملةُ جمحٍ

$$٥ = ١ + ٤ \text{ هي}$$



حِكَايَاتٌ عَنِ الْجَمْعِ

الدرس ١

أَسْتَعْمِلُ ● لَأُمَثِّلَ الْحِكَايَةَ.
أُرْسِمُ ● أَكْتُبُ الْعِدَدَ.

١







الْكُلُّ أَتَى عَصْفُورٌ آخَرُ عَصْفُورٌ





٢



الْكُلُّ جَاءَتِ حَمَامَتَانِ حَمَامَةٌ

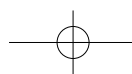
٣

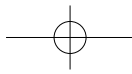





الْكُلُّ جَاءَتِ نَحْلَةٌ نَحْلَتَانِ

تَحَدَّثُ ■ اسْتِدْلَالٌ

ماذا يحدثُ إذا أضفتَ أشياءَ إلى مجموعةٍ؟



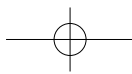


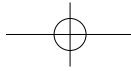
أَتَمَرْنُ

أَسْتَعْمِلُ ● لِأُمْتَلَّ الْحِكَايَةَ.
أَرْسُمُ ● أَكْتُبُ الْأَعْدَادَ.



نشاط منزلي • اطلب إلى ولدك أن يحكي
حكاية جمع عن كل صورة.



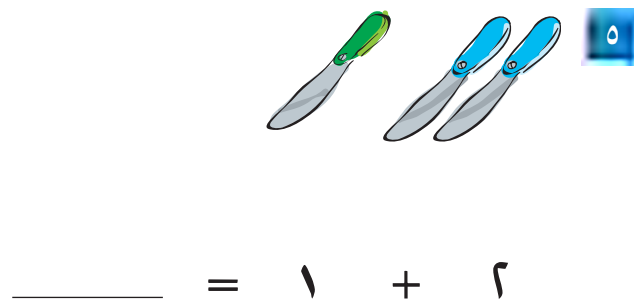

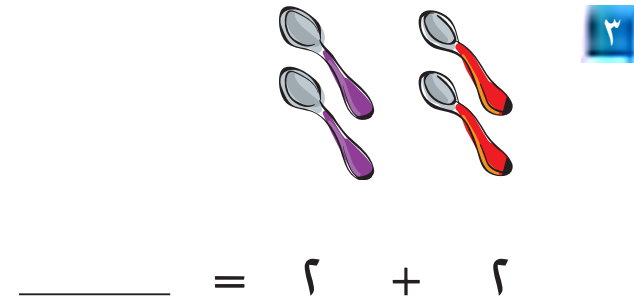
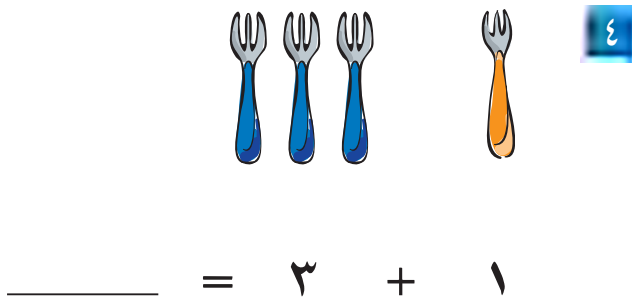
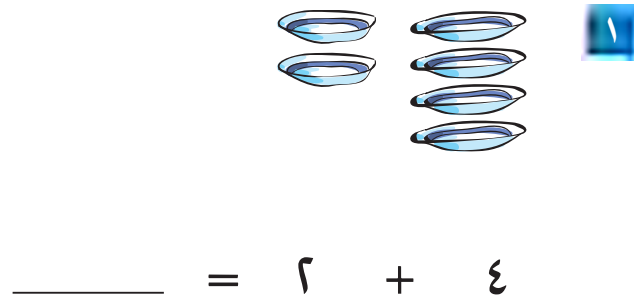
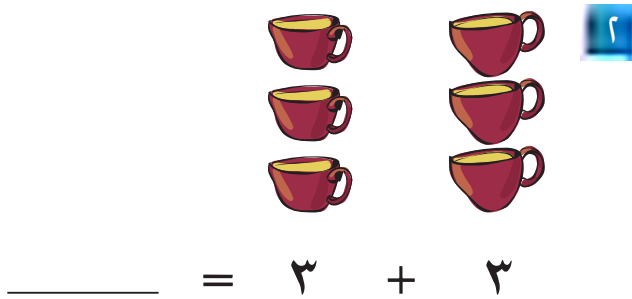


أنا أجمعُ

الدرس ٢

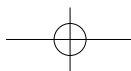


أجمعُ. أكتبُ المجموعَ.



تحدّثُ ■ استدلالٌ


كيفَ تجدُ المجموعَ ٤ + ١ دونَ استعمالِ الصُّورِ؟ بيِّنْ ذلكَ.



أَتَمَّرُنْ

أَكْتُبْ جُمْلَةَ الْجَمْعِ.


٢



_____ ○ _____ ○ _____

سَرَاطِينِ

١




_____ ○ _____ ○ _____

سَرَاطِينِ

0 = ٣ + ٦


٤



_____ ○ _____ ○ _____

سَرَاطِينِ


٣



_____ ○ _____ ○ _____

سَرَاطِينِ


٦



_____ ○ _____ ○ _____

سَمَكَاتِ

٥



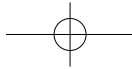
_____ ○ _____ ○ _____

سَمَكَاتِ

أَكْتُبْ


أَرَسِّمْ صُورًا تُبَيِّنُ حِكَايَةَ جَمْعٍ.
أَكْتُبْ جُمْلَةَ جَمْعٍ عَنِ هَذِهِ الْحِكَايَةِ.

نَشَاطٌ مَنْزِلِي • اظْلُبْ إِلَى وِلْدِكَ أَنْ يَسْتَعْمَلَ أَشْيَاءَ صَغِيرَةً، كَحُبُوبِ الْفُولِ، أَوِ الْأَزْرَارِ... لِيَمَثِّلَ بِهَا حِكَايَاتِ الْجَمْعِ عَلَى هَذِهِ الصَّفْحَةِ.



أزِيدُ صِفْرًا

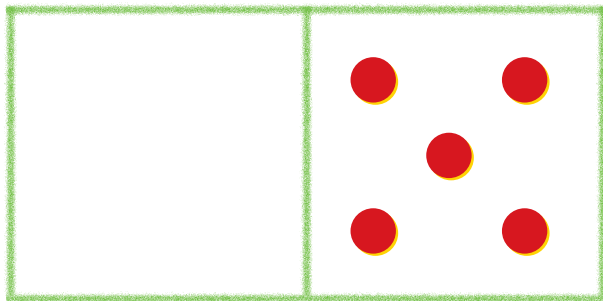
الدرس ٣



$$٣ = ٠ + ٣$$

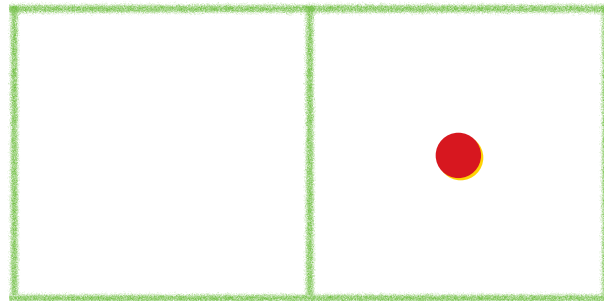
أزِيدُ صِفْرًا. أَكْتُبُ الْمَجْمُوعَ.

٢



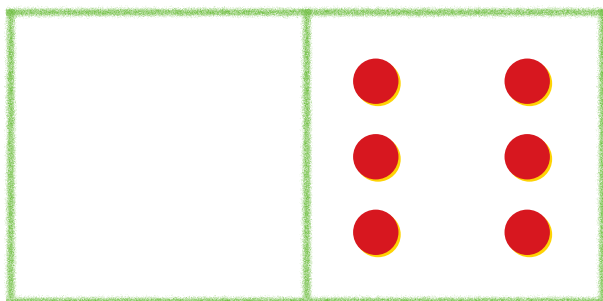
$$\underline{\hspace{2cm}} = ٠ + ٥$$

١



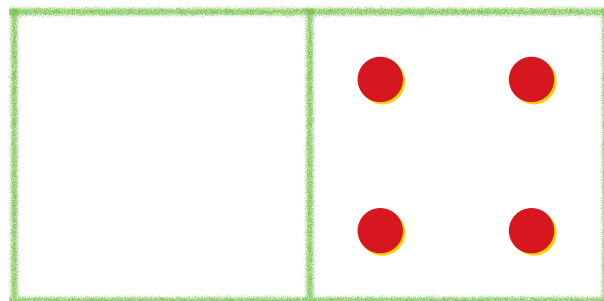
$$\underline{\hspace{2cm}} = ٠ + ١$$

٤



$$\underline{\hspace{2cm}} = ٠ + ٦$$

٣

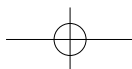


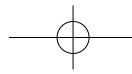
$$\underline{\hspace{2cm}} = ٠ + ٤$$



تَحَدَّثُ ■ اسْتَدْلَالٌ

ماذا يَنْتُجُ عِنْدَمَا نَزِيدُ صِفْرًا عَلَى عَدَدٍ؟ لِمَاذَا؟





أَتَمَّرُنْ

أَرَسُمُ دَوَائِرَ لِكُلِّ عَدَدٍ. أَكْتُبُ الْمَجْمُوعَ.

3 = 2 + 1

2 = 1 + 1

1 = 0 + 1

_____ = 2 + 3

_____ = 1 + 3

_____ = 0 + 3

_____ = 2 + 4

_____ = 1 + 4

_____ = 0 + 4



أَحِلُّ مَسْأَلَةٌ ■ اسْتِدْلَالٌ

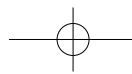
٤ أَحْوَطُ جُمْلَةَ الْجَمْعِ ذَاتِ الْمَجْمُوعِ الْأَكْبَرِ.
أَكْتُبُ الْمَجْمُوعَ لِأَتَحَقَّقَ.

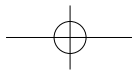
_____ = 0 + 6

_____ = 2 + 6

_____ = 1 + 6

نَشَاطٌ مَنْزِلِيٌّ • اظْلُبْ إِلَى وَلَدِكَ أَنْ يُخْبِرَكَ عَنِ الْمَجَامِيعِ مِنْ ١ + ٠ حَتَّى ٠ + ٦.





أُرَكِّبُ أَعْدَادًا

الدرس ٤

--	--	--	--	--	--	--



هناك أكثر من طريقة
لتركيب العدد ٧.

أَسْتَعْمِلُ ■ وَ ■ لَأُرَكِّبَ ٧. أُلَوِّنُ. أَكْتُبُ جُمْلَةَ الْجَمْعِ.

--	--	--	--	--	--	--	--

٢

--	--	--	--	--	--	--	--

١

_____ ○ _____ ○ _____



أَسْتَعْمِلُ ■ وَ ■ لَأُرَكِّبَ ٨. أُلَوِّنُ. أَكْتُبُ جُمْلَةَ الْجَمْعِ.

--	--	--	--	--	--	--	--

٤

--	--	--	--	--	--	--	--

٣

_____ ○ _____ ○ _____



أَسْتَعْمِلُ ■ وَ ■ لَأُرَكِّبَ ٩. أُلَوِّنُ. أَكْتُبُ جُمْلَةَ الْجَمْعِ.

٦

٥

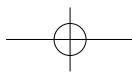
_____ ○ _____ ○ _____

_____ ○ _____ ○ _____

تَحَدَّثْ ■ اسْتَدْلِلْ

لَدَيْكَ ٣ ■ . كَمْ ■ يَلْزِمُكَ لِتُرَكِّبَ ٧؟ لِتُرَكِّبَ ٨؟ لِتُرَكِّبَ ١٠؟

اسْتَعْمِلُ ■ وَ ■ لِتَبَيِّنَ جَوَابَكَ.




أَتَمَّرُنْ

أَسْتَعْمِلُ ■ وَ ■ لَأُرَكِّبَ ٨. أَلْوَنُ. أَكْتُبُ جُمْلَةَ الْجَمْعِ.

--	--	--	--	--	--	--	--

٢



١

_____ ○ _____ ○ _____

_____ ٨ = ٦ + ٢ _____

أَسْتَعْمِلُ ■ وَ ■ لَأُرَكِّبَ ١٠. أَلْوَنُ. أَكْتُبُ جُمْلَةَ الْجَمْعِ.

٤

٣

_____ ○ _____ ○ _____

_____ ○ _____ ○ _____

أَسْتَعْمِلُ ■ وَ ■ لَأُرَكِّبَ ٧. أَلْوَنُ. أَكْتُبُ جُمْلَةَ الْجَمْعِ.

--	--	--	--	--	--	--	--

٦

--	--	--	--	--	--	--	--

٥

_____ ○ _____ ○ _____

_____ ○ _____ ○ _____

أَحُلْ مَسْأَلَةَ ■ تَفْكِيرُ بَصْرِيُّ

أَكْتُبُ جُمْلَةَ جَمْعٍ تُعَبِّرُ عَنِ الصُّورَةِ.



_____ ○ _____ ○ _____

نشاط منزلي • اطلب إلى ولدك أن يستعمل أشياء صغيرة، كحبوب الحمص أو الفول، والكرات الصغيرة... ليركب العدد ٩ من خلال عدة تشكيلات ممكنة. اطلب إليه أن يكرر النشاط نفسه مع العدد ١٠.

أَجْمَعُ أَفْقِيًّا وَعَمُودِيًّا

الدرس ٥

اَكْتُبِ الأَعْدَادَ. اَكْتُبِ المَجْمُوعَ.


$$\underline{\quad} = \underline{\quad} + \underline{\quad}$$

$$\underline{\quad} = \underline{\quad} + \underline{\quad}$$

$$\underline{\quad} = \underline{\quad} + \underline{\quad}$$

تَحَدَّثُ ■ اسْتِدْلَالٌ

بِمَاذَا تَتَشَابَهُ مَسْأَلَتَا الْجَمْعِ فِي كُلِّ صَفٍّ؟ وَبِمَاذَا تَخْتَلِفَانِ؟ بَيْنَ ذَلِكَ.



أَتَمَرْنُ

اَكْتُبِ الأَعْدَادَ. اَكْتُبِ المَجْمُوعَ.

٤

٦

+

١٠



١

$$10 = 6 + 4$$



+





٢

$$\underline{\quad} = \underline{\quad} + \underline{\quad}$$



+



٣

$$\underline{\quad} = \underline{\quad} + \underline{\quad}$$

مُرَاجَعَةٌ

٤ اَرَسِّمْ دَوَائِرَ لِأَمْثَلِ كُلِّ عَدَدٍ. اَكْتُبِ المَجْمُوعَ.

$$\underline{\quad} = 2 + 5$$

$$\underline{\quad} = 1 + 5$$

$$\underline{\quad} = 0 + 5$$

نَشَاطٌ مَنْزِلِي • اَكْتُبِ مَسَائِلَ جَمْعِ عَمُودِيٍّ وَجَمْعِ أَفْقِيٍّ لَوْلَدِكَ لِكَيْ يَحُلُّهَا.

أَحْلُ مَسْأَلَةً أَكْتُبُ جُمْلَةً جَمَعِ

الدرس ٦

أَفْهَمُ أَخْطَطُ أَحْلُ أَتَحَقَّقُ

كَمْ عَدَدُ السَّمَكَاتِ كُلِّهَا.

أَفْهَمُ

ما المَطْلُوبُ؟

أَخْطَطُ

أَسْتَطِيعُ أَنْ أَكْتُبَ جُمْلَةً جَمَعِ لِحَلِّ الْمَسْأَلَةِ.

أَحْلُ


٦ = ١ + ٥

سَمَكَاتِ

أَتَحَقَّقُ


أَتَحَقَّقُ مِنْ جَوَابِي بِوَسِطَةِ الْعَدِّ.

٦ = ١ + ٥
هَذِهِ جُمْلَةٌ جَمَعِ



أَكْتُبُ جُمْلَةً الْجَمْعِ.

١ كَمْ عَدَدُ الْكُلِّ؟



_____ ○ _____ ○ _____

سَمَكَاتِ


٢ كَمْ عَدَدُ الْكُلِّ؟



_____ ○ _____ ○ _____

سَمَكَاتِ

٣ كَمْ عَدَدُ الْكُلِّ؟



_____ ○ _____ ○ _____

سَمَكَاتِ

٤ كَمْ عَدَدُ الْكُلِّ؟



_____ ○ _____ ○ _____

سَمَكَاتِ

أَتَمَرُنْ

اَكْتُبْ جُمْلَةَ الْجَمْعِ. اذْكُرِ الْمَجْمُوعَ.

٢




_____ ○ _____ ○ _____
مَوْزَاتِ

١



_____ ٦ = ٤ + ٢
مَوْزَاتِ

٤



_____ ○ _____ ○ _____
مَوْزَاتِ

٣



_____ ○ _____ ○ _____
مَوْزَاتِ

اَكْتُبْ

ارْسُمْ صُورًا تَحْكِي قِصَّةَ جَمْعِ الْفَتْهَا.
اَكْتُبْ جُمْلَةَ جَمْعٍ تُسَاعِدُ عَلَى حَلِّهَا.

نشاط منزلي • اطلب إلى ولدك أن يستعمل أشياء صغيرة لتمثيل القصص الواردة في هذه الصفحة.

مُراجَعَة

الفصل ٤

الاسم _____

أجمع.

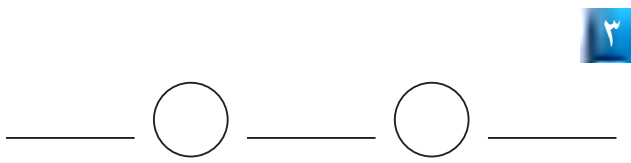


_____ = ٣ + ٢


_____ = ٤ + ٢

_____ = ٢ + ٤

أركب ٨ بطريقتين.




أركب ١٠ بطريقتين.



أكتب العدد المقابل للنقطة. أكتب المجموع.

+



_____ = _____ + _____

أحل مسألة ■ أكتب جملة جمع.

٨ كم عدد الكل؟



سراطين _____

٧ كم عدد الكل؟



سمكات _____

تَحْضِيرٌ لِلِإِخْتِبَارِ

الفصل ٤

الإسم _____

أختار الجواب المناسب.

١ أي جملة جمع تدل على عدد الأسماك كلها؟



$$8 = 3 + 5$$

$$7 = 4 + 3$$

$$6 = 3 + 3$$

$$5 = 4 + 1$$

٢ أي طريقة توصل إلى العدد ٨؟

$$2 + 3$$

$$4 + 6$$

$$4 + 4$$

$$1 + 5$$

٣ أي جمع يمثل طريقة أخرى لكتابة $10 = 2 + 8$ ؟

$$\begin{array}{r} 8 \\ 2 + \\ \hline 10 \end{array}$$

$$\begin{array}{r} 9 \\ 1 + \\ \hline 10 \end{array}$$

$$\begin{array}{r} 6 \\ 2 + \\ \hline 8 \end{array}$$

$$\begin{array}{r} 2 \\ 6 + \\ \hline 8 \end{array}$$

٤ ما مجموع $7 + 0$ ؟

٨

٧

٤

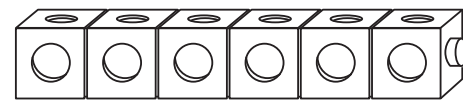
٠

٥ ألون قسماً من المكعبات بالأحمر،

والقسمة الباقي بالأزرق.

أكتب جملة جمع.

أكتب جملة جمع ثانية لها المجموع نفسه.




_____ ○ _____ ○ _____

_____ ○ _____ ○ _____

الطَّرْحُ

الفصل
٥

أَحْكِي حِكَايَةَ طَرَحٍ
عَنْ كُلِّ مَجْمُوعَةٍ





الأهل الأعزّاء،

اليومَ نبدأ الفصلَ ٥ . سنستعمل صوراً وأشياءَ

لنطرح . وسنكتب جملاً طرح . تحوي هذه

الصفحة المفردات الرياضية الجديدة

ونشاطاً نقوم به معاً في المنزل .

مُفرداتي الجديدةُ

جُمْلَةُ طَرَحٍ

يُساوي

ناقص

الفرق

معَ حُبِّي،



اطلّب إلى وِلْدِكَ أَنْ يَقومَ بِعَمَلِيَّاتِ طَرَحٍ
عِنْدَمَا يذْهَبُ إلى السُّوقِ مَعَكَ . مثلاً
يُمْكِنُكَ أَنْ تَقولَ لَهُ: ضَعْ ٦ تَفَاحاتٍ في
كيسٍ، أَخْرِجْ مِنَ الكيسِ تَفَاحَتَيْنِ . كمّ
تَفَاحَةً بَقِيَ في الكيسِ؟

المفردات

اسْتَعْمِلْ هَذِهِ الصُّورَ وَالرُّمُوزَ
وَالكَلِمَاتِ عِنْدَمَا تَتَحَدَّثُ إلى وِلْدِكَ
عَنْ عَمَلِيَّاتِ طَرَحٍ .



يُساوي

ناقص

$$1 = 2 - 3$$

الفرق


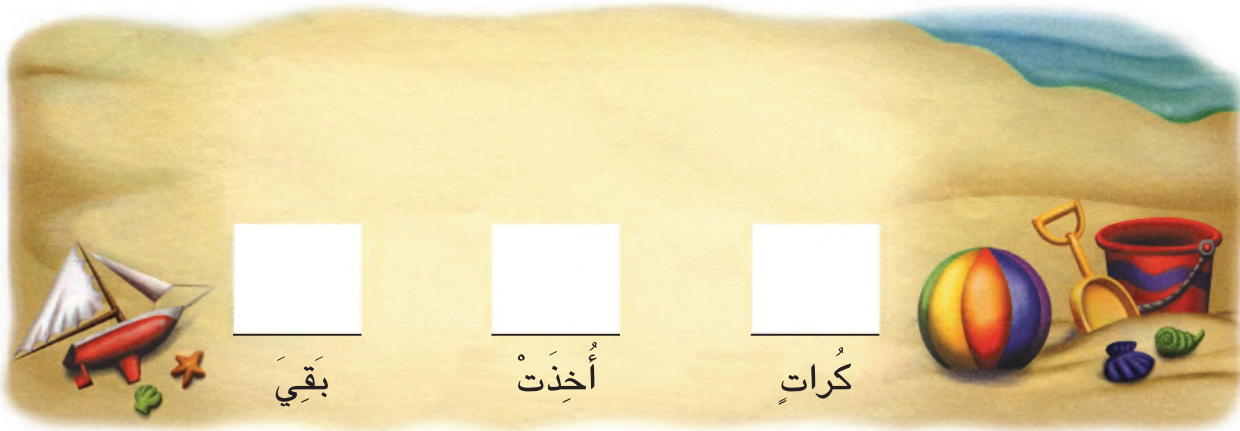
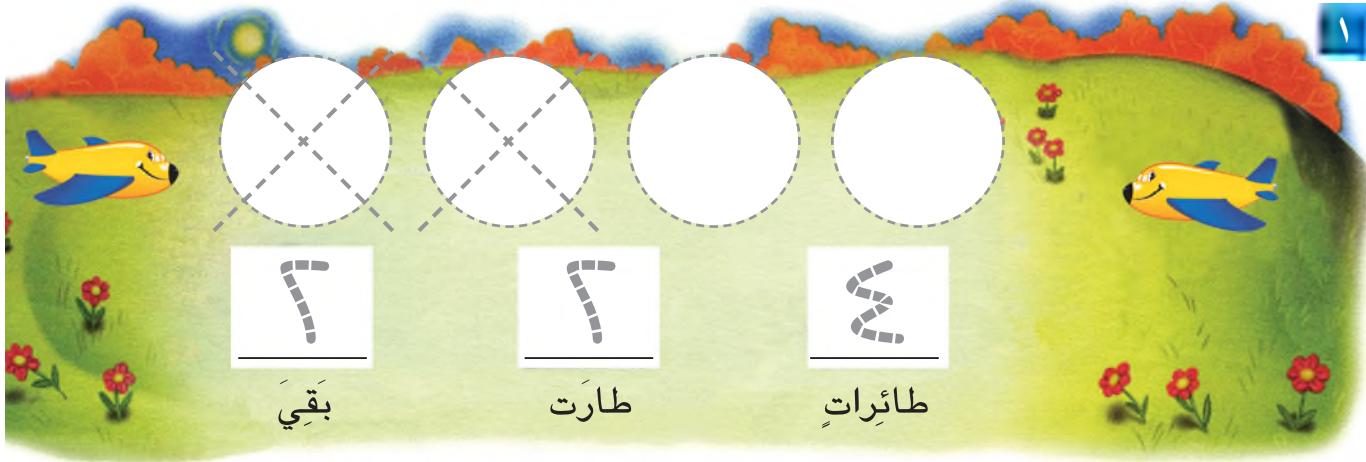
جُمْلَةُ طَرَحٍ هي $1 = 2 - 3$

حِكَايَاتٌ عَنِ الطَّرْحِ

الدرس ١

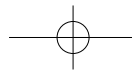
أَسْتَعْمِلُ ● لَأَعْبِرَ عَنْ حِكَايَةٍ.
أَرْسُمُ ● ثُمَّ أَشْطُبُ مَا نَقَصَ مِنْهَا. أَكْتُبُ الأَعْدَادَ.

بَقِيَّ طَائِرَاتٍ



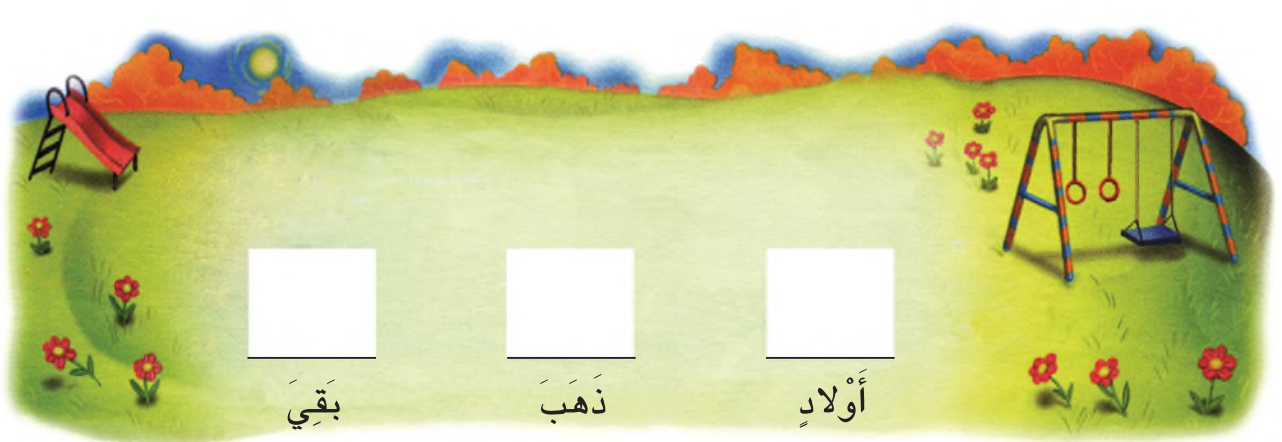
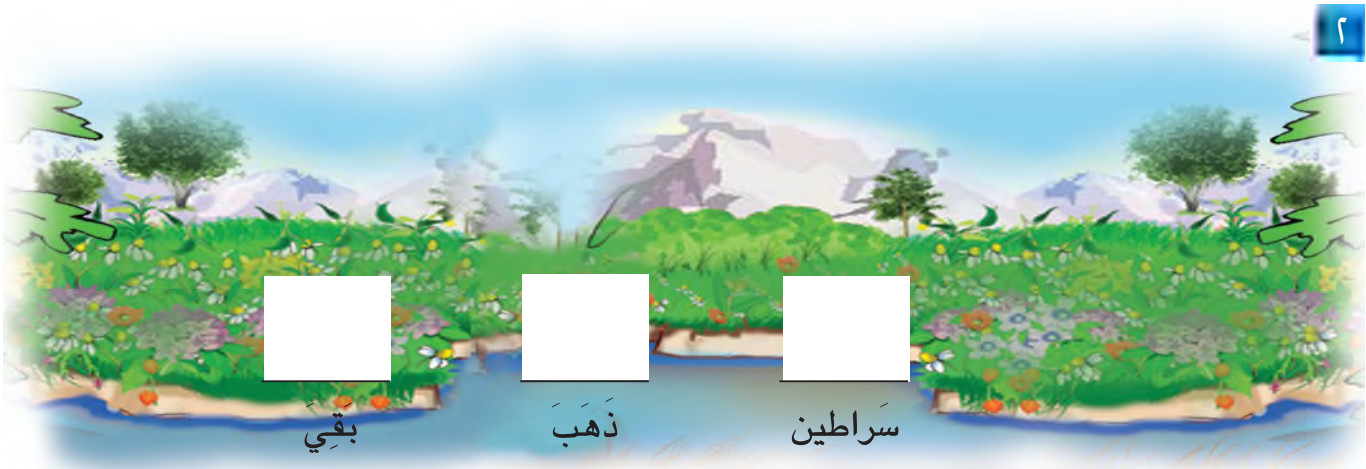
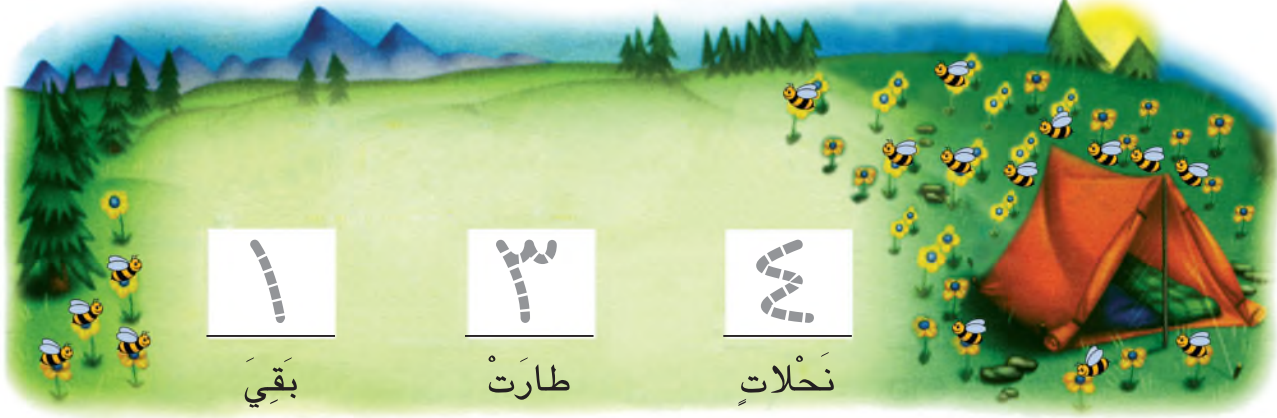
تَحَدَّثُ ■ اسْتِدْلَالٌ

عِنْدَمَا تَسْحَبُ أَشْيَاءَ مِنْ مَجْمُوعَةٍ، هَلْ يَزِيدُ عَدَدُهَا أَمْ يَنْقُصُ؟ لِمَاذَا؟
اسْتَعْمِلُ ● لِتَبَيِّنَ ذَلِكَ.

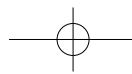


أَتَمَرْنُ

• أَسْتَعْمِلُ • لِأَمْتَلِ الْحِكَايَةَ. أَرَسُمُ •
ثُمَّ أَشْطَبُ مَا نَقَصَ مِنْهَا. أَكْتُبُ الْأَعْدَادَ.

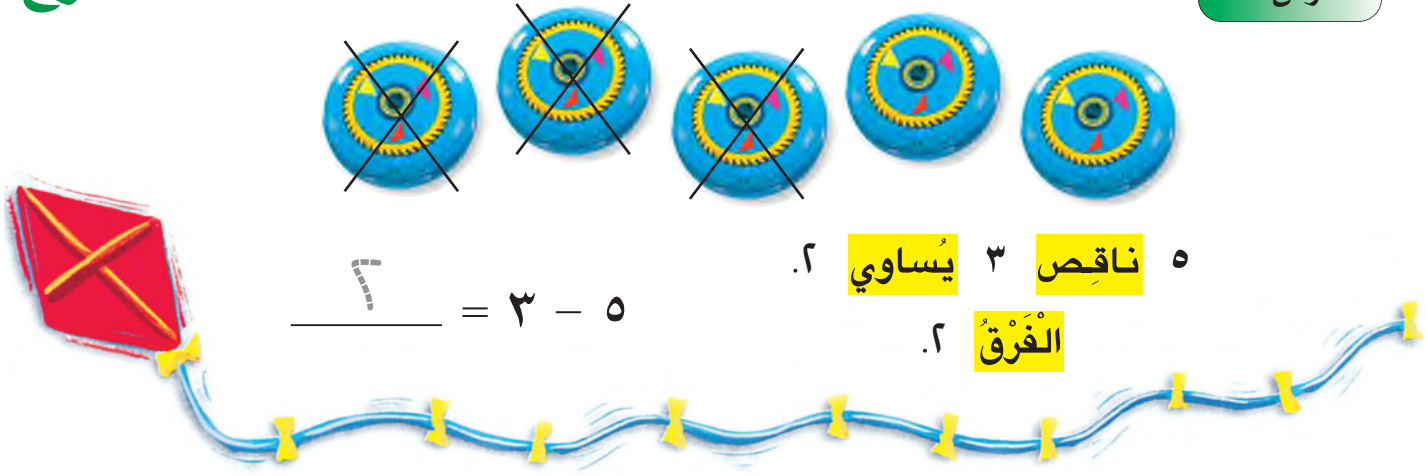


نشاط منزلي • اطلب إلى ولدك أن يخبرك حكاية طرح عن كل صورة.




أنا أطرِحُ

الدرس ٢



أشطبُ صورًا لأطرِحُ. أكتبُ الفرقَ.



تحدّثُ ■ استِدلالٌ


ماذا تعني إشارة ناقص؟ ماذا تعني إشارة يساوي؟

أَتَمَّرُنْ

أَشْطَبُ صُورًا لِأَطْرَحَ.
أَكْتُبُ مَا بَقِيَ.



$$\underline{\hspace{2cm}} = 6 - 6$$



$$\underline{\hspace{2cm}} = 4 - 3$$



$$\underline{\hspace{2cm}} = 4 - 1$$



$$\underline{\hspace{2cm}} = 3 - 2$$



$$\underline{\hspace{2cm}} = 6 - 4$$



$$\underline{\hspace{2cm}} = 5 - 6$$

مُرَاجَعَةٌ

أَكْتُبُ جُمْلَةً جَمَعَ.

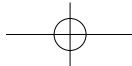


_____ ○ _____ ○ _____



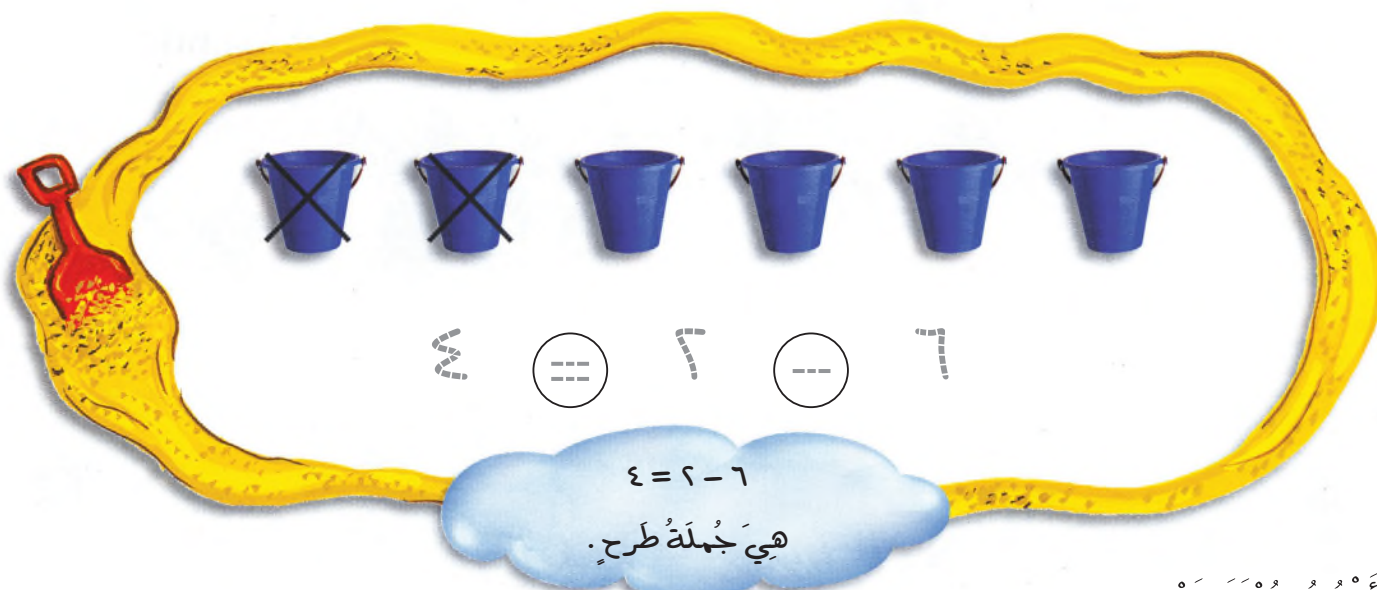
_____ ○ _____ ○ _____

نَشَاطٌ مَنْزِلِي • اطلُبْ إِلَى وِلْدِكَ رَسْمَ صُورٍ لِتَمَثِيلِ مَسْأَلَةٍ طَرَحَ. ثَمَّ اطلُبْ إِلَيْهِ أَنْ يُحَدِّدَ الْبَاقِي.



اكتبُ جُملةً طرَحَ

الدرس ٣



اكتبُ جُملةً طرَحَ.



_____ ○ _____ ○ _____



_____ ○ _____ ○ _____




_____ ○ _____ ○ _____



_____ ○ _____ ○ _____



_____ ○ _____ ○ _____

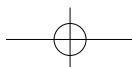


_____ ○ _____ ○ _____



تحدّثُ ■ استدلّالٌ

كيفَ تَسْتَعْمِلُ هَذِهِ الأَعْدَادَ لِتَكْتُبَ جُملةً طرَحَ؟
هلَ تَسْتَطِيعُ أَنْ تَكْتُبَ بِهِذِهِ الأَعْدَادِ أَكْثَرَ مِنْ جُملةً طرَحَ وَاحِدَةً؟ بَيْنَ ذَلِكَ.



أَتَمَّرُنْ

أَكْتُبْ جُمْلَةَ طَرَحٍ:



٢

_____ ○ _____ ○ _____



١

_____ 0 _____ = _____ \ _____ - _____ 7



٤

_____ ○ _____ ○ _____



٣

_____ ○ _____ ○ _____

أَحُلْ مَسْأَلَةً ■ تَفْكِيرٌ بَصْرِيٌّ



٥
أَرَسِمُ صُورَةَ تَبَيَّنَ عَمَلِيَّةَ طَرَحٍ:
أَكْتُبْ جُمْلَةَ الطَّرَحِ:

_____ ○ _____ ○ _____







نشاط منزلي • اطلب إلى ولدك أن يستعمل أشياء ليخبرك حكاية عن الطرح، وأن يكتب جملة الطرح المناسبة.

أَطْرَحُ الْكُلَّ أَوْ لَا أَطْرَحُ شَيْئًا

الدرس ٤



أَشْطَبُ لِكَيَّ أُبَيِّنَ كَمْ طَارَ مِنَ الْعَصَافِيرِ.
أَكْتُبُ الْفَرْقَ.




تَحَدَّثُ ■ اسْتِدْلَالٌ

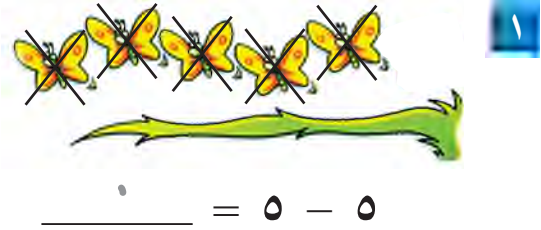
ماذا يحدثُ عندما تَطْرَحُ مِنْ مَجْمُوعَةٍ كُلَّ أَشْيَاءِهَا؟
ماذا يحدثُ عندما تَطْرَحُ صِفْرًا مِنْ مَجْمُوعَةٍ؟

أَتَمَّرُنْ

أَعِدُّ كَم طَارَ مِنْ الْفَرَّاشَاتِ. أَكْتُبِ الْفَرْقَ.



$$\underline{\quad} = 0 - 6$$



$$\underline{\quad} = 5 - 5$$



$$\underline{\quad} = 0 - 2$$




$$\underline{\quad} = 4 - 4$$



$$\underline{\quad} = 6 - 6$$



$$\underline{\quad} = 0 - 5$$



أَحُلْ مَسْأَلَةً ■ تَفْكِيرٌ بَصْرِيٌّ

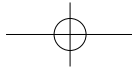
أَحُوطُ جُمْلَةً الطَّرْحِ الَّتِي فِيهَا الْفَرْقُ الْأَكْبَرُ. أَكْتُبِ الْفَرْقَ لِأَتَحَقَّقَ.

$$\underline{\quad} = 3 - 3$$

$$\underline{\quad} = 2 - 3$$

$$\underline{\quad} = 0 - 3$$

نَشَاطٌ مَنْزِلِيٌّ • اظْلُبْ إِلَى وِلْدِكَ أَنْ يَرَسُمَ صُورًا تُبَيِّنُ عَمَلِيَّتِي الطَّرْحِ 3 - 3 وَ 0 - 3 . اظْلُبْ إِلَيْهِ أَنْ يُخْبِرَكَ كَيْفَ وَجَدَ الْفَرْقَ فِي كُلِّ حَالَةٍ.



أَطْرَحُ ضِمْنَ ١٠

الدرس ٥

لَدَيَّ ٧ مَكْعَبَاتٍ
أَبْعِدُ مَكْعَبَةً وَاحِدًا

$$\underline{\quad} = 1 - 7$$



لَدَيَّ ٧ مَكْعَبَاتٍ
أَبْعِدُ ٠ مَكْعَبَاتٍ

$$\underline{\quad} = 0 - 7$$



أَسْتَعْمِلُ ■ لِأَجْدِ الْفَرْقَ.

$$\underline{\quad} = 2 - 7$$

٢

$$\underline{\quad} = 3 - 7$$

١

$$\underline{\quad} = 0 - 7$$

٤

$$\underline{\quad} = 1 - 7$$

٣

$$\underline{\quad} = 7 - 7$$

٦

$$\underline{\quad} = 5 - 7$$


٥

$$\underline{\quad} = 2 - 8$$

٨

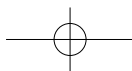
$$\underline{\quad} = 0 - 8$$

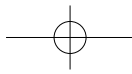
٧



تَحَدَّثُ ■ اسْتِدْلَالٌ

أَكْمِلِ النَّمْطَ. مَا جُمْلَةُ الطَّرْحِ الَّتِي تَلِي؟
بَيْنَ ذَلِكَ.





أَتَمَّرْنُ



أَسْتَعْمِلُ ■ لِأَجْدِ الْفَرْقَ.

$$\underline{\quad 9 \quad} = 0 - 9 \quad \text{1}$$

$$\underline{\quad \quad} = 3 - 9 \quad \text{2}$$

$$\underline{\quad \quad} = 1 - 9 \quad \text{3}$$

$$\underline{\quad \quad} = 9 - 9 \quad \text{4}$$

$$\underline{\quad \quad} = 5 - 9 \quad \text{5}$$

$$\underline{\quad \quad} = 7 - 10 \quad \text{6}$$

$$\underline{\quad \quad} = 5 - 10 \quad \text{7}$$

$$\underline{\quad \quad} = 9 - 10 \quad \text{8}$$

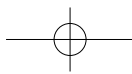
$$\underline{\quad \quad} = 8 - 10 \quad \text{9}$$



اَكْتُبْ

كَمْ جُمْلَةً طَرَحَ مِنْ ١٠ أَسْتَطِيعُ أَنْ أَكْتُبَ؟
أَبِينِ ذَلِكَ.

نَشَاطٌ مَنْزِلِي • اظْلُبْ إِلَى وِلْدِكَ أَنْ يَسْتَعْمِلَ أَشْيَاءَ صَغِيرَةً لِيُنَوِّعَ عَمَلِيَّاتِ الطَّرْحِ مِنْ ١٠.



أَحْلُ مَسْأَلَةً أَصْنَعُ نَمُودَجًا

الدرس ٦



أبدأ مع ٣. أشطبُ واحدًا.
يَبْقَى ٢.

أَفْهَمُ أَخْطَطُ أَحْلُ أَتَحَقَّقُ

٣ فَرَاشَاتٍ عَلَى غُصْنٍ. طَارَتْ وَاحِدَةٌ.
كَمْ فَرَاشَةً بَقِيَ؟

أَفْهَمُ

ما المَطْلُوبُ؟

أَخْطَطُ

أَصْنَعُ نَمُودَجًا لِحَلِّ الْمَسْأَلَةِ.

أَحْلُ



يَبْقَى فَرَاشَتَانِ.


أَتَحَقَّقُ

هَلْ جَوَابِي مَعْقُولٌ؟ أُبَيِّنُ ذَلِكَ.

أَسْتَعْمِلُ ● لِكَيْ أَجْمَعَ أَوْ أَطْرَحَ.
أَرْسُمُ ● . أَكْتُبُ الْمَجْمُوعَ أَوْ الْفَرْقَ.

١ على الصَّخْرَةِ ٤ جَرَادَاتٍ. جَاءَتْ جَرَادَتَانِ.
كَمْ جَرَادَةٌ أَصْبَحَ عَلَى الصَّخْرَةِ؟

جَرَادَاتٍ _____



٢ ٥ سَلَاحِفَ تَسِيرُ عَلَى الشَّاطِئِ.
تَوَقَّفَتْ ٢ مِنْهَا. كَمْ سَلَحْفَاءَ ظَلَّتْ تَسِيرُ؟

سَلَاحِفَ _____



أَتَمَّرْنُ

أَسْتَعْمِلُ ● لِكَيْ أَجْمَعَ أَوْ أَطْرَحَ.
أَرْسُمُ ● أَكْتُبُ الْمَجْمُوعَ أَوْ الْفَرْقَ.

١ وَجَدْتُ شِيلَانُ ٤ أَقْلَامٍ.
أَعْطْتُ ٣ لِأَخِيهَا.
كَمْ قَلَمًا بَقِيَ مَعَ شِيلَانَ؟


قَلَمٌ _____

٢ شَاهِدَ دَانَا ٣ بَطَّاتٍ قَبْلَ الظُّهْرِ
و ٣ بَعْدَ الظُّهْرِ وَهِيَ تَسْبِحُ.
كَمْ بَطَّةً شَاهِدَ دَانَا فِي هَذَا الْيَوْمِ؟

بَطَّاتٍ _____

٣ رَأَتْ شَارَا ٥ سَمَكَاتٍ.
سَبَحَتْ ٢ مِنْهَا بَعِيدًا.
كَمْ سَمَكَةً بَقِيَ؟

سَمَكَاتٍ _____



اَكْتُبْ

اَكْتُبْ حِكَايَةَ طَرَحٍ عَنِ الصُّورَةِ.
اَكْتُبْ جُمْلَةَ الطَّرَحِ.

نَشَاطٌ مَنْزِلِي • أَلْفُ حِكَايَاتٍ مُشَابِهَةٌ لِحِكَايَاتِ هَذَا الدَّرْسِ، وَاطْلُبْ إِلَى وَلَدِكَ أَنْ يَحُلِّهَا مُسْتَعْمِلًا أَشْيَاءَ لِتَمَثِيلِ الْمَسَائِلِ.

مُراجَعَة

الفصل ٥


الإسْمُ

أَكْتُبْ جُمْلَةَ الطَّرْحِ.



٢

_____ ○ _____ ○ _____



١

_____ ○ _____ ○ _____

أَكْتُبِ الْفَرْقَ.



٤

_____ = ٦ - ٦



٣

_____ = ٥ - ٥

أَكْتُبْ جُمْلَةَ طَرَحٍ مِنْ ٨.

_____ = _____ - ٨

٦

_____ = _____ - ٨

٥

أَكْتُبِ الْفَرْقَ.

_____ = ٢ - ٧

٨

_____ = ٤ - ٦

٧

أَحْلُ مَسْأَلَةً ■ تَفْكِيرٌ بَصْرِيٌّ


أَسْتَعْمِلُ ● لِكَيْ أَجْمَعَ أَوْ أَطْرَحَ.
أَرَسُمُ ● . أَكْتُبُ الْمَجْمُوعَ أَوْ الْفَرْقَ.

٩ على الغُصْنِ ٦ نَمَلَاتِ.

هَرَبَتْ ٣ مِنْهَا.

كَمْ نَمَلَةً بَقِيَ عَلَى الْغُصْنِ؟

نَمَلَاتِ _____



تَحْضِيرٌ لِلِإِخْتِبَارِ

الفصل ٥

الإسم _____

أختارُ الجوابَ المناسبِ.

١ أيُّ جُمْلَةٍ طَرَحَ تُعَبِّرُ عَنِ الصُّورَةِ؟



$$٥ = ١ - ٦$$

$$٢ = ٤ - ٦$$

$$٣ = ٣ - ٦$$

$$٠ = ٦ - ٦$$

$$٢ - ٩$$

$$٢ - ٨$$

١٣

١٢

٧

٦

٥

٦

١١

١٢

٤ على الشَّجَرَةِ ٥ عَصَافِيرَ. طَارَ مِنْهَا عَصَفُورَانِ. كَمْ عَصَفُورًا بَقِيَ عَلَى الشَّجَرَةِ؟

٥

٣

١

٠

٥ كَمْ الْفَرْقُ؟



$$\underline{\hspace{2cm}} = ٣ - ٨$$

١١

٨

٦

٥

٦ أَيُّ مِمَّا يَلِي هُوَ طَرِيقَةٌ أُخْرَى لِكِتَابَةِ $٦ - ٢ = ٤$ ؟

٦

$$\frac{٦}{٢-}$$

٤

٤

$$\frac{٤}{٢-}$$

٢

٨

$$\frac{٨}{٦-}$$

٢

٨

$$\frac{٨}{٢-}$$

٦

طَرَائِقُ لِنُجْمَعِ وَالطَّرْحِ

الفصل
٦



أَبْحَثُ عَنْ مَجْمُوعَتَيْنِ
لِأَحْصَلَ عَلَى ١٠



الأهل الأعزّاء،

اليوم نبدأ الفصل ٦ . سنتعلّم كيف نعدّ إلى الأمام
ونتعرف إلى الضعف، الذي يُساعدنا أحياناً على
إيجاد المجموع . سنتعلّم كيف نعدّ إلى الوراء وكيف
نستعمل خط الأعداد لنجد الفرق
بين عددين . تحوي هذه الصفحة المفردات
الرياضية الجديدة ونشاطاً نقوم به معاً
في المنزل .
مع حبّي،

مُفرداتي الجديدة

الضعف
العدّ إلى الأمام
العدّ إلى الوراء
خط الأعداد

نشاط

ابتكر مسائل يظهر فيها الجمع .
استعمل أشياء تجدها في حياتك
اليومية في المنزل أو غيره . ضع
أمامك مجموعتين متساويتين من
الأشياء، على أن تحتوي الواحدة ما
بين شيء واحد وأربعة أشياء .
ساعد ولدك على تعرف الضعف،
واطلب إليه أن يعطيك المجموع .
وهكذا أعط ولدك مجموعة من ١٠
حبات لوز أو زبيب، واطلب إليه أن
يأكل حبة من بعد أخرى، وفي كل
مرة يكتب جملة طرح مناسبة .

المفردات

الضعف مجموع عددين متساويين .

$$٨ = ٤ + ٤ \quad \text{٨ ضعف العدد ٤ .}$$

العدّ إلى الأمام طريقة للجمع .

لكي تجمع ٦ و ٢ انطلق من العدد الأكبر ٦،
ثم عدّ إلى الأمام

$$\text{مرتين: ٧، ٨} \quad ٨ = ٦ + ٢$$

العدّ إلى الوراء طريقة للطرح . نستعمل العدّ

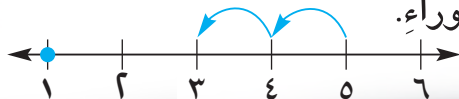
إلى الوراء انطلاقاً من العدد الأكبر . $٣ = ٥ - ٢$

أبدأ من ٥ ثم أعدّ ٢

إلى الوراء ٤، ٣

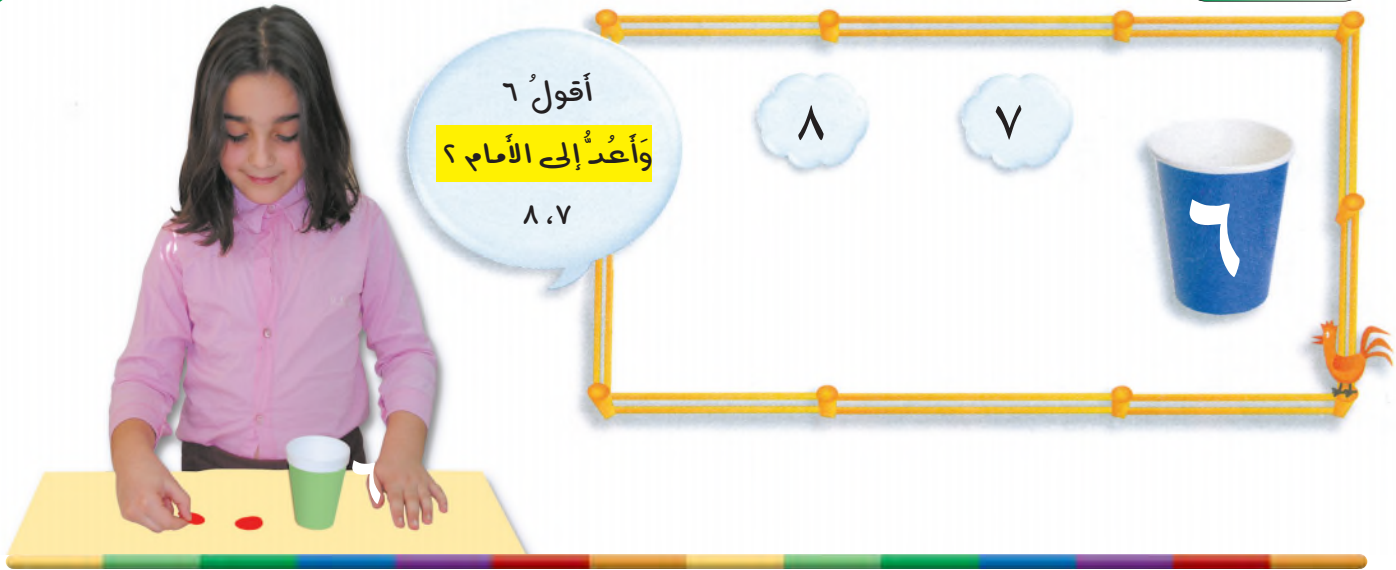
خط الأعداد نستعمل خط الأعداد ليُساعدنا

على العدّ إلى الوراء .








أَعُدُّ إِلَى الْأَمَامِ

الدرس ١



أَسْتَعْمِلُ ● . أَعُدُّ إِلَى الْأَمَامِ. أَكْتُبُ الْمَجْمُوعَ.







تَحَدَّثُ ■ اسْتِدْلَالٌ

كَيْفَ تَعُدُّ إِلَى الْأَمَامِ لِكَيْ تَحْسِبَ الْمَجْمُوعَ ٦ + ٢؟
هَلْ يَهْمُكَ الْعَدَدُ الَّذِي تَبْدَأُ بِهِ؟ بَيْنَ ذَلِكَ.

أَتَمَّرْنِ

أَعِدُّ إِلَى الْأَمَامِ. أَكْتُبِ الْمَجْمُوعَ.




_____ = ٣ + ٣

_____ = ٣ + ٥

_____ = ٢ + ٧

أُكْمِلْ جُمْلَةَ الْجَمْعِ.











نشاط منزلي • اطلب إلى ولدك أن يعد أشياء في مجموعة يقل عدد عناصرها عن ٨. ثم اطلب إليه أن يعد إلى الأمام لكي يضيف ٣.

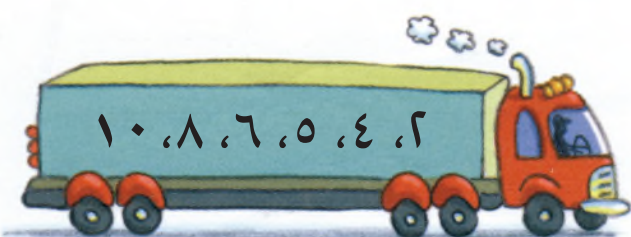
أَضَاعِفُ

الدرس ٢



أَسْتَعْمِلُ  .
أَكْتُبُ جُمْلَةً جَمْعَ.



تَحَدَّثُ ■ اسْتِدْلَالٌ
أَيُّ عَدَدٍ مِنْ هَذِهِ الْأَعْدَادِ لَيْسَ ضِعْفًا؟
بَيْنَ ذَلِكَ.



أَتَمَّرْنُ

أُحَوِّطُ حَيْثُ أُجِدُّ ضِعْفًا، ثُمَّ أَجْمَعُ.

$$\begin{array}{r} 1 \\ 0 + \\ \hline \end{array}$$

$$\begin{array}{r} 2 \\ 2 + \\ \hline \end{array}$$

$$\begin{array}{r} 1 \\ 1 + \\ \hline \end{array}$$

$$\begin{array}{r} 5 \\ 3 + \\ \hline \end{array}$$

1

$$\begin{array}{r} 9 \\ 1 + \\ \hline \end{array}$$

$$\begin{array}{r} 7 \\ 3 + \\ \hline \end{array}$$

$$\begin{array}{r} 6 \\ 1 + \\ \hline \end{array}$$

$$\begin{array}{r} 4 \\ 4 + \\ \hline \end{array}$$

2

$$\begin{array}{r} 8 \\ 2 + \\ \hline \end{array}$$

$$\begin{array}{r} 3 \\ 2 + \\ \hline \end{array}$$

$$\begin{array}{r} 7 \\ 2 + \\ \hline \end{array}$$

$$\begin{array}{r} 5 \\ 5 + \\ \hline \end{array}$$

3

أَحُلُّ مَسْأَلَةً ■ تَفَكِيرٌ بَصْرِيٌّ
أَكْتُبُ جُمْلَةً جَمَعَ أَبْيُنُ فِيهَا الضَّعْفُ.



5



4

_____ ○ _____ ○ _____ | _____ ○ _____ ○ _____

نشاط منزلي • اطلب إلى ولدك أن يختار عددًا بين 1 و 5، ويستعمله ليكتب جملة جمع يظهر فيها الضعف.

أَجْمَعُ ضِمْنَ ١٠

الدرس ٣

٣



٥

+



٨

٥

٣

٨

+



أَجْمَعُ. أُغَيِّرُ التَّرْتِيبَ، ثُمَّ أَكْتُبُ عَمَلِيَّةَ الْجَمْعِ الْجَدِيدَةَ.

□

١

٧+

□

+

□

□

٤

٣+

□

+

□

□

٥

٢+

□

+

□

□

١

٥+

□

+

□

□

٧

٠+

□

+

□

□

٦

٢+

□

+

□

□

٤

٢+

□

+

□

□

٢

٣+

□

+

□

□

٠

٢+

□

+

□

تَحَدَّثُ ■ اسْتِدْلَالٌ

ماذا يحدث لمجموع عددين إذا غيرت ترتيبهما؟

أَتَمَّرْنِ

أَجْمَعُ. أَكْتُبُ الْمَجْمُوعَ.

$\begin{array}{r} ٢ \\ ٧+ \end{array}$	$\begin{array}{r} ٧ \\ ٢+ \end{array}$	٣	$\begin{array}{r} ١ \\ ٩+ \end{array}$	$\begin{array}{r} ٩ \\ ١+ \end{array}$	٢	$\begin{array}{r} ٠ \\ ٩+ \end{array}$	$\begin{array}{r} ٩ \\ ٠+ \end{array}$	١
$\begin{array}{r} ٥ \\ ٣+ \end{array}$	$\begin{array}{r} ٣ \\ ٥+ \end{array}$	٦	$\begin{array}{r} ٢ \\ ٦+ \end{array}$	$\begin{array}{r} ٦ \\ ٢+ \end{array}$	٥	$\begin{array}{r} ١ \\ ٨+ \end{array}$	$\begin{array}{r} ٨ \\ ١+ \end{array}$	٤
$\begin{array}{r} ٧ \\ ١+ \end{array}$	$\begin{array}{r} ١ \\ ٧+ \end{array}$	٩	$\begin{array}{r} ٢ \\ ٨+ \end{array}$	$\begin{array}{r} ٨ \\ ٢+ \end{array}$	٨	$\begin{array}{r} ٢ \\ ٥+ \end{array}$	$\begin{array}{r} ٥ \\ ٢+ \end{array}$	٧

مراجعة

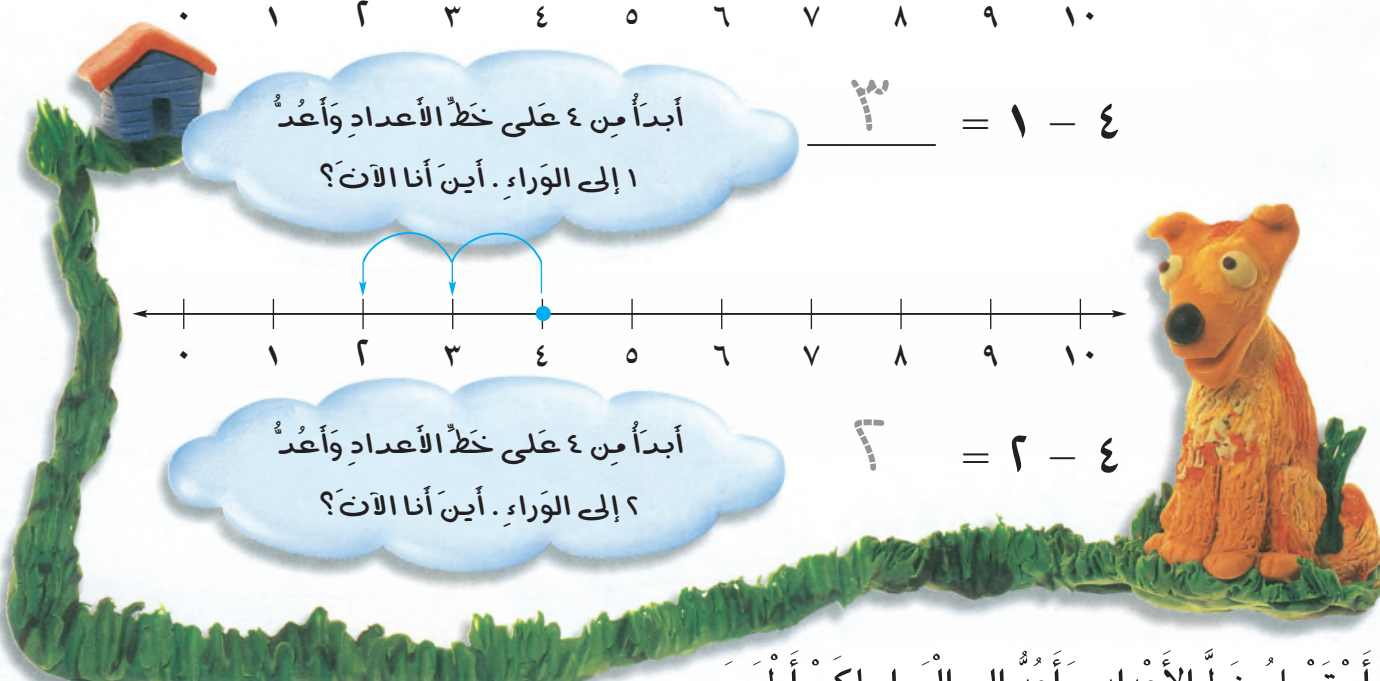
أَكْتُبُ جَمِيعَ جُمَلِ الْجَمْعِ الَّتِي تُنتِجُ ٥.

٥ = _____ + _____	١١	٥ = _____ + _____	١٠
٥ = _____ + _____	١٣	٥ = _____ + _____	١٢
٥ = _____ + _____	١٥	٥ = _____ + _____	١٤

نشاط منزلي • اختر عدداً بين ١ و ١٠، ثم اطلب إلى ولدك أن يعطيك عملية جمع يكون مجموعها مساوياً للعدد الذي اخترته. كرر هذا النشاط مع عدد آخر.

أَعُدُّ إِلَى الْوَرَاءِ

الدرس ٤



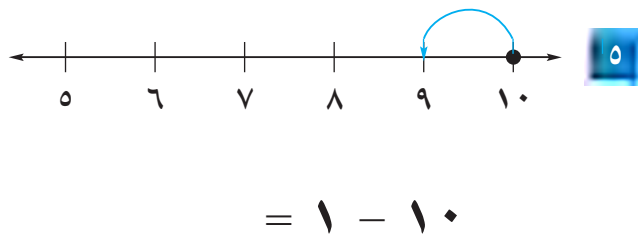
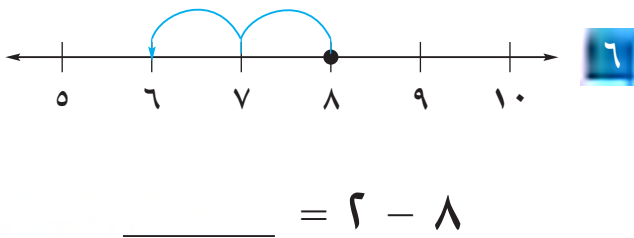
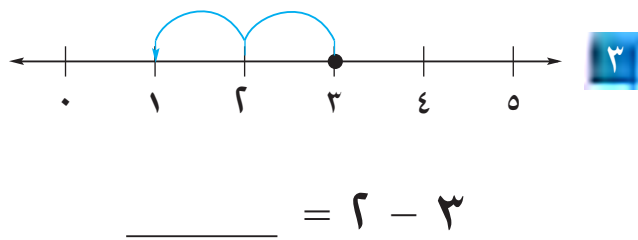
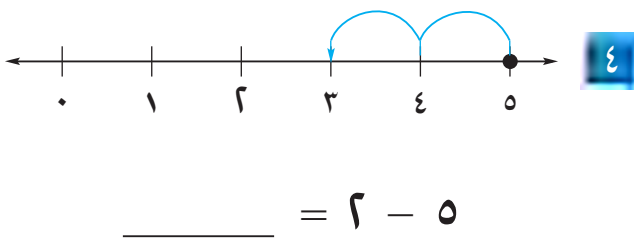
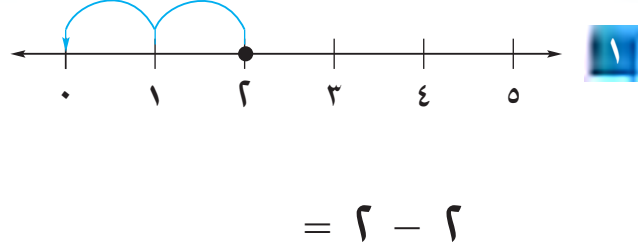
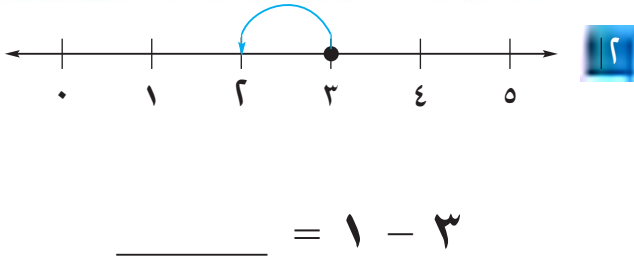
أبدأ من ٤ على خط الأعداد وأعدُّ إلى الوراء. أين أنا الآن؟

$$3 = 4 - 1$$

أبدأ من ٤ على خط الأعداد وأعدُّ إلى الوراء. أين أنا الآن؟

$$7 = 4 - 2$$

أَسْتَعْمِلُ خَطَّ الْأَعْدَادِ، وَأَعُدُّ إِلَى الْوَرَاءِ لِكَيْ أُطْرَحَ.

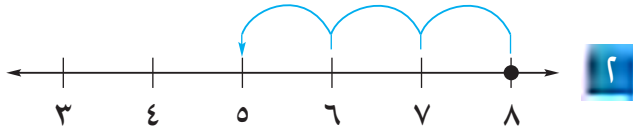


تَحَدَّثْ ■ اسْتَدْلَالٌ

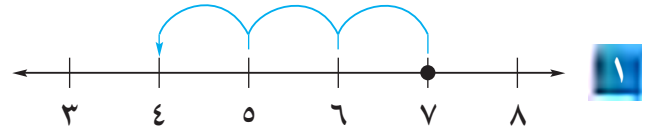
لِمَاذَا تَتَحَرَّكُ نَحْوَ الْيَسَارِ عِنْدَمَا تَسْتَعْمِلُ خَطَّ الْأَعْدَادِ فِي الطَّرْحِ؟

أَتَمَّرُنْ

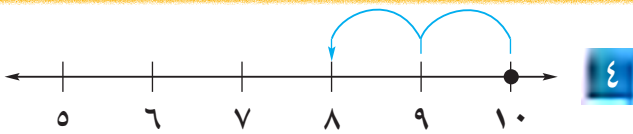
أَسْتَعْمِلُ خَطَّ الأَعْدَادِ، وَأَعُدُّ إِلَى الوَرَاءِ لِكَيْ أَطْرَحَ.



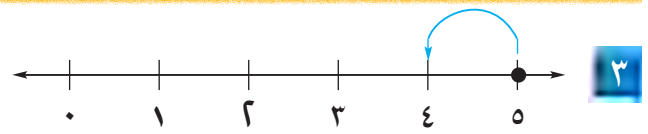
$$\underline{\quad\quad} = 3 - 8$$



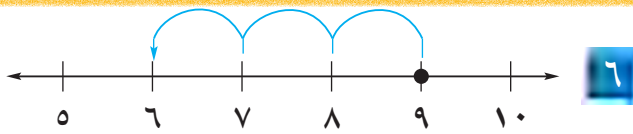
$$\underline{\quad\quad} = 3 - 7$$



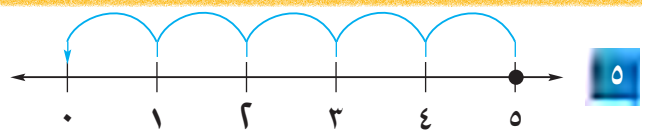
$$\underline{\quad\quad} = 2 - 10$$



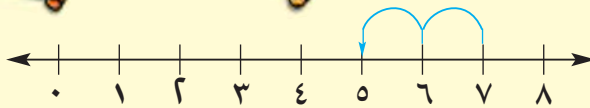
$$\underline{\quad\quad} = 1 - 5$$



$$\underline{\quad\quad} = 3 - 9$$



$$\underline{\quad\quad} = 5 - 5$$



عَصَافِيرَ

أَحْلُ مَسْأَلَةً ■ تَطْبِيقُ

أَكْتُبُ جُمْلَةً عَدَدِيَّةً.
أَسْتَعْمِلُ خَطَّ الأَعْدَادِ لِأَحْلِّ.

هُنَاكَ 7 عَصَافِيرَ.

طَارَ مِنْهَا عَصَفُورَانِ.

كَمْ عَصَفُورًا بَقِيَ؟

نَشَاطٌ مَنْزِلِي • اظْلُبْ إِلَى وِلْدِكَ أَنْ يَبِينَنَّ لَكَ كَيْفَ يَسْتَعْمِلُ العَدَّ إِلَى الوَرَاءِ لِكَيْ يَجِدَ الفَرْقَ 3 - 9.

أَرْبِطُ بَيْنَ الْجَمْعِ وَالطَّرْحِ

الدرس ٥

أَسْتَعْمِلُ الأَعْدَادَ نَفْسَهَا
فِي الْجَمْعِ وَالطَّرْحِ.

عَمَلِيَّتَا الْجَمْعِ وَالطَّرْحِ حَقِيقَتَانِ
تُرْتَبِطُ إِحْدَاهُمَا بِالأُخْرَى.



$$7 = 10 - 3$$



$$10 = 3 + 7$$



أَسْتَعْمِلُ ■ وَ ■ لِكَيْ أَجْمَعَ أَوْ أَطْرَحَ.
أُكْمِلُ الجَدْوَلَ.

مَعِيَ ■	أَضِيفُ ■	أَكْتُبُ المَجْمُوعَ	أَخِذْ مِنْهُ	أَكْتُبُ الفَرْقَ
٤	٢	_____ = ٢ + ٤	٢	_____ = ٢ - ٦
٥	٣	_____ = ٣ + ٥	٣	_____ = ٣ - ٨
٢	٥	_____ = ٥ + ٢	٥	_____ = ٥ - ٧
٧	٢	_____ = ٢ + ٧	٢	_____ = ٢ - ٩
٨	٠	_____ = ٠ + ٨	٠	_____ = ٠ - ٨

تَحَدَّثْ ■ اسْتِدْلَالٌ

بِمَاذَا تَتَشَابَهُ جُمْلَةُ الْجَمْعِ $9 = 3 + 6$ وَجُمْلَةُ الطَّرْحِ $9 = 3 - 6$ ؟ وَبِمَاذَا
تَخْتَلِفَانِ؟ لِمَاذَا نَقُولُ إِنَّ بَيْنَهُمَا تَرَابُطًا؟



$$9 = 4 + 5$$

$$0 = 4 - 4$$

$$\underline{\quad} = 1 + 7$$

$$\underline{\quad} = 1 - 8$$

$$\underline{\quad} = 3 + 4$$

$$\underline{\quad} = 3 - 7$$



$$\begin{array}{r} 10 \\ 4 - \end{array}$$

$$\begin{array}{r} 6 \\ 4 + \end{array}$$

$$\begin{array}{r} 8 \\ 4 - \end{array}$$

$$\begin{array}{r} 4 \\ 4 + \end{array}$$

$$\begin{array}{r} 9 \\ 1 - \end{array}$$

$$\begin{array}{r} 8 \\ 1 + \end{array}$$



أحلُّ مسألةً ■ تطبيقٌ

أحلُّ. ثمَّ أكتبُ جُمْلَةَ الجَمْعِ، أو جُمْلَةَ الطَّرْحِ المُناسِبَةَ.

٨ على الشَّجَرَةِ ٨ عَصافير.

طارَ مِنْهَا ٣ عَصافير.

كَمْ عَصْفورًا بَقِيَ على الشَّجَرَةِ؟

_____ ○ _____ ○ _____

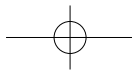
٧ على الرَّفِّ ٥ كُتُب.

أضافَ إِلَيْهَا بَلَدًا ٣ كُتُب.

كَمْ كِتَابًا أَصْبَحَ على الرَّفِّ؟

_____ ○ _____ ○ _____

نشاطٌ منزليٌّ • اطلبُ إلى وِليدِكَ أَنْ يَسْتَعْمَلَ ١٠ أَشْيَاءَ صَغِيرَةً لِكَيْ يَحُلَّ مَسْأَلَةَ جَمْعٍ. اطلبُ إِلَيْهِ أَنْ يَكْتُبَ جُمْلَةَ الجَمْعِ وَجُمْلَةَ الطَّرْحِ المُرْتَبِطَةَ بِهَا.



حَقَائِقُ طَرَحٍ مُتْرَابِطَةٌ

الدرس ٦



إِذَا عَرَفْتُ إِحْدَى الْجُمْلَتَيْنِ
فَأِنِّي أَعْرِفُ الأُخْرَى.

أَطْرَحُ أَحْوَطَ الْجُمْلَتَيْنِ حَيْثُ تَظْهَرُ الأَعْدَادُ نَفْسَهَا.

$$\underline{\quad} = 3 - 4 \quad ٢$$

$$\underline{\quad} = 2 - 3$$

$$\underline{\quad} = 4 - 7 \quad ٤$$

$$\underline{\quad} = 3 - 7$$

$$\begin{array}{r} 7 \\ \cdot - \\ \hline \end{array} \quad \begin{array}{r} 7 \\ 7 - \\ \hline \end{array} \quad ٦$$

$$\begin{array}{r} 8 \\ 5 - \\ \hline \end{array} \quad \begin{array}{r} 8 \\ 3 - \\ \hline \end{array} \quad ٨$$

$$\begin{array}{r} 7 \\ \underline{\quad} = 5 - 7 \quad ١ \\ \hline \end{array} \quad \begin{array}{r} 0 \\ \underline{\quad} = 2 - 7 \\ \hline \end{array}$$

$$\underline{\quad} = 5 - 5 \quad ٣$$

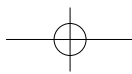
$$\underline{\quad} = 0 - 5$$

$$\begin{array}{r} 9 \\ 8 - \\ \hline \end{array} \quad \begin{array}{r} 9 \\ 1 - \\ \hline \end{array} \quad ٥$$


$$\begin{array}{r} 8 \\ 2 - \\ \hline \end{array} \quad \begin{array}{r} 8 \\ 6 - \\ \hline \end{array} \quad ٧$$

تَحَدَّثُ ■ اسْتِدْلَالٌ


كَمْ جُمْلَةً طَرَحَ يُمَكِّنُكَ أَنْ تَكْتُبَ إِذَا اسْتَعْمَلْتَ الأَعْدَادَ ٢ وَ ٣ وَ ٥؟ بَيْنَ ذَلِكَ.



أَتَمَّرُنْ



أَطْرَحُ ثُمَّ أَلَوِّنُ كُلَّ قِسْمٍ بِاللَّوْنِ الْمُنَاسِبِ لِلْفَرْقِ.



نشاط منزلي • اطلب إلى ولدك أن يكتب جمل الطرح من 8 - 0 إلى 8 - 8.

أَحْلُ مَسْأَلَةً

أَخْتَارُ الْعَمَلِيَّةَ الْمُنَاسِبَةَ

الدرس ٧

أَفْهَمُ أَحْطَطُ أَحْلُ أَتَحَقَّقُ

أُحِطُّ بِكَلِمَةٍ أَجْمَعُ أَوْ كَلِمَةٍ أُطْرِحُ.
أَكْتُبُ الْعَمَلِيَّةَ الْحِسَابِيَّةَ.

نَقَصْتُ التُّفَاحَاتُ.
يَجِبُ أَنْ أُطْرِحَ.

أَطْرِحُ

أَجْمَعُ

٧

⊖

٤

⊖

١٠



١ مع شيرين ١٠ تفاحات.
أعطت أخيها ريفين ٤ تفاحات.
كم تفاحة بقي معها؟

٢ عندنا ٧ قطع حلوى.
أكلت كلارا ٤ قطع.
كم قطعة بقي؟

_____ قطع حلوى

أَطْرِحُ

أَجْمَعُ

⊖

⊖



٣ على المائدة ٣ شوكات.
جلبت شنه ٤ شوكات.
كم شوكة أصبح على المائدة؟

_____ شوكات

أَطْرِحُ

أَجْمَعُ

⊖

⊖



٤ قدم سالار لأرنبه ٩ جزرات.
أكل الأرنب ٥ جزرات.
كم جزرة بقي؟

_____ جزرات

أَطْرِحُ

أَجْمَعُ

⊖

⊖



أَتَمَّرْنُ

أَجْمَعُ أَوْ أَطْرَحُ.

١ على الطاولة ٥ قطع حلوى.
أحضرتُ رفند ٢. كم أصبح عدد القطع؟

أَطْرَحُ أَجْمَعُ

٧ ٥ ٦ ٢ ٠

قَطَعُ

٢ هُنَاكَ ٦ تَفَاحَاتٍ. أَكَلْتَ أَنْتَ وَوَالِدُكَ ٢
كَمْ تَفَاحَةً بَقِيَ؟

أَطْرَحُ أَجْمَعُ

_____ ○ _____ ○ _____

تَفَاحَاتٍ _____

٣ أَمَامَ بَلَدِ ٧ أَكْوَابٍ. أَحْضَرْتُ ٣ أُخْرَى.
كَمْ أَصْبَحَ عَدَدُ الْأَكْوَابِ؟

أَطْرَحُ أَجْمَعُ

_____ ○ _____ ○ _____

أَكْوَابٍ _____

٤ فِي الصَّبْحِ ٨ لَفَّاتٍ.
أَكَلْتُ الضُّيُوفَ ٣. كَمْ بَقِيَ؟

أَطْرَحُ أَجْمَعُ

_____ ○ _____ ○ _____

لَفَّاتٍ _____

اَكْتُبْ

أَحْكِي حِكَايَةً جَمَعْتُ أَوْ حِكَايَةً طَرَحْتُ.
اَكْتُبِ الْعَمَلِيَّةَ الْحِسَابِيَّةَ. ارْسُمِ صُورَةَ لِكِي أَتَحَقَّقَ.

نشاط منزلي • سَلِّ وَلَدَكَ كَيْفَ اخْتَارَ الْعَمَلِيَّةَ فِي كُلِّ مِنْ تَمَارِينِ هَذِهِ الصَّفْحَةِ.

مُراجَعَة

الفصل ٦

الاسم _____

أَطْرَحُ. ثُمَّ أَحِوِّطُ الْعَمَلِيَّتَيْنِ اللَّتَيْنِ
تَحْوِيَانِ الْأَعْدَادَ نَفْسَهَا.

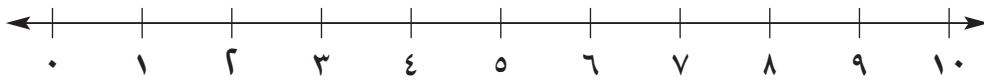
$$\underline{\quad\quad} = 8 - 10$$

$$\underline{\quad\quad} = 1 - 10$$

$$\underline{\quad\quad} = 5 - 9$$

$$\underline{\quad\quad} = 4 - 9$$

أَسْتَعْمِلُ خَطَّ الْأَعْدَادِ، وَأَعِدُّ إِلَى الْوَرَاءِ لِكَيْ أَطْرَحُ.



$$\underline{\quad\quad} = 2 - 10$$

$$\underline{\quad\quad} = 1 - 7$$

أَحِوِّطُ حَيْثُ أَجِدُ ضِعْفًا. أَجْمَعُ وَأَكْتُبُ الْمَجْمُوعَ.

$$\begin{array}{r} 2 \\ 4 + \\ \hline \end{array}$$

$$\begin{array}{r} 6 \\ 3 + \\ \hline \end{array}$$

$$\begin{array}{r} 7 \\ 2 + \\ \hline \end{array}$$

$$\begin{array}{r} 4 \\ 4 + \\ \hline \end{array}$$

$$\begin{array}{r} 2 \\ 5 + \\ \hline \end{array}$$

$$\begin{array}{r} 9 \\ 1 + \\ \hline \end{array}$$

أَعِدُّ إِلَى الْأَمَامِ. أَكْتُبُ الْمَجْمُوعَ.



$$\underline{\quad\quad} = 3 + 7$$



$$\underline{\quad\quad} = 1 + 8$$

أَحِلُّ مَسْأَلَةً

أَحِوِّطُ أَجْمَعُ أَوْ أَطْرَحُ.
أَكْتُبُ الْجُمْلَةَ الْعَدَدِيَّةَ.



أَطْرَحُ أَجْمَعُ

$$\underline{\quad\quad} = \underline{\quad\quad} \bigcirc \underline{\quad\quad}$$

هُنَاكَ ١٠ جِرَارٍ مِنَ الْعَسَلِ.

انكسرت ٣ منها.

كَمْ جِرَّةً بَقِيَ؟

جِرَارٍ

تَحْضِيرٌ لِلِإِخْتِبَارِ

الفصل ٦

الاسم _____

أَخْتَارُ الْجَوَابَ الْمُنَاسِبَ.

٢ $٤ + ٥$

١ $١٠ - ١$

٩

٨

٢

١

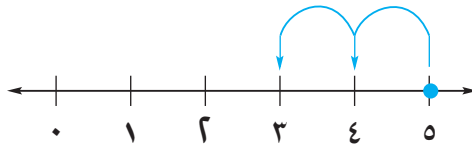
١٢

١١

١٠

٩

٣ ماذا يُمَثِّلُ خَطُّ الأَعْدَادِ؟



$٣ + ٢$

$٢ + ٣$

$٢ - ٥$

$٣ - ٥$

٤ مع نيفين ٩ جَوَزَاتٍ، كَسَرْتُ ٣ مِنْهَا وَأَكَلْتُهَا. كَمْ جَوَزَةً بَقِيَ مَعَهَا؟

٦

٧

٩

١٢

٥ في الصَّحْنِ ٣ مَوَزَاتٍ. أَضَفْنَا إِلَيْهَا ٢.

أَيُّ جُمْلَةٍ تَدُلُّ عَلَى عَدَدِ المَوَزَاتِ الَّتِي أَصْبَحَتْ فِي الصَّحْنِ.

$٤ = ٢ + ٢$

$٥ = ٢ + ٣$

$٠ = ٣ - ٣$

$١ = ٢ - ٣$

٦ أَسْتَعْمِلُ . أَكْتُبُ أَرْبَعَ جُمَلٍ عَدَدِيَّةٍ فِيهَا الأَعْدَادُ نَفْسُهَا.

_____ ○ _____ ○ _____

_____ ○ _____ ○ _____

○

○


○

○

الأعداد حتى ٩٩

الفصل

٧



أعدُّ النِّقَاطَ فِي كُلِّ عَمُودٍ.
كَمْ عَمُودًا أَرَى؟ كَمْ عَدَدُ النِّقَاطِ كُلِّهَا؟



رسالة إلى الأهل

الأهل الأعزّاء،

اليومَ نبدأ الفصلَ ٧. سنتعلّم الأعداد حتى ٩٩،
نعدّها ونكتبها ونقرأها. سنتعلّم العشرات ونفصّل
الأعداد إلى عشراتٍ وآحاد. تحوي هذه الصفحة
المفردات الرياضية الجديدة ونشاطاً نقوم به
معاً في المنزل.

معَ حُبّي،

مُفرداتي الجديدةُ

العَشْرَة

آحاد


نشاط

اطوِ ورقةً عندَ خطِّ النِّصْفِ. عَنُونِ
النِّصْفَ الأيسرَ عَشْرَاتٍ، والنِّصْفَ
الأيمنَ آحاداً. أعطِ ولدك مجموعةً من
الأشياء الصَّغيرة، كحَبَّاتِ الفولِ مثلاً،
واطلبِ إليه أن يجمعَ مجموعاتٍ من ١٠
أشياءٍ قدرَ الإمكان، وأن يضعها على
نصفِ الورقة الأيسرِ. ثم اطلبِ إليه أن
يضعَ الآحادَ الباقيةً على النِّصْفِ
الأيمنِ. وفي النهاية، اطلبِ إليه أن يكتُبَ
عددَ الأشياءِ.

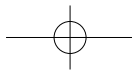
المفردات

عَشْرَات	آحاد

٥ آحاد و ٣ عَشْرَات = ٣٥
خَمْسَةٌ وَثَلَاثُونَ



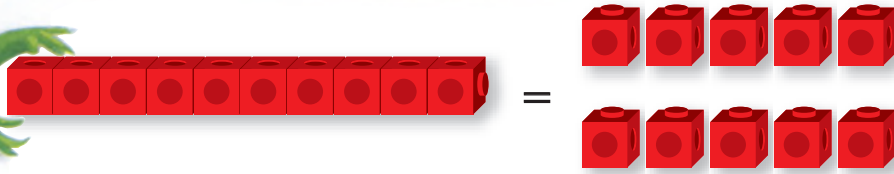
٩ عَشْرَات = تِسْعِينَ



العَشْرَاتُ

الدرس ١

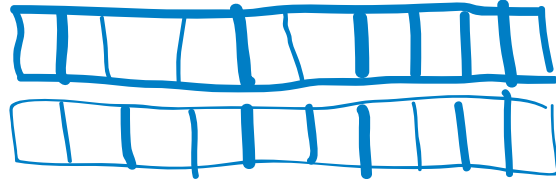
يُهَيِّبُكَ أَنْ تُجَمِّعَ الْأَشْيَاءَ فِي مَجْمُوعَاتٍ مِنْ عَشْرَةٍ،
وَأَنْ تُعَدَّهَا عَشْرَةً عَشْرَةً لِكَيْ تَجِدَ عَدَدَهَا.



عَشْرَةٌ وَاحِدَةٌ = ١٠

أَسْتَعْمِلُ ■ لِكَيْ أُجَمِّعَ عَشْرَاتٍ. أُرَسِّمُ الْعَشْرَاتِ.
أَعُدُّهَا عَشْرَةً عَشْرَةً. أَكْتُبُ الْعَدَدَ.

١ أُجَمِّعُ عَشْرَتَيْنِ.



٦٠
عَشْرُونَ

٢ أُجَمِّعُ ٣ عَشْرَاتٍ.

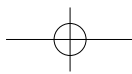
ثَلَاثُونَ

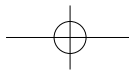
٣ أُجَمِّعُ ٥ عَشْرَاتٍ.

خَمْسُونَ

تَحَدَّثُ ■ اسْتِدْلَالٌ


كَمْ عَشْرَةً فِي ٨٠؟ كَيْفَ تَعْرِفُ ذَلِكَ؟





أَتَمَرُنْ

أَكْتُبُ عَدَدَ الْعَشْرَاتِ، أَعْدُ عَشْرَةَ عَشْرَةً.
أَكْتُبُ الْعَدَدَ الْكُلِّيَّ.



٣٠
ثَلَاثُونَ

٣
عَشْرَاتٍ



تِسْعُونَ

عَشْرَاتٍ



سَبْعُونَ

عَشْرَاتٍ



أَرْبَعُونَ

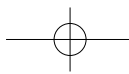
عَشْرَاتٍ



سِتُّونَ

عَشْرَاتٍ

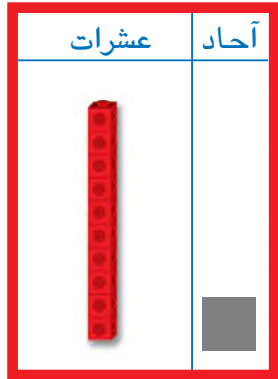
نَشَاطٌ مِّنْزِلِي • اظْلُبْ إِلَى وَلَدِكَ أَنْ يَجْمَعَ أَشْيَاءَ فِي عَشْرَاتٍ، وَأَنْ يُعْطِيَكَ عَدَدَهَا.



آحاد وَعَشْرَات


الدرس ٢

١١ هُوَ مَجْمُوعَةٌ وَاحِدَةٌ مِنْ
عَشْرَةٍ، وَوَاحِدٍ مُنْفَرِدٍ.




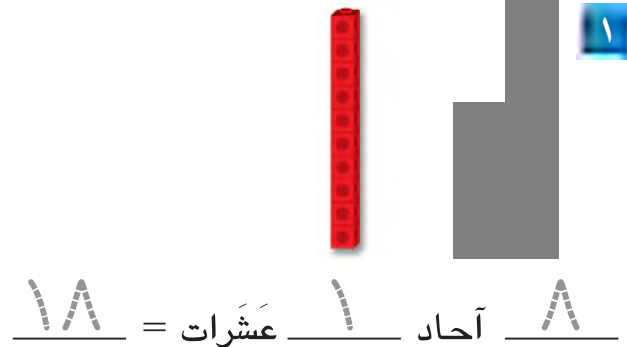
١١ = ١ عشرات ١ آحاد

١٠ هُوَ مَجْمُوعَةٌ وَاحِدَةٌ
مِنْ عَشْرَةٍ بِلاَ آحادٍ مُنْفَرِدَةٍ.




١٠ = ١ عشرات ٠ آحاد

أدُلُّ عَلَى مَجْمُوعَةِ الْعَشْرَةِ. أدُلُّ عَلَى الْآحادِ.
أَكْتُبْ عَدَدَ الْآحادِ وَعَدَدَ الْعَشْرَاتِ. أَكْتُبْ الْعَدَدَ.



تَحَدَّثْ ■ اسْتَدْلِلْ


بِمَاذَا يَتَشَابَهُ هَذَانِ الْعَدَدَانِ؟ بِمَاذَا يَخْتَلِفَانِ؟
اسْتَعْمِلْ ■ لِتُبَيِّنَ الْجَوَابَ.



_____ أحاد _____ عَشْرَات = _____

أَتَمَرْنُ

أَكْتُبْ عَدَدَ الْأَحَادِ وَعَدَدَ الْعَشْرَاتِ. أَكْتُبِ الْعَدَدَ.



_____ أحاد _____ عَشْرَات = _____



_____ أحاد _____ عَشْرَات = _____



_____ أحاد _____ عَشْرَات = _____



أَحُلْ مَسْأَلَةً ■ مَعْنَى الْعَدَدِ

أَيُّ عَدَدٍ أَنَا؟

٥ أنا عددٌ أَكْبَرُ مِنْ ١٠ وَأَصْغَرُ مِنْ ٢٠.

عَدَدٌ أَحَادِي يُسَاوِي عَدَدَ عَشْرَاتِي.

فَأَيُّ عَدَدٍ أَنَا؟


نَشَاطٌ مَنْزِلِي • اطلُبْ إِلَى وَلَدِكَ أَنْ يَسْتَعْمِلَ أَشْيَاءَ صَغِيرَةً لِتَمَثِيلِ الْأَعْدَادِ بَيْنَ ١٠ وَ ٢٠. اطلُبْ إِلَيْهِ أَنْ يَكُونَ مَجْمُوعَاتٍ مِنْ عَشْرَاتٍ وَأَحَادٍ. اطلُبْ إِلَيْهِ أَنْ يُعْطِيكَ عَدَدَ الْأَحَادِ وَعَدَدَ الْعَشْرَاتِ وَالْعَدَدَ الْحَاصِلَ.

الأعدادُ حتَّى ٩٩

الدرس ٣




٤٢ هُوَ ٤ عَشْرَاتٍ وَ ٢ أَحَادٍ




٢ أَحَادٍ ٤ عَشْرَاتٍ = ٤٢

٢٤ هُوَ ٢ عَشْرَاتٍ وَ ٤ أَحَادٍ




٤ أَحَادٍ ٢ عَشْرَاتٍ = ٢٤

أدُلُّ عَلَى مَجْمُوعَاتِ الْعَشْرَةِ. أدُلُّ عَلَى الْأَحَادِ.
أَكْتُبْ عَدَدَ الْأَحَادِ وَعَدَدَ الْعَشْرَاتِ. أَكْتُبْ الْعَدَدَ.



_____ أَحَادٍ _____ عَشْرَاتٍ = _____




_____ أَحَادٍ _____ عَشْرَاتٍ = _____

٤



_____ أَحَادٍ _____ عَشْرَاتٍ = _____

٣



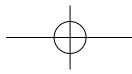
_____ أَحَادٍ _____ عَشْرَاتٍ = _____



تَحَدَّثْ ■ اسْتَدْلِلْ


عَلَى مَاذَا يَدُلُّ الصَّفْرُ فِي الْعَدَدِ ٣٠؟

اسْتَعْمِلْ ■ لِتَبِينِ الْجَوَابَ.




أَتَمَرُنْ


أَكْتُبْ عَدَدَ الْآحَادِ وَعَدَدَ الْعَشْرَاتِ. أَكْتُبْ الْعَدَدَ.




_____ آحاد _____ عَشْرَات = _____



_____ آحاد _____ عَشْرَات = _____




_____ آحاد _____ عَشْرَات = _____



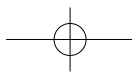
_____ آحاد _____ عَشْرَات = _____



أَحُلْ مَسْأَلَةً ■ اسْتِدْلَالٌ بَصْرِيٌّ
أَبِينِ الْعَدَدَ بِصُورَةٍ مُخْتَلِفَةٍ.




نَشَاطٌ مَنْزِلِيٌّ • اطَّلُبْ إِلَى وَلَدِكَ أَنْ يَذْكُرَ الْعَدَدَ الْمَكُونِ مِنْ ٣ آحَادٍ وَ ٧ عَشْرَاتٍ. كَرِّرِ الْعَمَلِيَّةَ مَعَ أَعْدَادٍ أُخْرَى.




أَفْصَلُ الأَعْدَادِ

الدرس ٤




$$\begin{array}{r} 90 = \text{عَشْرَات } 9 \text{ آحاد } 0 \\ 90 + 0 \end{array}$$


أَكْتُبُ عَدَدَ الآحَادِ وَعَدَدَ العَشْرَاتِ.
أَكْتُبُ العَدَدَ بِطَرِيقَةٍ مُخْتَلِفَةٍ.




$$\begin{array}{r} \text{عَشْرَات } 7 \text{ آحاد } 2 \\ \text{_____} + \text{_____} \end{array}$$



$$\begin{array}{r} \text{عَشْرَات } 4 \text{ آحاد } 14 \\ \text{_____} + \text{_____} \end{array}$$





$$\begin{array}{r} \text{عَشْرَات } 8 \text{ آحاد } 4 \\ \text{_____} + \text{_____} \end{array}$$



$$\begin{array}{r} \text{عَشْرَات } 5 \text{ آحاد } 3 \\ \text{_____} + \text{_____} \end{array}$$




تَحَدَّثْ ■ اسْتَدْلَالٌ


عَلَى مَاذَا يَدُلُّ العَدَدُ ٨ فِي كُلِّ مِّنْ هَذَيْنِ العَدَدَيْنِ؟
اسْتَعْمِلْ  وَ  لِتَبَيِّنَ الجَوَابَ.

أَتَمَّرْنِ


أَكْتُبْ عِدَدَ الْأَحَادِ وَعِدَدَ الْعَشْرَاتِ.
أَكْتُبْ الْعِدَدَ بِطَرِيقَةٍ مُخْتَلِفَةٍ.




_____ آحاد و _____ عشرات = _____
_____ + _____




_____ آحاد و _____ عشرات = _____
_____ + _____



_____ آحاد _____ عشرات = _____
_____ + _____



_____ آحاد _____ عشرات = _____
_____ + _____



أحلُّ مسألةً ■ استِدلال

أَسْتَعْمِلُ وَاللِّحْلُ.

مع هيووا (٣٧) شريطةً لاصقةً.

وَضَعَ هِيُوا هَذِهِ الشَّرَائِطَ عَلَى صَفْحَاتِ دَفْتَرِهِ

بِمُعَدَّلِ ١٠ شَرَائِطَ فِي الصَّفْحَةِ.

كَمْ صَفْحَةً مَلَأَ؟

صَفْحَاتٍ _____

شَرَائِطَ _____

كَمْ شَرِيْطَةً بَقِيَ مَعَهُ؟

نشاطٌ منزليٌّ • أعطِ ولدَكَ عِدَدًا بَيْنَ ١٠ و ١٠٠. اطلُبْ إِلَيْهِ أَنْ يَكْتُبَ عِدَدَ الْعَشْرَاتِ وَعِدَدَ الْأَحَادِ، ثُمَّ اطلُبْ إِلَيْهِ أَنْ يَكْتُبَهُ عَلَى شَكْلِ جَمْعٍ. مَثَلًا ٣٤ هُوَ ٤ أَحَادٍ وَ ٣ عَشْرَاتٍ، وَهُوَ ٤ + ٣٠.

أَحْلُ مَسْأَلَةً أَقْدِرُ

الدرس ٥

أَفْهَمُ أَخْطَطُ أَحْلُ أَتَحَقَّقُ

كَمْ كِتَابًا يُمَكِّنُكَ أَنْ تَحْمِلَ؟

حِينَ لَا أَحْتَاجُ إِلَى مَعْرِفَةِ
الْعَدَدِ بِدِقَّةٍ أَقُومُ بِتَقْدِيرِهِ.

تَقْرِيْبًا



٥

تَقْرِيْبًا



٥٠

أُحِطُّ بِالتَّقْدِيرِ الْأَنْسَبِ.

٢ كَمْ يُمَكِّنُكَ أَنْ تَحْمِلَ بِالْيَدِ الْوَاحِدَةِ؟

١ كَمْ فِي غُرْفَةِ الصَّفِّ؟

تَقْرِيْبًا ٥٠

٥ تَقْرِيْبًا ٥

تَقْرِيْبًا ٣٠

٣ تَقْرِيْبًا ٣

٤ كَمْ يُمَكِّنُكَ أَنْ تَضَعَ
فِي الصَّحْنِ؟

٣ كَمْ صَغِيرًا يُمَكِّنُكَ أَنْ تَحْمِلَ
بِالْيَدِ الْوَاحِدَةِ؟

تَقْرِيْبًا ٥٠

٥ تَقْرِيْبًا ٥

تَقْرِيْبًا ٤٠

١٠ تَقْرِيْبًا ١٠



أَتَمَّرُنْ

أُحِوِّطُ التَّقْدِيرَ الْأَنْسَبَ.

١ كَمْ  يُمَكِّنُكَ أَنْ تَحْمَلَ فِي صِنِّيَّةٍ؟

٢ كَمْ  يُمَكِّنُكَ أَنْ تَحْمَلَ بِيَدٍ وَاحِدَةٍ؟


١٠  تَقْرِيْبًا

٨٠  تَقْرِيْبًا

١٠  تَقْرِيْبًا

٧٠  تَقْرِيْبًا

٣ كَمْ  فِي غُرْفَةِ الصَّفِّ؟


٤ كَمْ  يَلْزِمُ لِتُغَطِّيَ صَفْحَةَ كِتَابٍ؟

١٠  تَقْرِيْبًا

٦٠  تَقْرِيْبًا

١٠  تَقْرِيْبًا

٩٠  تَقْرِيْبًا

٥ كَمْ  مِنْ أَوْرَاقِ الْكِتَابِ يَلْزِمُ لِتُغَطِّيَ طَاوِلَتَكَ فِي الصَّفِّ؟

٦ كَمْ  يُمَكِّنُكَ أَنْ تَحْمَلَ بِيَدَيْكَ؟

٨  تَقْرِيْبًا

٨٠  تَقْرِيْبًا

١٠  تَقْرِيْبًا

٤٠  تَقْرِيْبًا

اَكْتُبْ

أَلْفَ مَسْأَلَةٍ، ثُمَّ اطَّلِبْ إِلَى زَمِيلِكَ أَنْ يَخْتَارَ التَّقْدِيرَ الْأَنْسَبَ.


نَشَاطٌ مَنْزِلِي • اطَّلِبْ إِلَى وَلَدِكَ أَنْ يَقْدِرَ كَمْ كُرَّةً زُجَاجِيَّةً يَسْتَطِيعُ أَنْ يَحْمَلَ بِبِيَدِهِ، ١٠ كُرَاتٍ زُجَاجِيَّةً تَقْرِيْبًا أَمْ ٩٠ كُرَّةً زُجَاجِيَّةً تَقْرِيْبًا. اطَّلِبْ إِلَيْهِ أَنْ يَتَحَقَّقَ مِنْ ذَلِكَ.

مُرَاجَعَةٌ

الفصل ٧

الاسم _____

اَكْتُبْ عِدَدَ الْعَشْرَاتِ. اَكْتُبْ الْعِدَدَ.



٢


_____ = عَشْرَات



١

_____ = عَشْرَات

اَكْتُبْ عِدَدَ الْاَحَادِ وَعِدَدَ الْعَشْرَاتِ. اَكْتُبْ الْعِدَدَ.



٤


_____ = عَشْرَات _____ اَحَاد



٣

_____ = عَشْرَات _____ اَحَاد


اَكْتُبْ عِدَدَ الْاَحَادِ وَعِدَدَ الْعَشْرَاتِ.
اَكْتُبْ الْعِدَدَ بِطَرِيقَةٍ مُخْتَلَفَةٍ.



٦

_____ = عَشْرَات _____ اَحَاد

_____ + _____



٥

_____ = عَشْرَات _____ اَحَاد

_____ + _____



اَحَلُّ مَسْأَلَةٌ

اُحَوِّطُ التَّقْدِيرَ الْاَنْسَبَ.

٧ كم يمكن أن تضع في الفنجان؟

تقريباً ٩٠

تقريباً ١٠

تَحْضِيرٌ لِلِإِخْتِبَارِ

الفصل ٧

الإسمُ

أَخْتَارُ الْجَوَابَ الْمُنَاسِبَ.

١ ماذا يبين هذا الرسم؟



٤ عَشْرَات



٦ عَشْرَات



٧ عَشْرَات



٥ عَشْرَات



٢ أَيُّ عَدَدٍ يَبِينُ هَذَا الرَّسْمُ؟



٧٦



٧٠



٦٧



٧٧



٣ أَيُّ كِتَابَةٍ تُمَثِّلُ ٤ آحَادٍ وَ ٨ عَشْرَاتٍ؟

$٤ + ٨٠$



$٤٠ + ٨$



$٤٠ + ٨٠$



$٠ + ٨٠$



٤ كَمْ شَخْصًا يُمَكِّنُهُمْ أَنْ يَرْكَبُوا مَعًا فِي سَيَّارَةٍ خَاصَّةٍ وَاحِدَةٍ؟

٩٠ تَقْرِيْبًا



٤٠ تَقْرِيْبًا



١٤ تَقْرِيْبًا



٤ تَقْرِيْبًا



٥ أَكْتُبْ عَدَدًا يَحْتَوِي

عَلَى آحَادٍ وَعَشْرَاتٍ.

أَسْتَعْمِلُ وَ لِتَمَثِيلِ

هَذَا الْعَدَدِ.

مُقَارَنَةُ الأَعْدَادِ وَتَرْتِيبُهَا

الفصل

٨



انظر إلى مجموعات الأسماك.
أي مجموعة فيها أكثر؟
أي مجموعة فيها أقل؟



الأهل الأعزّاء،

اليوم نبدأ الفصل ٨. سنتعلّم فيه كيف نقارن
بين الأعداد ضمن ٩٩ وكيف نرتّبها. نتعلّم أيضًا
الأعداد الترتيبية ونستعملها. تحوي هذه الصفحة
المفردات الرياضية الجديدة ونشاطًا نقوم به
معًا في المنزل.

مع حبّي،

مُفرداتي الجديدةُ
أصغرُ من يُساوي
قَبْلَ بَيْنَ
بَعْدَ أكبرُ من

نشاط

اكتب على قطع ورقية منفصلة الأعداد
من ٥٠ إلى ٦٠ والرموز <، =، >.
اخلط قطع الورق التي تحمل أعدادًا
واقلبها لتخفي الأعداد المكتوبة عليها.
اطلب إلى ولدك أن يختار قطعتين من
الورق، ويفتحهما لإظهار العددين
المكتوبين عليهما. ثم اطلب إليه أن
يختار الورقة التي تحمل الرمز المناسب
ليضعه بين العددين.

المفردات

$$26 > 24$$

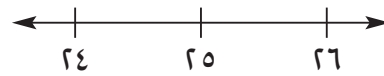
٢٤ أصغر من ٢٦

$$24 < 26$$

٢٦ أكبر من ٢٤

$$24 = 24$$

٢٤ يساوي ٢٤



٢٤ يقع قبل ٢٥ على خط الأعداد.

٢٥ يقع بين ٢٤ و ٢٦.

٢٦ يقع بعد ٢٥.

أكبر من (<)، أصغر من (>)



الدرس ١

أيهما أكبر ٤٣ أم ٤٧؟ أيهما أصغر؟

عدد العشرات هو نفسه،
لكن عدد الآحاد في ٤٧ هو
الأكبر.



٤٣ أصغر من ٤٧
 $٤٧ > ٤٣$



٤٧ أكبر من ٤٣

$٤٣ < ٤٧$

أستعمل و لتمثيل الأعداد.
أحوظ العدد الأكبر، ثم أكتب الأعداد في المكان المناسب.



٢

_____ أكبر من _____
_____ < _____



١

_____ أكبر من _____
_____ < _____

أحوظ العدد الأصغر، ثم أكتب الأعداد في المكان المناسب.



٤

_____ أصغر من _____
_____ > _____

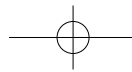


٣

_____ أصغر من _____
_____ > _____

تحدث ■ استدلال

لكي تحدد العدد الأكبر، هل تقارن بين العشرات أولاً أم بين الآحاد؟



أَتَمَّرْنُ



لَا تَنْسَ أَنْ تُقَارِنَ عَدَدَ
العَشْرَاتِ أَوَّلًا.

أُحِوِّطُ الْعَدَدَ الْأَكْبَرَ.
أَكْتُبُ الْأَعْدَادَ فِي الْمَكَانِ الْمُنَاسِبِ.



_____ أَكْبَرُ مِنْ _____
_____ < _____



_____ أَكْبَرُ مِنْ _____
_____ < _____



_____ أَكْبَرُ مِنْ _____
_____ < _____



_____ أَكْبَرُ مِنْ _____
_____ < _____

أُحِوِّطُ الْعَدَدَ الْأَصْغَرَ. أَكْتُبُ الْأَعْدَادَ فِي الْمَكَانِ الْمُنَاسِبِ.



_____ أَصْغَرُ مِنْ _____
_____ > _____



_____ أَصْغَرُ مِنْ _____
_____ > _____

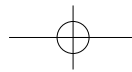


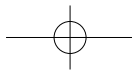
أَحْلُ مَسْأَلَةً ■ مَعْنَى الْعَدَدِ

٧ أُحِوِّطُ الْأَعْدَادَ الَّتِي تَزِيدُ عَلَى ٥٠.

٧٠ ٦٢ ٤٤ ٩٤ ٨٣ ١٤

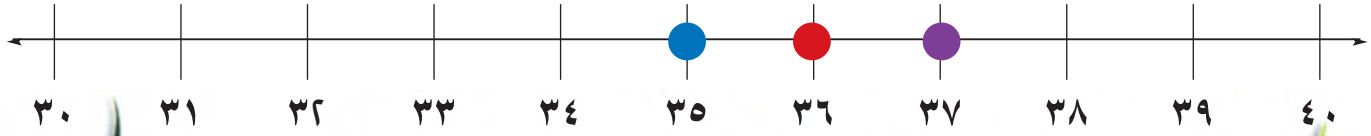
نشاط منزلي • أعطِ ولدَكَ عَدَدَيْنِ أَقَلَّ مِنْ ١٠٠، واطلُبِ إِلَيْهِ أَنْ يَكْتُبَ الْعَدَدَيْنِ وَبَيْنَهُمَا الرَّمْزَ <.



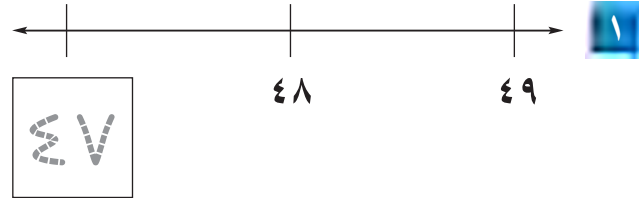
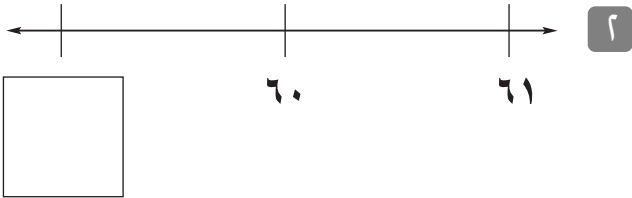


قَبْلَ، بَعْدَ، بَيْنَ

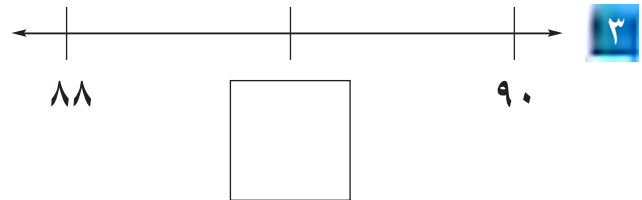
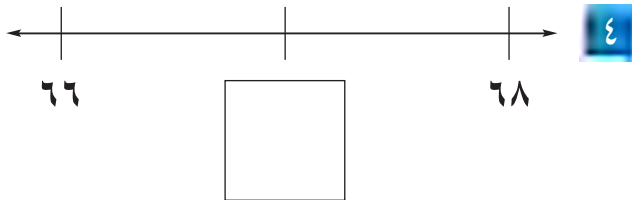
الدرس ٢



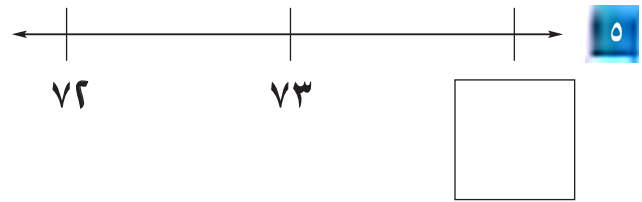
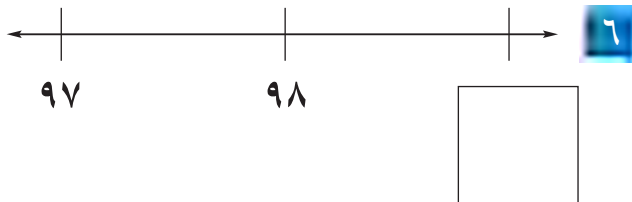
اَكْتُبِ الْعَدَدَ الَّذِي يَقَعُ مُبَاشَرَةً قَبْلَ الْعَدَدَيْنِ.



اَكْتُبِ الْعَدَدَ الَّذِي يَقَعُ بَيْنَ الْعَدَدَيْنِ.

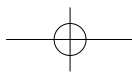


اَكْتُبِ الْعَدَدَ الَّذِي يَقَعُ مُبَاشَرَةً بَعْدَ الْعَدَدَيْنِ.



تَحَدَّثْ ■ اسْتِدْلَالٌ

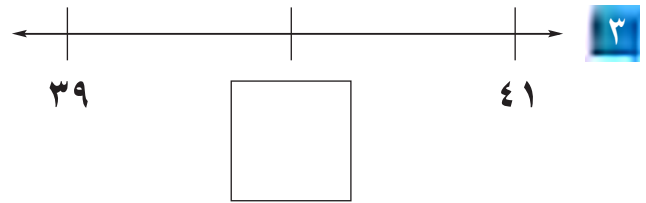
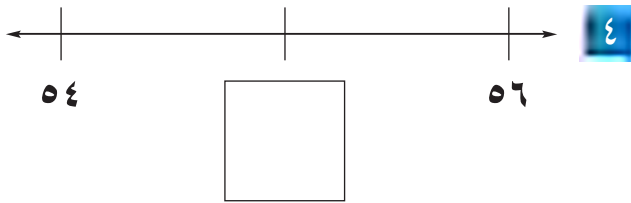
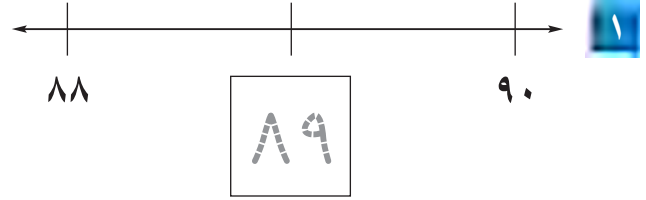
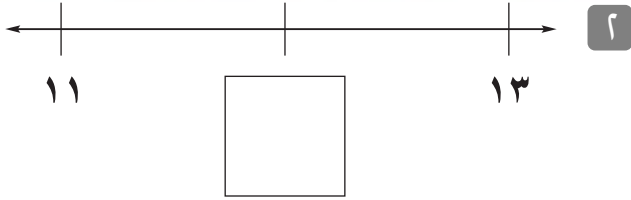
كَيْفَ تَكْتُبُ الْعَدَدَ الَّذِي يَقَعُ مُبَاشَرَةً بَعْدَ الْعَدَدِ ٩٠؟
اشرحْ كَيْفَ عَرَفْتَ ذَلِكَ.



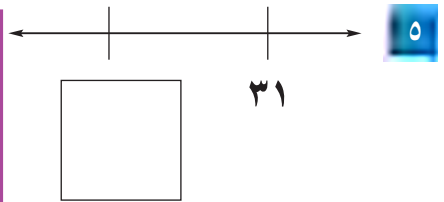
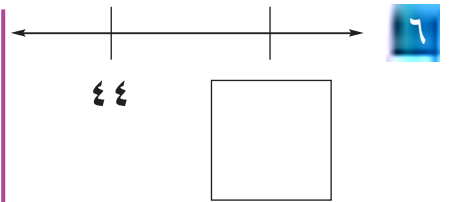
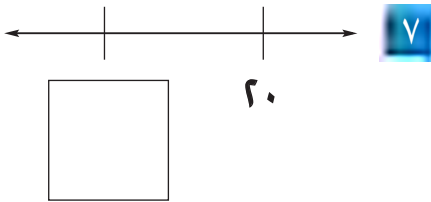


أَتَمَّرْنِ

أَكْتُبِ الْعَدَدَ الَّذِي يَقَعُ بَيْنَ الْعَدَدَيْنِ.

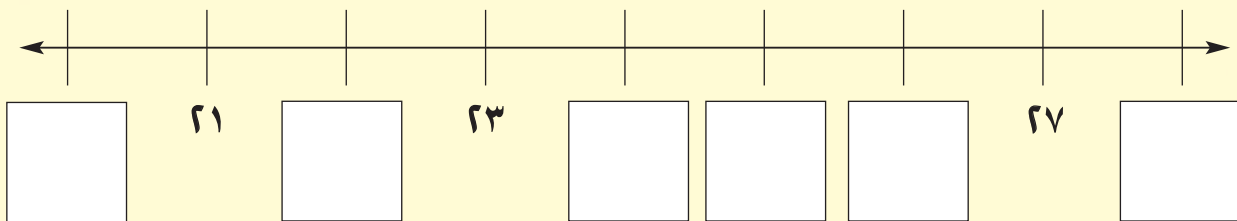


أَكْتُبِ الْعَدَدَ الَّذِي يَقَعُ مُبَاشَرَةً قَبْلَ أَوْ بَعْدَ.



أَحُلِّ مَسْأَلَةً ■ تَفْكِيرٌ بَصْرِيٌّ

٨ أَكْتُبِ الْأَعْدَادَ النَّاقِصَةَ.

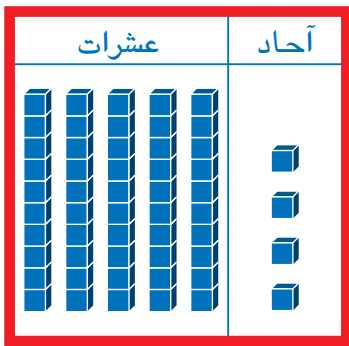


نشاط منزلي • اختر عدداً من رقمين. اطلب إلى ولدك أن يعطيك العدد الذي يقع قبله مباشرة والعدد الذي يقع بعده مباشرة. اطلب إلى ولدك أن يستعمل كلمة «بين» لترتيب الأعداد الثلاثة.

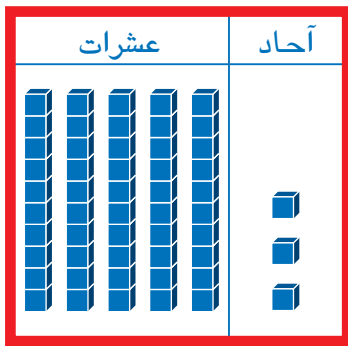
واحدٌ أو عشرةٌ

الدرس ٣

٥٤ أكثرُ بواحدٍ من ٥٣

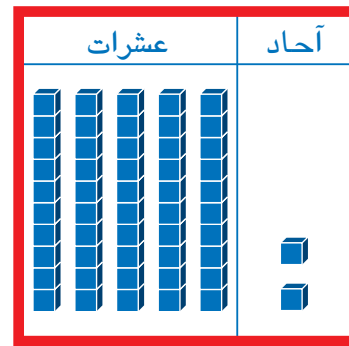


٥٤



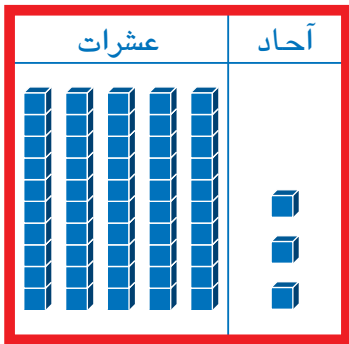
٥٣

٥٢ أقلُّ بواحدٍ من ٥٣

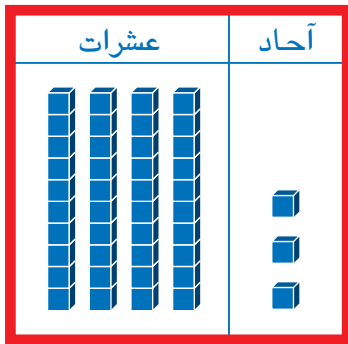


٥٢

٥٣ أكثرُ بعشرةٍ من ٤٣

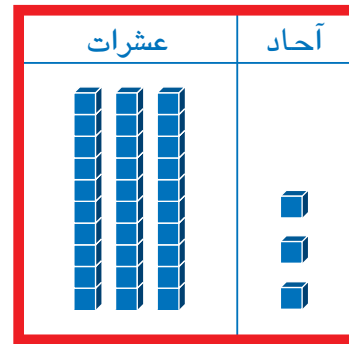


٥٣



٤٣

٣٣ أقلُّ بعشرةٍ من ٤٣



٣٣



اكتب الأعداد الناقصة.

أكثرُ بعشرةٍ	أقلُّ بعشرةٍ	
٤٩	٣٩	٦٩
_____	٤٠	_____
_____	٤١	_____
_____	٤٢	_____

أكثرُ بواحدٍ	أقلُّ بواحدٍ	
٤٨	٤٧	٤٦
_____	٩٨	_____
_____	٣٢	_____
_____	٢٠	_____

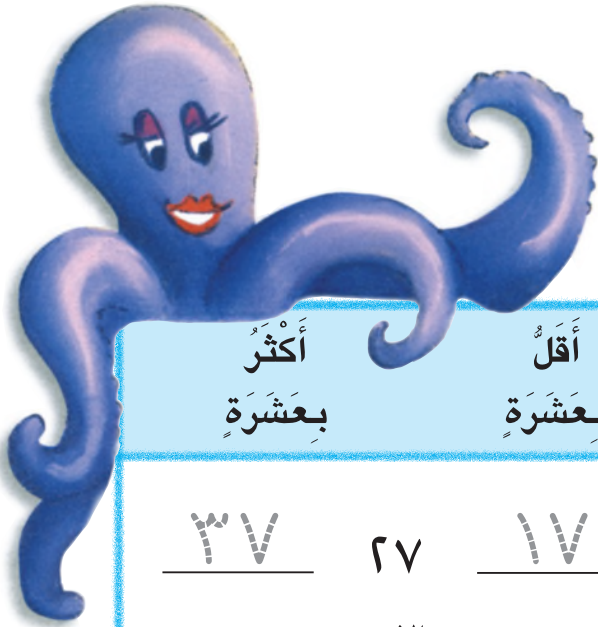
تحدث ■ استدلال

أيُّ عددٍ أكثرُ بواحدٍ من ٩٨؟

أيُّ عددٍ أقلُّ بعشرةٍ من ١٠؟

أَتَمَرْنُ

اَكْتُبِ الأَعْدَادَ النَّاقِصَةَ.



أَكْثَرُ بِعَشْرَةٍ	أَقَلُّ بِعَشْرَةٍ		
٣٧	٢٧	١٧	٩
_____	٥٣	_____	١٠
_____	٨٩	_____	١١
_____	٣٥	_____	١٢
_____	٦١	_____	١٣
_____	٥٠	_____	١٤
_____	٧٧	_____	١٥
_____	١٢	_____	١٦

أَكْثَرُ بِوَاحِدٍ	أَقَلُّ بِوَاحِدٍ		
٦٣	٦٢	٦١	١
_____	٤١	_____	٢
_____	٣٦	_____	٣
_____	١٥	_____	٤
_____	٨٨	_____	٥
_____	٢٣	_____	٦
_____	٨٢	_____	٧
_____	٦٢	_____	٨



أَحْلُ مَسْأَلَةٌ ■ اسْتِدْلَالٌ

اَكْتُبِ عَدَدَ الأَصْدَافِ الَّتِي يَحْمِلُهَا كُلُّ وُلْدٍ.

- ١٧ يَحْمِلُ سَرْمَدُ ١٠ أَكْثَرُ مِنْ مَازِنِ.
 يَحْمِلُ يَوْسُفُ ١٠ أَقَلَّ مِنْ مَازِنِ.
 يَحْمِلُ مَازِنٌ وَاحِدَةً أَكْثَرَ مِنْ ٤٣.

<input type="text"/>	<input type="text"/>	<input type="text"/>
----------------------	----------------------	----------------------

سَرْمَدُ مَازِنُ يَوْسُفُ


نَشَاطٌ مَنْزِلِيٌّ • أَعْطِ وَلَدَكَ عَدَدًا مِنْ رَقْمَيْنِ، ثُمَّ اظْلُبْ إِلَيْهِ أَنْ يُعْطِيَكَ العَدَدَ الأَكْثَرَ بِعَشْرَةٍ، وَالعَدَدَ الأَقَلَّ بِوَاحِدٍ.

أرتب: أول، ثان، ثالث

الدرس ٤



أحوظ لأبين الترتيب.



تحدث ■ استدلال

إذا كنت الثامن في رتل، فكم شخصاً يكون أمامك؟ بين ذلك.

أَتَمَّرْنُ

أَلْوَنُ لِأَبْيَنِ التَّرْتِيبِ.

١

عَاشِرٌ



ثَامِنٌ



خَامِسٌ



ثَالِثٌ



ثَانٍ



أَوَّلٌ



أَحْلُ مَسْأَلَةٌ ■ اسْتِدْلَالٌ

٢ أَلْوَنُ النَّحْلَةَ الثَّانِيَةَ مِنْ جِهَةِ خَلِيَّةِ النَّحْلِ


أَلْوَنُ النَّحْلَةَ الرَّابِعَةَ مِنْ جِهَةِ خَلِيَّةِ النَّحْلِ




نَشَاطٌ مَنَزَلِيٌّ • اظْلُبْ إِلَى وَلَدِكَ أَنْ يَدُلَّكَ عَلَى الْفَرَّاشَةِ الرَّابِعَةِ فِي الصُّورَةِ.

أنماطٌ على لوحَةِ الأعداد

الدرس ٥

١ أعدُّ عشرةً عشرةً. أكتبُ الأعدادَ الناقصةً.
أستعملُ  لتلوينِ الأعدادِ التي أكتبُها.

١٠	٩	٨	٧	٦	٥	٤	٣	٢	١
	١٩	١٨	١٧	١٦	١٥	١٤	١٣	١٢	١١
	٢٩	٢٨	٢٧	٢٦	٢٥	٢٤	٢٣	٢٢	٢١
	٣٩	٣٨	٣٧	٣٦	٣٥	٣٤	٣٣	٣٢	٣١
	٤٩	٤٨	٤٧	٤٦	٤٥	٤٤	٤٣	٤٢	٤١
	٥٩	٥٨	٥٧	٥٦	٥٥	٥٤	٥٣	٥٢	٥١
	٦٩	٦٨	٦٧	٦٦	٦٥	٦٤	٦٣	٦٢	٦١
	٧٩	٧٨	٧٧	٧٦	٧٥	٧٤	٧٣	٧٢	٧١
	٨٩	٨٨	٨٧	٨٦	٨٥	٨٤	٨٣	٨٢	٨١
	٩٩	٩٨	٩٧	٩٦	٩٥	٩٤	٩٣	٩٢	٩١

٢ أعدُّ خمسةً خمسةً.
أستعملُ  لتلوينِ
الأعدادِ التي أذكرُها.

تحدّث ■ استِدْلال

اكتبِ الأعدادَ التي كتبتَها في التمرينِ الأوّلِ: ١٠، ٢٠،
كيفَ تنتقلُ من عددٍ إلى العددِ الذي يليه؟

أَتَمَّرُنْ

١ أعد اثْنَيْنِ اثْنَيْنِ. اكتب الأعداد الناقصة.
استعمل لتلوين الأعداد التي أذكرها.

	٩	٧	٥	٤	٣	٢	١
	١٩	١٧	١٥		١٣		١١
	٢٩	٢٧	٢٥		٢٣		٢١
	٣٩	٣٧	٣٥		٣٣		٣١
	٤٩	٤٧	٤٥		٤٣		٤١
	٥٩	٥٧	٥٥		٥٣		٥١
	٦٩	٦٧	٦٥		٦٣		٦١
	٧٩	٧٧	٧٥		٧٣		٧١
	٨٩	٨٧	٨٥		٨٣		٨١
	٩٩	٩٧	٩٥		٩٣		٩١



أحلُّ مسألةً ■ تطبيق

أحلُّ. أكمل الجدول.

٢ يشتري سعيد ١٠ أرغفة يومياً لأسرته. كم رغيفاً يشتري سعيد حتى يوم الثلاثاء؟

الثلاثاء	الاثنين	الأحد	السبت
		٦٠	١٠

رغيفاً _____

نشاط منزلي • اطلب إلى ولدك أن يشرح لك كيف يستعمل لوحة المئة لكي يعد خمسة خمسة.


أَعِدُّ قَفْزًا

الدرس ٦

أَعِدُّ قَفْزًا. أَعِدُّ الْقَفَازَاتِ اثْنَيْنِ اثْنَيْنِ. أَكْتُبْ عَدَّهَا.



قَفَازًا

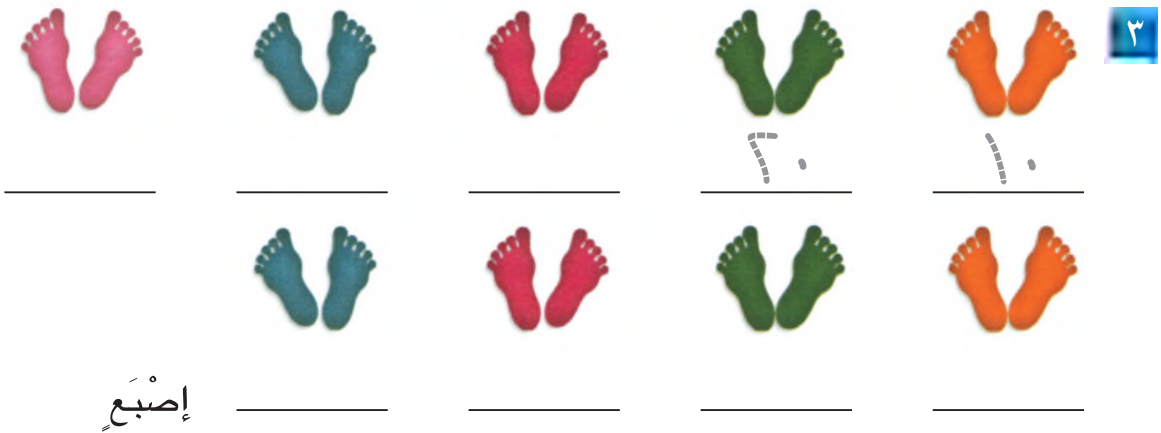


أَعِدُّ قَفْزًا. أَعِدُّ الْأَصَابِعَ خَمْسَةَ خَمْسَةَ. أَكْتُبْ عَدَّهَا.



إِصْبَعًا

أَعِدُّ قَفْزًا. أَعِدُّ أَصَابِعَ الْأَرْجُلِ عَشْرَةَ عَشْرَةَ. أَكْتُبْ عَدَّهَا.



إِصْبَعٍ

تَحَدَّثُ ■ اسْتِدْلَالٌ

عِنْدَمَا تَعُدُّ خَمْسَةَ خَمْسَةَ، كَيْفَ تَنْتَقِلُ مِنْ عَدَدٍ إِلَى الْعَدَدِ الَّذِي يَأْتِي بَعْدَهُ؟

أَتَمَّرْنُ

أَعِدُّ قَفْزًا. أَكْتُبُ العَدَدَ.



أَعِدُّ قَفْزًا. أَكْتُبُ الأَعْدَادَ النَّاقِصَةَ.

٤ ٢، ٤، ٦، _____، _____، ١٤، _____، ١٨


٥ ١٠، _____، ٣٠، _____، _____، ٦٠، ٧٠، _____، ٩٠

أَحِلُّ مَسْأَلَةٌ ■ تَفْكِيرٌ بَصْرِيٌّ

٦ أَعِدُّ قَفْزًا.

عَدَدُ أَصَابِعِ اليَدِ الوَاحِدَةِ ٥.

كَمْ إِصْبَعًا فِي الصُّورَةِ؟



إِصْبَعًا _____

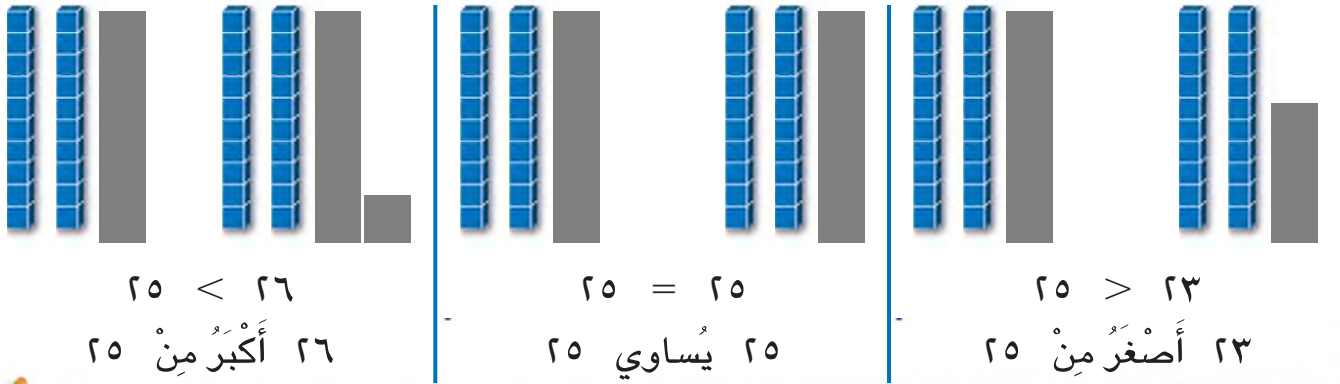
نشاطٌ مَنْزِلِيٌّ • ارْسُمْ ٢٠ نَجْمَةً عَلَى وَرَقَةٍ. اطلُبْ إِلَى وَلَدِكَ أَنْ يَحِوِّطَ النُّجُومَ اثْنَتَيْنِ اثْنَتَيْنِ، ثُمَّ اطلُبْ إِلَيْهِ أَنْ يَعِدَّ اثْنَتَيْنِ اثْنَتَيْنِ حَتَّى يَجِدَ عَدَدَ النُّجُومِ. كَرِّرِ النِّشَاطَ مَعَ مَجْمُوعَاتٍ مِنْ ٥ نُجُومٍ.

أَحَلُّ مَسْأَلَةٍ أَصْنَعُ نَمُودَجًا

الدرس ٧


أَفْهَمُ أَخْطَطُ أَحَلُّ أَتَحَقَّقُ

أَيُّ عَدَدٍ أَصْغَرُ مِنْ (>)، أَوْ أَكْبَرُ مِنْ (<)، أَوْ يُسَاوِي (=) ٢٥؟



أَسْتَعْمِلُ وَ لِتَمَثِيلِ كُلِّ عَدَدٍ. أَرْسُمُ وَ . أَكْتُبُ الْكَلِمَاتِ وَالْأَعْدَادَ.

أَيُّ عَدَدٍ أَصْغَرُ مِنْ، أَوْ أَكْبَرُ مِنْ، أَوْ يُسَاوِي ٥٦؟

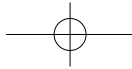


٥٦ _____ ٥٦
_____ = _____

٥٦ _____ أَصْغَرُ مِنْ ٥٦
_____ > _____

٥٦ _____ ٦٥
_____ < _____

٥٦ _____ ٣٦
_____ > _____




أَتَمَّرُنْ



أَسْتَعْمِلُ وَ لِتَمَثِيلِ كُلِّ عَدَدٍ.
 أَرَسُمُ وَ .

أَيُّ عَدَدٍ أَصْغَرَ مِنْ، أَوْ أَكْبَرَ مِنْ، أَوْ يُسَاوِي ٤٢؟

٢



١

_____ ٤٠ _____
 ٤٢

_____ ٦٢ _____
 أَكْبَرُ مِنْ ٤٢

_____ > _____

_____ ٦٢ < _____
 ٥٢

٤


٣

_____ ٤٢ _____
 ٢٤

_____ ٤٢ _____
 ٤٢

_____ < _____

_____ = _____



الجبر

أَضَعْ فِي الدَّائِرَةِ الرَّمَزَ الْمُنَاسِبَ مِنْ هَذِهِ الرُّمُوزِ <, >, =.

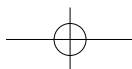
٢ آحاد و٢ عشرات ٥ + ٣٠ ٦

٤ آحاد و٦ عشرات ٤ + ٦٠ ٥

٣ آحاد و٤ عشرات ٣ + ٤٠ ٨

٨ آحاد و٢ عشرات ٩ + ٢٠ ٧

نشاط منزلي • اختر عددين أصغر من ١٠٠، واطلب إلى ولدك أن يكتبهما مستعملاً رموز المقارنة التي تعلمها (>, <, =).

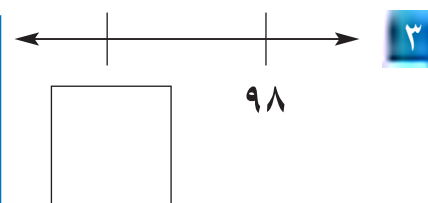
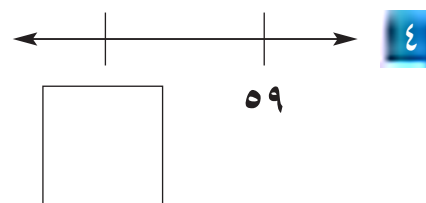
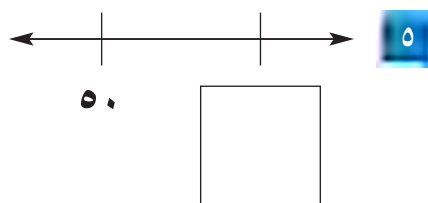
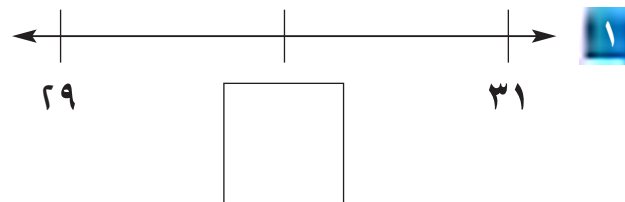
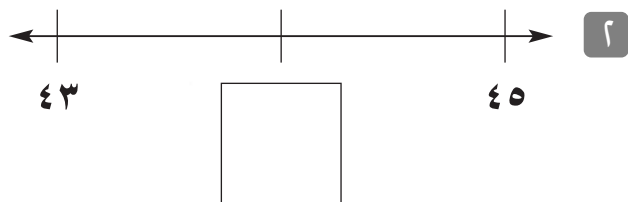


مُراجَعَة

الفصل ٨

الإسم _____

أَكْتُبِ العَدَدَ الَّذِي يَقَعُ مُبَاشَرَةً قَبْلَ أَوْ بَعْدَ أَوْ بَيْنَ.



أُحَوِّطُ لِأَبْيَنِ التَّرْتِيبِ.



أَوَّلُ



٧ أَكْتُبِ الأَعْدَادَ النَّاغِصَةَ.
أَلْوَنُ الأَعْدَادَ الَّتِي أَدَّكُرُهَا.

١٠	٩	٨				٤	٣	٢	١
			١٧	١٦	١٥			١٢	
٣٠		٢٨		٢٦		٢٤			٢١

٨ أُنْهِمِ ٢، ٤، ٦، _____، _____، _____، _____، _____، _____.

٩ أُنْهِمِ ١٥، ٢٠، ٢٥، _____، _____، _____، _____، _____.

١٠ أُنْهِمِ ٩٠، ٨٠، ٧٠، _____، _____، _____، _____، _____.

تَحْضِيرٌ لِلإِخْتِبَارِ

الفصل ٨

الإسمُ _____

أخْتَارُ الجَوَابَ المُنَاسِبَ.

١ أيُّ عَدَدٍ أَكْبَرُ مِنْ ٦٥؟

٥٦ ٦٦ ٦٥ ٦١

٢ $6 < \underline{\quad}$

٥ ٣ ٦ ٧

٣ أيُّ عَدَدٍ أَصْغَرُ مِنْ ٢٤؟

٣٤ ٢٤ ٢٣ ٣٠

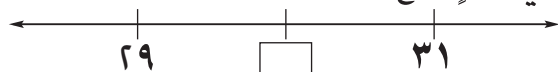
٤ $١٢ > \underline{\quad}$

٢ ٢٢ ١٢ ٣٢

٥ $٧٣ = \underline{\quad}$

٣٧ ٦٣ ٧٣ ٨٣

٦ أيُّ عَدَدٍ يَقَعُ بَيْنَ ٢٩ وَ ٣١؟



٢٨ ٣٠ ٣٢ ٤٠

٧ أيُّ حَشْرَةٍ هِيَ الخَامِسَةُ؟



٨ ما العَدَدُ النَّاقِصُ؟

٥، ١٠، ١٥، ٢٠، _____، ٣٠، ٣٥، ٤٠

٢٥


٢٤

٢٢

١٥

جَمْعٌ وَطَرَحٌ

الفصل
٩



أَنْظُرْ إِلَى الصُّورَةِ
وَأَحْكِي حِكَايَاتِ طَرَحٍ

١٣١



رسالة إلى الأهل

الأهل الأعزّاء،

اليومَ نبدأ الفصلَ ٩ . سندرس فيه العلاقة بين الجمع والطرح، ونتعرّف إلى حقائق الطرح المرتبطة بـ حقائق الجمع . تحوي هذه الصفحة المفردات الرياضية الجديدة ونشاطاً نقوم به معاً في المنزل .

مع حبّي،

مُفرداتي الجديدةُ

العدّ إلى الوراء
حقائق مُترابطة

نشاط

قدّم إلى ولدك مجموعتين من صنفين مختلفين. ثمّ أسأله كمّ تزيد عناصر المجموعة الكبرى على عناصر المجموعة الأخرى. اطلب إليه أن يكتب جملة الطرح.

المفردات

لكي تطرح، يُمكنك أن تعدّ إلى الوراء على خطّ الأعداد.

$$9 = 12 - 3$$



ابدأ من ١٢ ثمّ عدّ ٣ إلى

الوراء ٩، ١٠، ١١

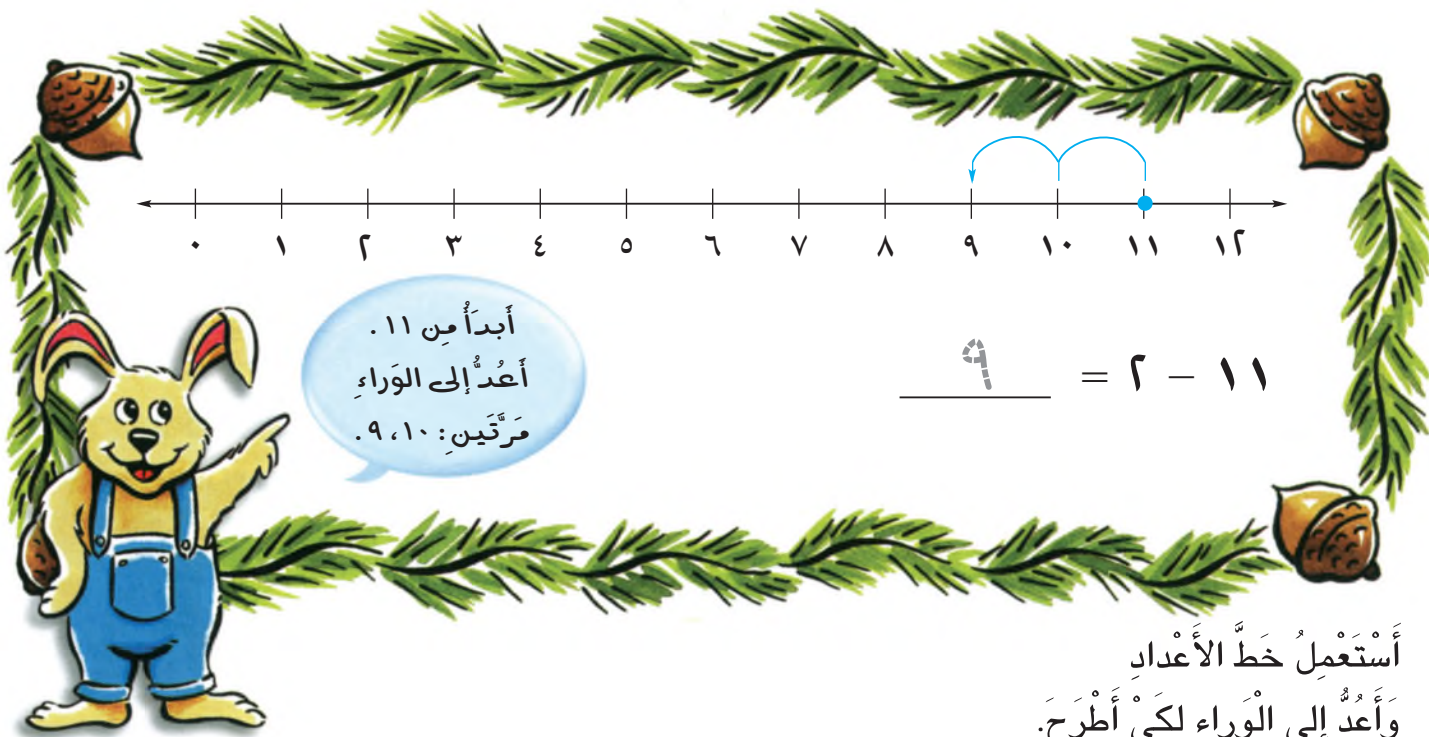
هذه حقائق رياضية مترابطة. كلُّ حقيقة جمع ترتبط بحقيقتي طرح.

$$12 = 9 + 3$$

$$3 = 9 - 12 \quad 9 = 3 - 12$$

أَعُدُّ إِلَى الْوَرَاءِ


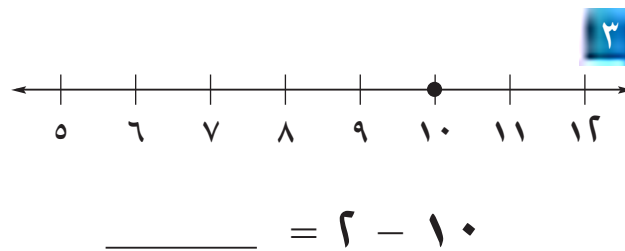
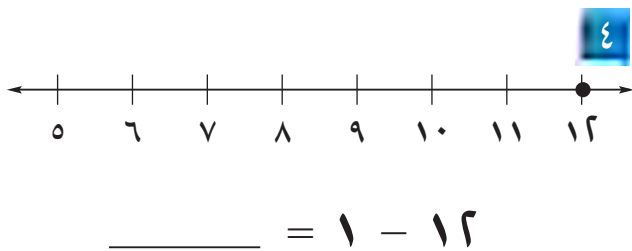
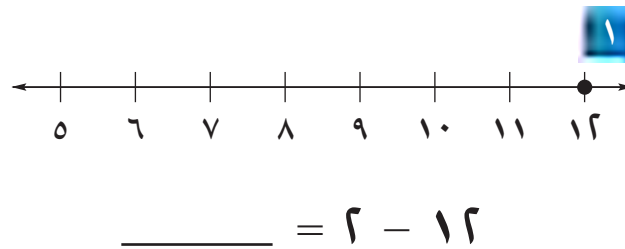
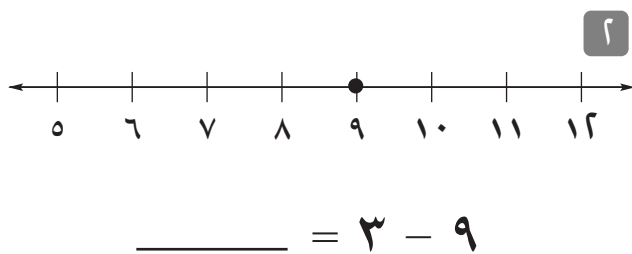
الدرس ١




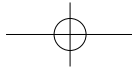
أَبْدَأُ مِنْ ١١ .
أَعُدُّ إِلَى الْوَرَاءِ
مَرَّتَيْنِ : ١٠ ، ٩ .

$9 = 11 - 2$

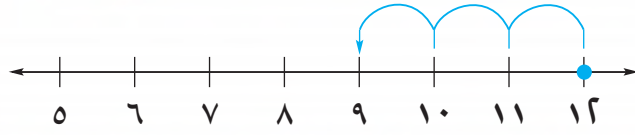
أَسْتَعْمِلُ خَطَّ الْأَعْدَادِ
وَأَعُدُّ إِلَى الْوَرَاءِ لِكَيْ أَطْرَحَ .



تَحَدَّثْ ■ اسْتَدْلِلْ
كَيْفَ تَحْسِبُ الْفَرْقَ ١٠ - ٣ مِنْ دُونِ
اسْتِعْمَالِ خَطِّ الْأَعْدَادِ؟



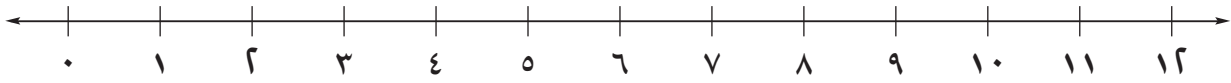
أبدأ من ١٢.
أعدُّ إلى الوراء ٣ مرَّاتٍ:
٩، ١٠، ١١.



أَتَمَّرُنْ

١٢
٣-
٩

أعدُّ إلى الوراء لكي أطرح. أكتب الفرق.
يُمكنني استعمال خطِّ الأعداد.



٨	٧	٩	١٠	١١	١٠
٢-	٢-	٢-	٣-	٣-	٢-

١

١١	٦	٧	٩	١١	١٠
١-	٣-	٣-	١-	٢-	١-

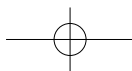
٢

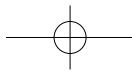
مراجعة

أكمل بالألوان المناسبة.



نشاط منزلي • ساعد ولدك على استعمال خطِّ الأعداد للقيام بعمليات طرح.






بِكَمِ أَكْثَرُ؟

الدرس ٢

عَدَدُ التُّفَاحَاتِ أَكْثَرُ بَاثْنَتَيْنِ مِنْ عَدَدِ الْبُرْتُقَالَاتِ .

كَمْ يَزِيدُ عَدَدُ التُّفَاحَاتِ
عَلَى عَدَدِ الْبُرْتُقَالَاتِ؟


$$\begin{array}{r} 11 \\ 9 - \\ \hline 2 \end{array}$$



أرْسُمْ خُطُوطًا لِلْمُطَابَقَةِ. أَطْرَحُ.

كَمْ يَقِلُّ عَدَدُ الْكُرَزَاتِ عَنْ عَدَدِ الْمَوْزَاتِ؟

$$\begin{array}{r} 12 \\ 8 - \\ \hline 4 \end{array}$$



كَمْ يَزِيدُ عَدَدُ الْفَرَاوَلَاتِ عَلَى عَدَدِ الْإِجَاصَاتِ؟

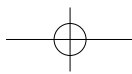
$$\begin{array}{r} 10 \\ 7 - \\ \hline 3 \end{array}$$



١٣٥

تَحَدَّثُ ■ اسْتَدْلَالٌ

أَيُّ مَجْمُوعَةٍ مِنَ التُّفَاحَاتِ أَكْثَرُ عَدَدًا؟ كَيْفَ تُبَيِّنُ ذَلِكَ؟





أَتَمَّرْنُ

أَرَسُمُ خُطُوطًا لِلْمُطَابَقَةِ. أَطْرَحُ لِكَيِّ أَجِدَ الزِّيَادَةَ.



$$\underline{\quad} = 8 - 10$$



$$\underline{\quad} = 7 - 11$$



$$\underline{\quad} = 9 - 12$$



$$\underline{\quad} = 7 - 12$$



أَحَلُّ مَسْأَلَةً ■ تَطْبِيقٌ

أَحَلُّ ثُمَّ أَرَسُمُ صُورَةَ لِأَتَحَقَّقَ.

مَعَ دُنْيَا ١٠ خَوْخَاتِ. ٥

مَعَ دُنْيَا ٦ خَوْخَاتِ.

كَمْ خَوْخَةً مَعَ دُنْيَا أَكْثَرَ مِنْ دُنْيَا؟

خَوْخَاتِ



نشاط منزلي • ضَعْ أَمَامَ وَلَدِكَ مَجْمُوعَتَيْنِ مِنَ الْأَشْيَاءِ. الْأُولَى تَضُمُّ أَشْيَاءَ أَكْثَرَ مِنَ الثَّانِيَةِ. اطْلُبْ إِلَيْهِ أَنْ يَشْرَحَ كَيْفَ يَسْتَعْمِلُ الطَّرْحَ لِيَجِدَ كَمْ تَزِيدُ الْمَجْمُوعَةُ الْأُولَى عَلَى الثَّانِيَةِ.

أَجْمَعُ وَأَطْرَحُ

الدرس ٣

الحقائق المترابطة
تسهّل الأعداد نفسها.



$$١٢ = ٤ + ٨$$



$$٨ = ٤ - ١٢$$

أَسْتَعْمِلُ ■ وَ ■ لِكَيْ أَجْمَعَ أَوْ أَطْرَحُ.
أُكْمِلُ الْجَدْوَلَ.

أَكْتُبْ جُمْلَةَ الطَّرْحِ	أَسْحَبِ ■	أَكْتُبِ الْمَجْمُوعَ	أَضِيفِ ■	أَسْتَعْمِلِ ■
$\underline{\quad} \ominus \underline{\quad} = \underline{\quad}$ 6 3 9	3	$\underline{\quad} = 3 + 6$ 9	3	6
$\underline{\quad} \ominus \underline{\quad} = \underline{\quad}$	5	$\underline{\quad} = 5 + 7$	5	7
$\underline{\quad} \ominus \underline{\quad} = \underline{\quad}$	6	$\underline{\quad} = 6 + 4$	6	4
$\underline{\quad} \ominus \underline{\quad} = \underline{\quad}$	8	$\underline{\quad} = 8 + 3$	8	3
$\underline{\quad} \ominus \underline{\quad} = \underline{\quad}$	6	$\underline{\quad} = 6 + 6$	6	6

تَحَدَّثْ ■ اسْتِدْلَالٌ

كَيْفَ تُسَاعِدُكَ حَقِيقَةُ جَمْعٍ عَلَى كِتَابَةِ حَقِيقَةِ طَّرْحٍ؟



أَتَمَّرُنْ

اَكْتُبِ الْمَجْمُوعَ أَوْ الْفَرْقَ.
أُحَوِّطُ الْحَقَائِقَ الْمُتَرَابِطَةَ فِي كُلِّ سَطْرٍ.



$$\underline{\quad} = 2 - 9$$

$$\underline{\quad} = 2 + 5$$

$$\underline{\quad} = 2 + 7$$

١

$$\underline{\quad} = 4 - 10$$

$$\underline{\quad} = 4 - 12$$

$$\underline{\quad} = 4 + 8$$

٢

$$\underline{\quad} = 1 + 10$$

$$\underline{\quad} = 1 + 9$$

$$\underline{\quad} = 1 - 11$$

٣

$$\underline{\quad} = 4 + 7$$

$$\underline{\quad} = 7 + 3$$

$$\underline{\quad} = 7 - 10$$

٤

أَحْلُ مَسْأَلَةً ■ اسْتَدْلَالٌ



٥ أُحَوِّطُ ٣ أَعْدَادٍ لِكَيْ أَكْتُبَ حَقِيقَتَيْنِ
مُتَرَابِطَتَيْنِ. أَكْتُبُ الْجُمْلَةَ الْعَدَدِيَّةَ.

_____ ○ _____ ○ _____	_____ ○ _____ ○ _____
-----------------------	-----------------------

نَشَاطٌ مَنْزِلِيٌّ • اَكْتُبْ أَمَامَ وَدِكْ جُمْلَةً جَمَعَ مِثْلَ ٤ + ٥، وَاطْلُبْ إِلَيْهِ أَنْ يُعْطِيكَ الْمَجْمُوعَ. اطْلُبْ إِلَيْهِ بَعْدَ ذَلِكَ أَنْ يَكْتُبَ حَقِيقَةً طَرَحَ مُتَرَابِطَةً مَعَهَا (٤ = ٥ - ٩) أَوْ (٥ = ٤ - ٩).

أحلُّ مسألةٍ أرسمُ صورةً

الدرس ٤

أفهمُ أخطئُ أحلُّ أتحقِّقُ

معَ آلان ١٢ كعكةً. أعطى أخته ٢ وأعطى
أخيه ٣. كم كعكة بقي معه؟

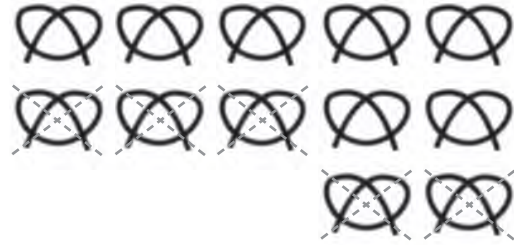
أفهمُ

ما المطلوبُ؟

أخطئُ

يُمكنني أن أرسم صورةً لحلِّ المسألة.


أحلُّ



كعكاتُ _____

أتحقِّقُ

هل جوابي معقولُ؟
أبين ذلك.



أقرأ المسألة بانتباهٍ.
ماذا أعرفُ؟

أرسمُ صورةً لحلِّ المسألة.

١ على الطبق ١١ تفاحةً. أكل آلان تفاحتين،
أكلت هوزان وأخواتها ٥ تفاحات. كم
تفاحة بقي؟



تفاحات _____

٢ صنعتُ أمي ٩ شطائرٍ.

أكلت أنا وإخوتي ٧. وأكل والدي ٢.
كم شطيرة بقي؟



شطيرة _____

أَتَمَّرْنُ

أرسمُ صورةً لأحلِّ المسألة.



١ اشترتُ نازدراً ١٢ كعكةً. أعطتُ ٣ لصدیقَتِها، وأكَلتُ ٦ معَ عائلَتِها. كمَ كعكةً بقيتُ؟

كعكاتٍ ٣



٢ اشترى سَميرٌ ١٠ قطعٍ مِنَ الحَلوى . أَكَلَّ اثنتَينِ في الصَّبَاحِ وَه في المِساءِ. كمَ قِطعةً بقيتُ؟

قطع



٣ اشترى مُحَمَّدٌ ١٢ بيضةً. أَكَلَّ ٢ مِنْها على الفُطُورِ، وَاسْتَعْمَلَ ٤ مِنْها لِصِنْعِ قَالِبِ حَلوى. كمَ بيضةً بقيتُ؟

بيضاتٍ



اكتب

ارسمُ ١٠ حباتِ عنبٍ. اشطِبْ بضعَ حباتٍ بِالقَلَمِ الأزرقِ، وَبضعَ حباتٍ أُخرى بِالقَلَمِ الأحمرِ. اكتبْ قِصةً حَوْلَ هَذِهِ الصُّورةِ. بَيْنَ كَيْفَ تحلُّ المسألة.

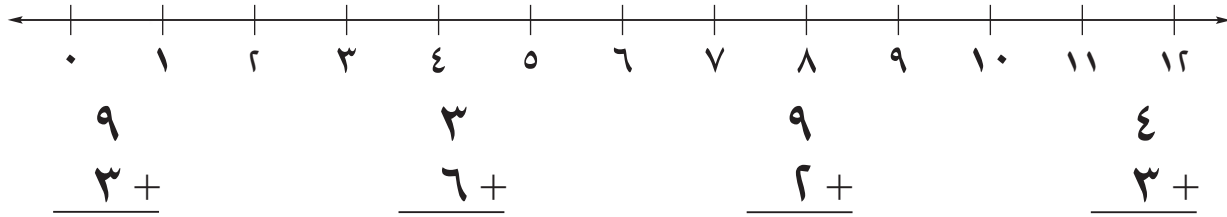
نشاطٌ منزليٌّ • اطلبْ إلى وَلَدِكَ أَنْ يشرحَ كَيْفَ اسْتَعْمَلَ الرَّسْمَ لِحلِّ المسألةِ رَقْمَ ١.

مُراجَعَة

الفصل ٩

الإِسْمُ _____

أُحِوِّطُ العَدَدَ الأَكْبَرَ. أَعِدُّ إِلى الأَمَامِ عَلى خَطِّ الأَعْدَادِ
لِكَي أَجْمَعَ. أَكْتُبُ المَجْمُوعَ.



أَعِدُّ إِلى الوَرَاءِ لِكَي أَطْرَحَ. أَكْتُبُ الفَرْقَ.



أَرَسِّمُ خُطُوطًا لِلْمُطَابَقَةِ. كَمْ يَزِيدُ عَدَدُ البُرْتُقَالَاتِ عَلى عَدَدِ التُّفَّاحَاتِ؟

$$\begin{array}{r} 12 \\ - 8 \\ \hline \end{array}$$



٤ أَكْتُبُ المَجْمُوعَ أَوِ الفَرْقَ. أُحِوِّطُ الحَقَائِقَ المُتَرابِطَةَ فِي كُلِّ سَطْرٍ.

$$\underline{\hspace{2cm}} = 7 - 11$$

$$\underline{\hspace{2cm}} = 7 + 4$$

$$\underline{\hspace{2cm}} = 2 - 12$$

$$\underline{\hspace{2cm}} = 2 + 10$$



أَحُلُّ مَسْأَلَةً

أَرَسِّمُ صُورَةً لِأَحُلِّ المَسْأَلَةَ.

٥ اشْتَرَى دانا ١٢ لُعبَةً. أَعْطَى أَخاهُ ٣
وَأَعْطَى أُخْتَهُ ٣. كَمْ بَقِيَ مَعَهُ؟

لُعبٍ _____

تَحْضِيرٌ لِلِإِخْتِبَارِ

الفصل ٩

الإسم _____

أَخْتَارُ الْجَوَابَ الْمُنَاسِبَ.

٢

$$\begin{array}{r} ٤ \\ + ٤ \\ \hline \end{array}$$

١٦ ٨ ٤ ٠

١

$$\begin{array}{r} ١٢ \\ - ٣ \\ \hline \end{array}$$

١٥ ١١ ٩ ٥

٤

$$\begin{array}{r} ٣ \\ + ٢ \\ \hline \end{array}$$

٨ ٦ ٥ ١

٣ صَنَعَتْ أُمِّي ١٢ قِطْعَةَ حَلْوَى.
أَكَلْنَا مِنْهَا ٥ قِطْعٍ.
كَمْ قِطْعَةَ بَقِيَ عِنْدَنَا؟

٢ ٥ ٧ ١٧

٥ كَمْ يَزِيدُ عَدَدُ التُّفَاحَاتِ عَلَى عَدَدِ الإِجَاصَاتِ؟



١٤

٨

٣

٢

القِيَّاسُ وَالْهَنْدَسَةُ

القُصَّة

١٠



أَبْحَثْ عَنْ دَوَائِرٍ.
أَبْحَثْ عَنْ مَرَبَّعَاتٍ.
أَقِيسْ طَوْلَ الْحَاسُوبِ



الأهل الأعزّاء،

اليوم نبدأ الفصل ١٠ . سندرس فيه كيف نقارن

بين الأطوال ونقدرها ونقيسها . سنتعرف

فيه أيضًا إلى الأجسام الهندسية ونبيّن بينها،

كذلك الأشكال الهندسية . سندرس أيضًا

الرؤوس والأضلاع . تحوي هذه الصفحة

المفردات الرياضية الجديدة ونشاطًا نقوم به

معًا في المنزل .

مع حُبّي،

مُفرداتي الجديدة


أطول من الأقصر
أقصر من أطول
دائرة مثلث
هرم مكعب
مربع



اطلب إلى ولدك أن يقدر طول غرفة الاستقبال مستعملًا خطوته للتقدير. اطلب إليه بعد ذلك أن يقيس هذا الطول مستعملًا خطوته، وأن يتحقق من صحة تقديره.

اختر جسمًا هندسيًا، واطلب إلى ولدك أن يدلّك على أشياء لها الهيئة نفسها.

المفردات



أقصر من

أطول من

القلم الأخضر أطول من القلم الأحمر.
القلم الأخضر أقصر من القلم الأزرق.

الأقصر

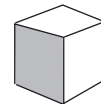
الأطول

القلم الأزرق هو الأطول بين الثلاثة. القلم الأحمر هو الأقصر.

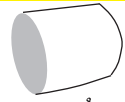
الأجسام والأشكال الهندسية



الهرم
مثلث



المكعب
مربع



الأسطوانة
دائرة

أُقارنُ بَيْنَ الأَطْوَالِ

الدرس ١

هَذِهِ الشَّرَائِطُ الورَقِيَّةُ مُرتَبَةٌ مِنَ الأَقْصَرِ إلى الأَطْوَلِ.

الشَّرِيطَةُ الأَطْوَلُ طَوَّلُهَا
٥ مَكَّعَاتٍ تَقْرِيْبًا

الأَقْصَرُ

الأَطْوَلُ

أخْذُ ٣ شَرَائِطَ ورَقِيَّةٍ مُخْتَلِفَةِ الأَطْوَالِ وَأرْتَبُهَا مِنَ الأَقْصَرِ إلى الأَطْوَلِ.
أرْسُمُهَا وَأَسْتَعْمِلُ لأَقْيَسَ طَوْلَ كُلِّ شَرِيطَةٍ مِنْهَا.

١ الأَقْصَرُ

تَقْرِيْبًا _____

٢

تَقْرِيْبًا _____

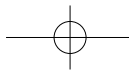
٣ الأَطْوَلُ

تَقْرِيْبًا _____



١٤٥

تَحَدَّثُ ■ اسْتَدْلَالُ
كَيْفَ تَسْتَعْمِلُ لِقْيَاسِ
طَوْلِ ذِرَاعِكَ؟



أَتَمَرْنُ

أَخِذْ ٣ مَخْتَلِفَةَ الْأَطْوَالِ، وَارْتَبِّهَا مِنْ الْأَقْصَرِ إِلَى الْأَطْوَلِ.
أَرَسُمُهَا وَأَسْتَعْمِلُ لَأَقْيَسَ طَوْلَ كُلِّ وَاحِدٍ مِنْهَا.

١ الأَقْصَرُ

تَقْرِيْبًا  _____

٢

تَقْرِيْبًا  _____

٣ الأَطْوَلُ

تَقْرِيْبًا  _____

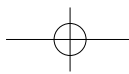


أَحُلْ مَسْأَلَةً ■ تَفْكِيرُ بَصْرِيٍّ

٤ أُحَوِّطُ الشَّرِيْطَةَ الْأَطْوَلَ.
ثُمَّ أَسْتَعْمِلُ خَيْطًا لِأَتَحَقَّقَ.




نَشَاطٌ مَنْزِلِيٌّ • أَعْطِ وَلَدَكَ ٣ أَشْيَاءَ مَخْتَلِفَةَ الْأَطْوَالِ، وَاطْلُبْ إِلَيْهِ أَنْ يَرْتَبِّهَا مِنْ الْأَقْصَرِ إِلَى الْأَطْوَلِ.




بِمَاذَا أَقْيِسُ؟



الدرس ٢



أَسْتَعْمِلُ  صَغِيرَةً لِقِيَاسِ الطَّوْلِ.




تَحَدَّثُ ■ اسْتِدْلَالٌ

كَيْفَ تَتَغَيَّرُ نَتَائِجُ الْقِيَاسِ إِذَا اسْتَعْمَلْتَ  أَكْبَرَ؟
اسْتَعْمِلْ  أَكْبَرَ لِتَبْرَهِنَ صِحَّةَ جَوَابِكَ.

أَتَمَرُنْ

أُقَدِّرُ الطَّوْلَ ثُمَّ أَسْتَعْمِلُ  صَغِيرَةً لِقِيَاسِهِ.



أُقَدِّرُ: _____  تَقْرِيْبًا

أُقَدِّرُ: _____  تَقْرِيْبًا

أُقَدِّرُ: _____  تَقْرِيْبًا

أُقَدِّرُ: _____  تَقْرِيْبًا


أُقَدِّرُ: _____  تَقْرِيْبًا


أُقَدِّرُ: _____  تَقْرِيْبًا


أَحْلُ مَسْأَلَةً ■ اسْتَدْلَالٌ

٤ أحوطُ الجوابِ الصحيحِ.



قاسَتْ هدى طولَ الدودةِ مُسْتَعْمِلَةً  صَغِيرَةً.

ثُمَّ قاسَتْهُ مُسْتَعْمِلَةً .

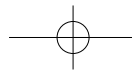
هلِ اسْتَعْمَلَتْ  أَكْثَرَ أَمْ  أَكْثَرَ؟



أَوْ



نشاطٌ منزليٌّ • أعطِ ولدَكَ مجموعةً مِنَ الأشياءِ الصَّغيرةِ التي لها طولٌ واحدٌ، ثُمَّ اطلُبْ إِلَيْهِ اسْتِعْمَالَهَا فِي قِيَاسِ أطوالِ بعضِ الأشياءِ فِي المَنْزِلِ.



الأجسام الهندسية

الدرس ٣



هرم



مكعب



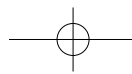
أسطوانة

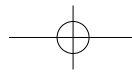


أحوطُ الأسطواناتِ باللونِ الأزرقِ.
أحوطُ الأهراماتِ باللونِ الأحمرِ.
أحوطُ المكعباتِ باللونِ الأخضرِ.

تحدّثْ ■ استدلّ

بِمَاذَا تَتَشَابَهُ هَذِهِ الْأَجْسَامُ؟
بِمَاذَا تَخْتَلَفُ؟





أَتَمَرْنُ



هَرَمٌ



مُكَبَّبٌ

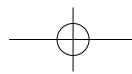


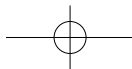
أُسْطُوَانَةٌ

أُحَوِّطُ الْأُسْطُوَانَاتِ بِاللَّوْنِ الْأَزْرَقِ.
أُحَوِّطُ الْأَهْرَامَاتِ بِاللَّوْنِ الْأَحْمَرِ.
أُحَوِّطُ الْمُكَبَّبَاتِ بِاللَّوْنِ الْأَخْضَرِ.



نَشَاطٌ مَنْزِلِيٌّ • اظْلُبْ إِلَى وِلْدِكَ أَنْ يَدُلَّكَ عَلَى صُورِ هَذِهِ الصَّفْحَةِ مُسْتَعْمِلًا الْكَلِمَاتِ: مُكَبَّبٌ - هَرَمٌ - أُسْطُوَانَةٌ.






الأشكال الهندسية


الدرس ٤



أحوط الجسم الهندسي الذي يبين الدائرة.



أحوط الجسم الهندسي الذي يبين المربع.

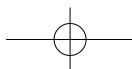


أحوط الجسم الهندسي الذي يبين المثلث.



تحدث ■ استدلال

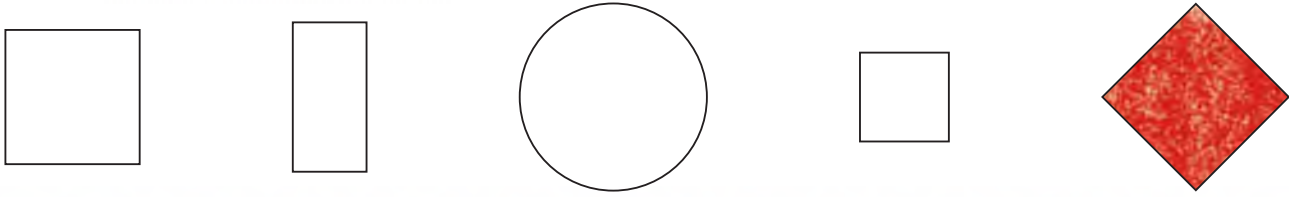
ما الأشكال الهندسية التي تظهر على الهرم؟



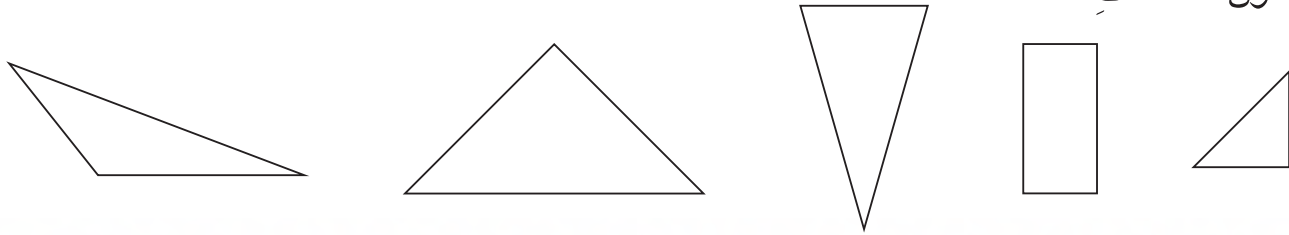


أَتَمَرُنْ

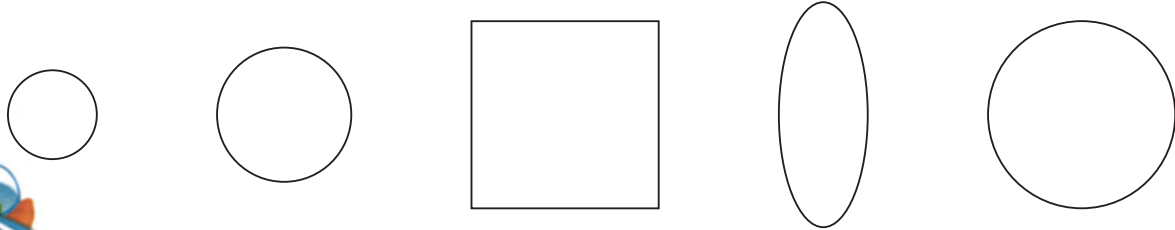
١ أَلْوَنُ الْمُرَبَّعَاتِ.



٢ أَلْوَنُ الْمُثَلَّثَاتِ.



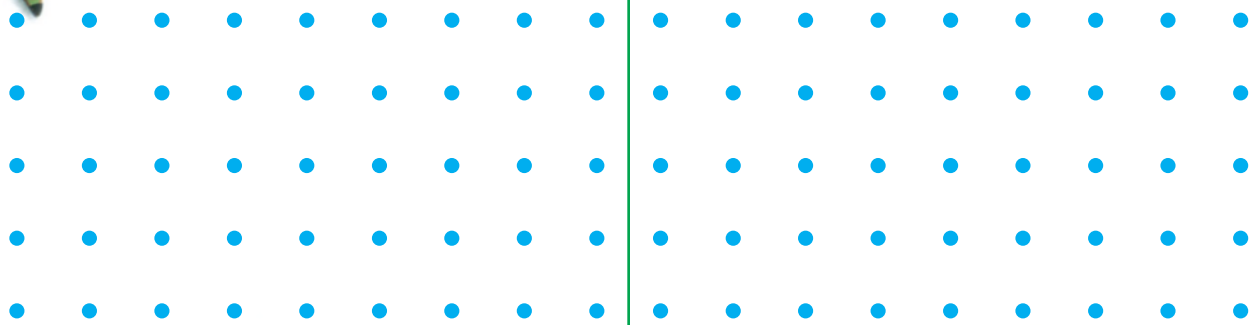
٣ أَلْوَنُ الدَّوَائِرِ.



أَحْلُ مَسْأَلَةٍ تَفْكِيرٍ بَصْرِيٍّ

٥ أَرَسِّمْ مِثْلًا كَبِيرًا

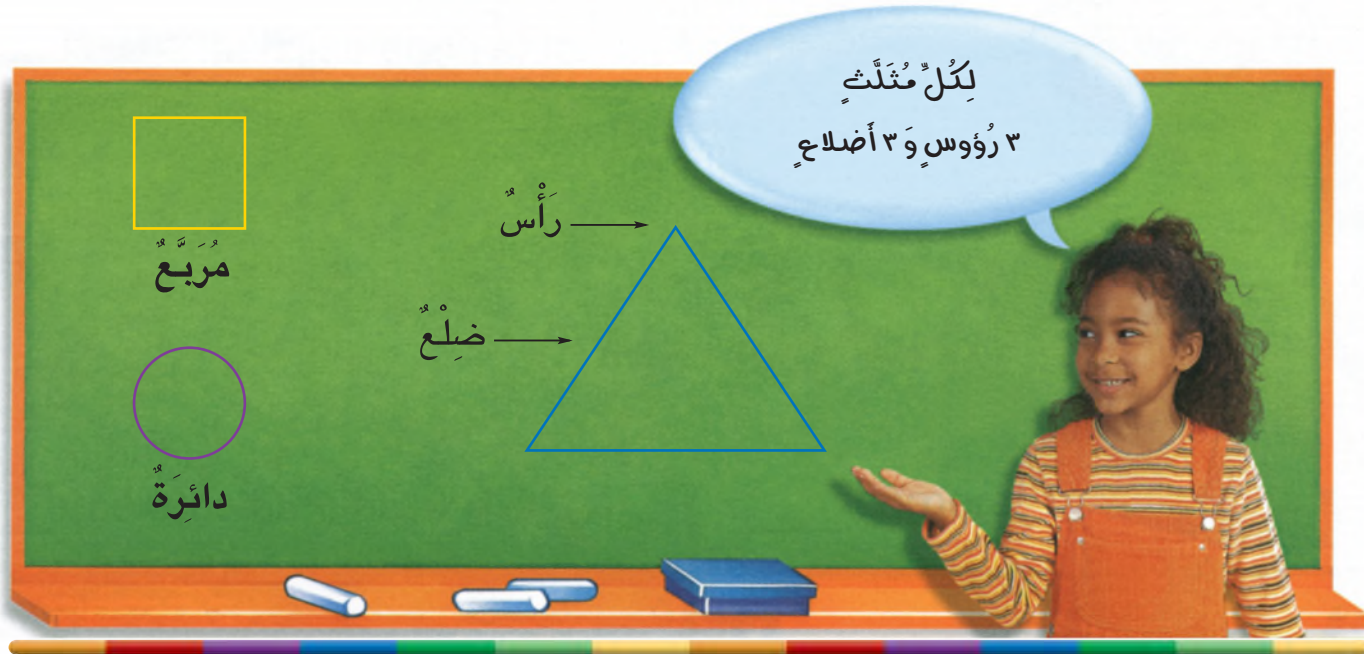
٤ أَرَسِّمْ مَرَبَّعًا صَغِيرًا.



نَشَاطٌ مَنْزَلِيٌّ • اجْعَلْ وَلَدَكَ يَضْغَطُ عَلَى مَسْحُوقِ نَاعِمٍ، مِثْلَ الطَّحِينِ أَوْ السُّكَّرِ، بِوَاسِطَةِ جِسْمِ هَنْدَسِيٍّ كَعَلْبَةِ مَوَادِّ غِذَائِيَّةٍ. اظْلُبْ إِلَيْهِ أَنْ يَسْمِيَ الشَّكْلَ الْهَنْدَسِيَّ الَّذِي يَحْصُلُ عَلَيْهِ.

الرُّؤُوسُ وَالْأَضْلَاعُ

الدرس ٥



أرسم الشكل ثم أكتب اسمه.

١ أرسم شكلاً له ٤ أضلاع
و ٤ رؤوس.



مربع


٢ أرسم شكلاً له ٣ أضلاع و ٣ رؤوس.



٣ أرسم شكلاً بلا أضلاع ولا رؤوس.



٤ أرسم خطاً لأحصل على مثلثين.



تحدث ■ استدلال

هل تستطيع أن ترسم شكلاً غير المربع له ٤ رؤوس و ٤ أضلاع؟
بين ذلك.



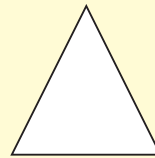
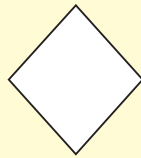

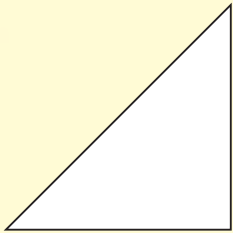
أَتَمَرْنِ

أَسْتَعْمَلُ أَزْرَقَ لِأَرْسِمَ الْأَضْلَاعَ.
أَسْتَعْمَلُ أَحْمَرَ لِأَحُوطَ الرَّؤُوسَ.
أَكْتُبُ عِدَدَ الرَّؤُوسِ وَعِدَدَ الْأَضْلَاعِ.

<p>٢</p> <p>أَضْلَاعٍ رُؤُوسٍ</p>	<p>١</p> <p>أَضْلَاعٍ رُؤُوسٍ</p>
<p>٤</p> <p>أَضْلَاعٍ رُؤُوسٍ</p>	<p>٣</p> <p>أَضْلَاعٍ رُؤُوسٍ</p>
<p>٦</p> <p>أَضْلَاعٍ رُؤُوسٍ</p>	<p>٥</p> <p>أَضْلَاعٍ رُؤُوسٍ</p>

أَحْلُ مَسْأَلَةً تَفْكِيرٍ بَصْرِيٍّ

٧ أَرَسِّمْ خَطًّا دَاخِلَ كُلِّ شَكْلِ لِكِي أَحْصِلَ عَلَى مِثْلَتَيْنِ.



نَشَاطٌ مَنْزَلِيٌّ • اظْلُبْ إِلَى وِلْدِكَ أَنْ يَرَسِّمَ شَكْلًا هَنْدَسِيًّا لَهُ ٣ أَضْلَاعٍ وَ ٣ رُؤُوسٍ (مِثْلَنَا). وَبَعْدَ ذَلِكَ، اظْلُبْ إِلَيْهِ أَنْ يَرَسِّمَ شَكْلًا هَنْدَسِيًّا لَهُ ٤ أَضْلَاعٍ وَ ٤ رُؤُوسٍ.

أَحْلُ مَسْأَلَةً

أَسْتَعْمِلُ الاسْتِدْلَالَ الْمُنْطَقِيَّ

الدرس ٦

أَفْهَمُ أَخْطُطُ أَحْلُ أَتَحَقَّقُ

كَيْفَ يُمَكِّنُكَ أَنْ تُصَنِّفَ الْأَجْسَامَ الْهَنْدَسِيَّةَ؟



أَسْحِبُهَا



أَدْحَرِجُهَا

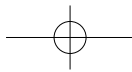


أُرَاكِمُهَا

أَسْتَعْمِلُ الْأَجْسَامَ الْهَنْدَسِيَّةَ.
أَكْتُبُ نَعَمْ أَوْ لَا.

هَلْ تَنْسَحِبُ؟	هَلْ تَدْحَرِجُ؟	هَلْ تَرَاكِمُ؟	
<hr/> <hr/> <hr/>	<hr/> <hr/> <hr/>	<hr/> <hr/> <hr/>	  <p>مُكَبَّ</p>
<hr/> <hr/> <hr/>	<hr/> <hr/> <hr/>	<hr/> <hr/> <hr/>	  <p>أَسْطَوَانَةٌ</p>
<hr/> <hr/> <hr/>	<hr/> <hr/> <hr/>	<hr/> <hr/> <hr/>	  <p>هَرَمٌ</p>

٤ مع رائد ٨ مكعبات.
هَلْ يَسْتَطِيعُ أَنْ يَسْتَعْمِلَهَا لِيرْكَبَ مُكَبًّا وَاحِدًا؟
أَجْرِبُ وَأَبِينُ ذَلِكَ.



أَتَمَرُنْ

١ أُلُونُ كُلَّ جِسْمٍ يَتَرَاكُمُ.



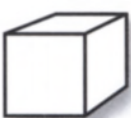
٢ أُلُونُ كُلَّ جِسْمٍ يَتَدَحْرَجُ.



٣ أُلُونُ كُلَّ جِسْمٍ يَنْسَحِبُ.



٤ أُلُونُ كُلَّ جِسْمٍ يَتَرَاكُمُ وَيَتَدَحْرَجُ.



٥ أُلُونُ كُلَّ جِسْمٍ يَتَرَاكُمُ وَيَنْسَحِبُ.



تَتَرَاكُمُ

تَنْسَحِبُ

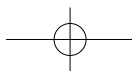
تَتَدَحْرَجُ

أَحْلُ مَسْأَلَةً اسْتِدْلَالُ

٦ أحوطُ الصِّفَةِ الْمُشْتَرَكَةِ لِهَذِهِ الْأَجْسَامِ.



نشاطٌ مَنْزِلِي • أَحْضِرْ أَشْيَاءَ تُشْبِهُ الْأَجْسَامَ الْهَنْدَسِيَّةَ فِي هَذِهِ الصَّفْحَةِ.
تَشَارِكْ مَعَ وَلَدِكَ لِتَحْدِيدِ أَيِّ جِسْمٍ يَتَرَاكُمُ أَوْ يَتَدَحْرَجُ أَوْ يَنْسَحِبُ.




مُرَاجَعَةٌ

الفصل ١٠

الاسمُ

أحوطُ القلمَ الأطولَ.



١

أستعملُ صغيرةً لقياسِ طولِ السفينةِ.




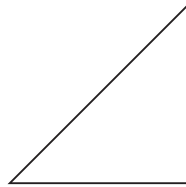

٢

تقريباً

٣
ألونُ الأجسامَ التي يُمكنُ أن تتراكمَ.
أحوطُ الأجسامَ التي لها ٦ وجوهٍ مُسطحةٍ.

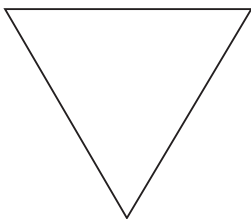


٤
أستعملُ أخضرَ لتلوينِ المثلثِ.
أستعملُ أزرقَ لتلوينِ الدائرةِ.
أستعملُ أحمرَ لتلوينِ المربعِ.



أكتبُ عددَ الأضلاعِ وعددَ الرؤوسِ.


٦



أضلاعٍ _____

رؤوسٍ _____

٥



أضلاعٍ _____

رؤوسٍ _____


تَحْضِيرٌ لِلِاخْتِبَارِ

الفصل ١٠

الاسم

أختر الجواب المناسب.

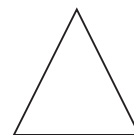
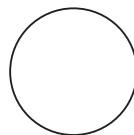

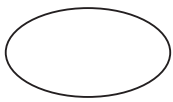
١ أي شيء يشبه الأُسْطُوانَةَ؟



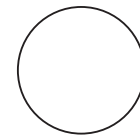

٢ أي جسم له وجهان مسطحان فقط؟



٣ أي شكل يمثل مثلثاً؟



٤ أي شكل له ٦ رؤوس؟



٥ أي قلم هو الأقصر؟



الْكَسُورُ وَالْوَقْتُ



أَيُّ بَيْتِزَا يُمَكِّنُ أَنْ
يَتَّقَسَمَهَا هَذَانِ
الصَّدِيقَانِ بِالتَّسَاوِي؟



الأهل الأعزّاء،

اليومَ نبدأ الفصلَ ١١ . سنتعلّم كيف نقسم شيئاً
إلى أجزاء متساوية . سنتعرّف إلى النصف والربع ،
وسنتعرّف إلى الوقت أيضاً . تحوي هذه الصفحة
المفردات الرياضية الجديدة ونشاطاً نقوم
به معاً في المنزل .

معَ حُبّي،

مُفرداتي الجديدةُ

$\frac{1}{2}$ نِصْفٌ

$\frac{1}{4}$ رُبْعٌ



اطلُبْ إلى وِلْدِكَ أَنْ يُقَسِّمَ شَيْئاً (تُفَاحَةً أَوْ
لَيْمُونَةً أَوْ رَغِيفَ خُبْزٍ أَوْ قِطْعَةَ حَلْوَى)
إلى قِسْمَيْنِ مُتَسَاوِيَيْنِ.

المفردات

إذا قَسَمْنَا شَيْئاً إلى قِسْمَيْنِ
مُتَسَاوِيَيْنِ فَكُلُّ قِسْمٍ يَشْكُلُ النِّصْفَ.



$\frac{1}{2}$

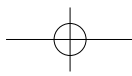
نِصْفٌ

إذا قَسَمْنَا شَيْئاً إلى ٤ أَقْسَامٍ
مُتَسَاوِيَةٍ فَكُلُّ قِسْمٍ يَشْكُلُ الرُّبْعَ.



$\frac{1}{4}$

رُبْعٌ



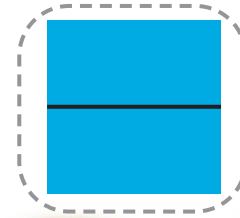

النَّصْفُ

الدرس ١






كعكة كاملة الخَطُّ يَقْسِمُ الكَعْكَةَ إِلَى قِسْمَيْنِ مُتَسَاوِيَيْنِ. كُلُّ قِسْمٍ يُشَكِّلُ $\frac{1}{2}$ أَوْ نِصْفَ الكَعْكَةِ. النِّصْفَانِ مَعًا يُشَكِّلَانِ الكَعْكَةَ كَامِلَةً.


أُحِطُّ الأشْكَالَ الَّتِي تُبَيِّنُ نِصْفًا.




١



٢



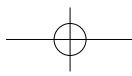
٣

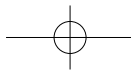


٤

تَحَدَّثُ ■ اسْتَدْلَالٌ



هَلْ يُمَكِّنُ لِنِصْفِ الشَّيْءِ أَنْ يَكُونَ أَكْبَرَ مِنَ النِّصْفِ الْآخَرِ؟
بَيِّنْ ذَلِكَ.





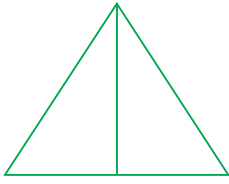


أَتَمَرْنُ

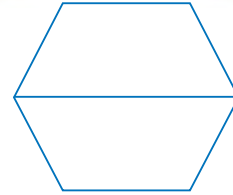


أُحَدِّدُ الْأَشْكَالَ الَّتِي تُبَيِّنُ نِصْفًا ثُمَّ أَلَوِّنُ أَحَدَ النِّصْفَيْنِ.





١



٢



٣



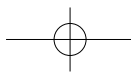
٤

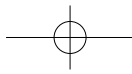


أَحُلُّ مَسْأَلَةً ■ تَطْبِيقُ

٥ أُرْسِمُ خَطًّا عَلَى كُلِّ كَعْكَةٍ
بِحَيْثُ يُقَسِّمُهَا إِلَى نِصْفَيْنِ
بِطَرِيقَتَيْنِ مُخْتَلِفَتَيْنِ.



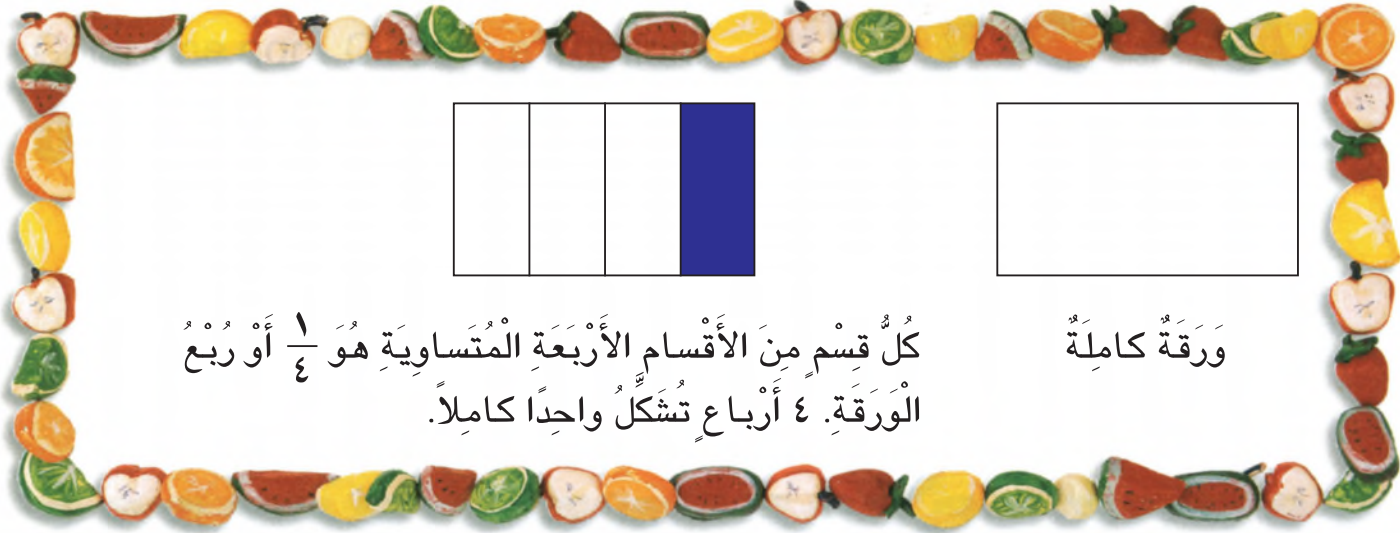
نَشَاطٌ مَنْزِلِي • أَعْطِ وَلَدَكَ ٣ وَرَقَاتٍ بِقِيَاسَاتٍ مُخْتَلِفَةٍ، ثُمَّ اطْلُبْ إِلَيْهِ طَيَّ كُلِّ وَرَقَةٍ إِلَى
نِصْفَيْنِ، وَكِتَابَةً $\frac{1}{2}$ عَلَى أَحَدِ الْقِسْمَيْنِ.





الرُّبْعُ



الدرس ٢





كُلُّ قِسْمٍ مِنَ الْأَقْسَامِ الْأَرْبَعَةِ الْمْتَسَاوِيَةِ هُوَ $\frac{1}{4}$ أَوْ رُبْعُ
الْوَرَقَةِ. ٤ أَرْبَاعٌ تُشَكِّلُ وَاحِدًا كَامِلًا.

وَرَقَةٌ كَامِلَةٌ

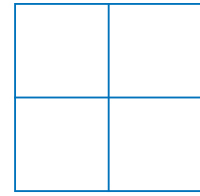


أُحَدِّدُ الْأَشْكَالَ الَّتِي تُبَيِّنُ أَرْبَاعًا ثُمَّ أُلَوِّنُ $\frac{1}{4}$.




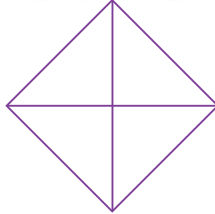

١



٢



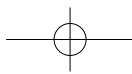
٣

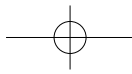


٤

تَحَدَّثُ ■ اسْتَدْلَالٌ

كَيْفَ تَحْصُلُ عَلَى رُبْعِ وَرَقَةٍ مِنْ دَفْتَرِكَ؟
اسْتَعْمِلِ وَرَقَةً مِنْ دَفْتَرِكَ لِتُبَيِّنَ جَوَابَكَ.





أَتَمَّرْنِ



أَلَوْنُ قِسْمًا وَاحِدًا ثُمَّ أَحْوَطُ الْكَسْرَ الْمُنَاسِبَ.

	٣		٢		١
$\frac{1}{2}$ $\frac{1}{2}$		$\frac{1}{4}$ $\frac{1}{4}$		$\frac{1}{4}$ $\frac{1}{4}$	
	٦		٥		٤
$\frac{1}{2}$ $\frac{1}{2}$		$\frac{1}{3}$ $\frac{1}{3}$		$\frac{1}{2}$ $\frac{1}{2}$	
	٩		٨		٧
$\frac{1}{4}$ $\frac{1}{4}$		$\frac{1}{2}$ $\frac{1}{2}$		$\frac{1}{4}$ $\frac{1}{4}$	

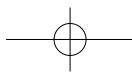


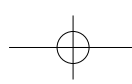
أَحْلُ مَسْأَلَةً ■ تَفْكِيرٌ بَصْرِيٌّ

١٠ كَيْفَ أَحْصَلُ عَلَى ٤ أَقْسَامٍ مُتَسَاوِيَةٍ؟ أَرَسِّمُ ٣ طَرَائِقَ مُخْتَلِفَةٍ.

--	--	--

نَشَاطٌ مَنْزِلِيٌّ • اظْلُبْ إِلَى وِلْدِكَ أَنْ يُقَسِّمَ رَغِيفَ الْخُبْزِ إِلَى ٤ أَرْبَاعٍ، ثُمَّ اظْلُبْ إِلَيْهِ أَنْ يَكْتُبَ الْكَسْرَ $\frac{1}{4}$.





أَقْرَأُ السَّاعَةَ

الدرس ٣



أَكْتُبُ الأَعْدَادَ النَّاقِصَةَ عَلَى السَّاعَةِ.

إنَّهَا السَّاعَةُ الرَّابِعَةُ

أَسْتَعْمِلُ ● لِأَبْيِنِ الوَقْتِ. أُمَيِّزُ عَقْرَبَ السَّاعَاتِ. أَكْتُبُ الوَقْتِ.



السَّاعَةُ



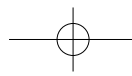
السَّاعَةُ



السَّاعَةُ الوَاحِدَةُ

تَحَدَّثُ ■ اسْتِدْلَالٌ

بِمَاذَا يَتَشَابَهُ عَقْرَبُ الدَّقَائِقِ وَعَقْرَبُ السَّاعَاتِ؟
بِمَاذَا يَخْتَلِفَانِ؟



أَتَمَرْنُ



أَسْتَعْمِلُ ● لِأَبْيِنِ الْوَقْتِ. أُمِيزُ عَقْرَبَ السَّاعَاتِ.
أَكْتُبُ الْوَقْتِ.



٣

السَّاعَةُ _____



٦

السَّاعَةُ _____



٥

السَّاعَةُ الْخَامِسَةُ



١١

السَّاعَةُ _____



٣

السَّاعَةُ _____



١٠

السَّاعَةُ _____



أَحُلُّ مَسْأَلَةً ■ تَفْكِيرٌ بَصْرِيٌّ
أَكْتُبُ الْوَقْتِ.



٩

السَّاعَةُ _____



٢

السَّاعَةُ _____

نَشَاطٌ مَنْزِلِيٌّ • اظْلُبْ إِلَى وِلْدِكَ أَنْ يَدُلَّكَ عَلَى عَقْرَبِ الدَّقَائِقِ وَعَقْرَبِ السَّاعَاتِ فِي أَوْقَاتِ السَّاعَةِ.

أحلُّ مسألةٍ أختارُ نموذجًا

الدرس ٤

أفهمُ أخطئُ أحلُّ أتحقِّقُ

يَرغَبُ ٤ أصدِقَاءَ في تَقاسِمِ بيتْزَا،
بِحَيْثُ يَحْصِلُ الجَمِيعُ على أَقسَامٍ مُتساوِيَةٍ.
كَيْفَ أَقْطَعُ البَيْتْزَا لَهُم؟

أفهمُ


ما المَطْلُوبُ؟

أخطئُ

أختارُ نموذجًا لِحلِّ المسألةِ.

أحلُّ

أقْطَعُ البَيْتْزَا أرباعًا




أتحقِّقُ

هَلْ جَوَابِي مَعْقُولٌ؟ أْبَيِّنُ ذَلِكَ.

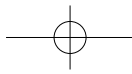
أحِوِّطُ الصُّورَةَ الَّتِي تُشكِّلُ الجَوَابَ.

١ يريدُ أرامُ وسامانُ تَقاسِمَ بيتْزَا،
بِحَيْثُ يَحْصِلانِ على نِصْفَيْنِ
مُتساوِيَيْنِ. كَيْفَ يَجِبُ قِطْعُ
البَيْتْزَا؟



٢ ٤ أَصْحَابٍ يُريدونَ تَقاسِمَ بيتْزَا،
بِحَيْثُ يَحْصِلونَ على أَقسَامٍ
مُتساوِيَةٍ. أَيُّ شَكْلِ يَبِينُ حِصَّةَ
كُلِّ مِنْهُم؟






أَتَمَرْنُ



سَأَقْسِمُ البَيْتْرَا إِلَى
قِسْمَيْنِ مُتَسَاوِيَيْنِ


أَفَكِّرْ بِقِسْمَةِ قَالِبِ حَلْوَى.
أَحْوَطِ الرَّسْمَ الَّذِي يَدُلُّ عَلَى الْجَوَابِ.

١ تقاسم صديقان قالب حلوى.
حصلا على قسمين متساويين.
كيف تمت القسمة؟



٢ تقاسم ٤ أصحاب قالب حلوى

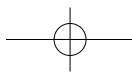
بالتساوي.
كيف تمت القسمة؟



اكتب

ارسم قالب حلوى مربعاً.
ارسم طرقاً تسمح بقسمته بين ٤ أصحاب بالتساوي.
اكتب عن الرسم.

نشاط منزلي • اطلب إلى ولدك أن يبين بالرسم كيف يقسم بيتزا إلى ٣ أقسام متساوية؟



مُرَاجَعَةٌ

الفصل ١١

الإِسْمُ _____

--	--	--	--

٢ أَلَوْنُ $\frac{1}{4}$

--	--

١ أَلَوْنُ $\frac{1}{2}$

أَلَوْنٌ قِسْمًا وَاحِدًا ثُمَّ أَحْوَطُ الْكُسْرَ الْمُنَاسِبَ.

$\frac{1}{4}$

$\frac{1}{2}$

٤

$\frac{1}{4}$

$\frac{1}{2}$

٣

أَسْتَعْمِلُ ● لِأَبْيِنِ الْوَقْتِ. أَكْتُبِ الْوَقْتِ.



٧

السَّاعَةُ _____



٦

السَّاعَةُ _____



٥

السَّاعَةُ _____

٨ أَكْمِلُ.

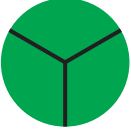
— ، — ، — ، $\frac{1}{4}$ ، $\frac{1}{2}$ ، $\frac{1}{2}$ ، $\frac{1}{4}$ ، $\frac{1}{2}$ ، $\frac{1}{2}$ ، $\frac{1}{4}$


تَحْضِيرٌ لِلِإِخْتِبَارِ

الفصل ١١

الإسم _____

أَخْتَارُ الْجَوَابَ الْمُنَاسِبَ.
١ أَيُّ رَسْمٍ يَبِينُ النِّصْفَ؟









٢ تقاسم ٤ أولادٍ قالبَ حلوى، وحصلوا على أجزاءٍ متساوية.
أَيُّ رَسْمٍ يَبِينُ هَذِهِ الْقِسْمَةَ؟









٣ في أَيِّ صُورَةٍ يَظْهَرُ $\frac{1}{4}$ الْكَرَزَاتِ بِلَوْنٍ أَحْمَرَ؟









٤ أَحَدُ الْوَقْتِ.

الوَاحِدَةُ

الثَّانِيَةُ

الثَّانِيَةُ عَشْرَةَ

الثَّالِثَةُ



٥ أَرَسُمُ صُورَةٍ تُمَثِّلُ الْكُسْرَ.

$\frac{1}{4}$

$\frac{1}{2}$

جَمْعُ العَشْرَاتِ وَطَرْحُهَا

الفصل

١٢



أَيْنَ أَجِدُ أَضْعَافًا؟
أَحْكِي حِكَايَاتِ جَمْعِ عَنَّا.



الأهل الأعزّاء،

اليوم نبدأ الفصل ١٢ . سنتعلّم طرائق لجمع الأعداد
ضمن ٢٠ و طرحها . كما نتعلّم جمع العشرات و طرحها .

تحتوي هذه الصفحة المفردات

الرياضية الجديدة ونشاطاً نقوم به معاً
في المنزل .

مع حُبّي،

مُفرداتي الجديدةُ

المُضاعفةُ

إكمالُ العشرةِ



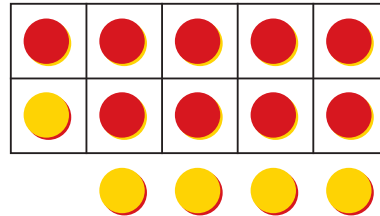
أعطِ ولدك عددين لا يزيد مجموعهما
على ١٠ . اطلبِ إليه أن يختار عدداً
ثالثاً، وأن يجمع الأعداد الثلاثة .
اطلبِ إليه أن يعطيك المجموع .

المفردات

$٨ + ٨ = ١٦$ ، هي حقيقة جمعٍ

فيها مُضاعفةٌ.

لكي نجمع $٩ + ٥$ ، نُكمل العشرة أولاً
ثم نضيف ما تبقى إلى ١٠ .



$$١٤ = ٥ + ٩$$

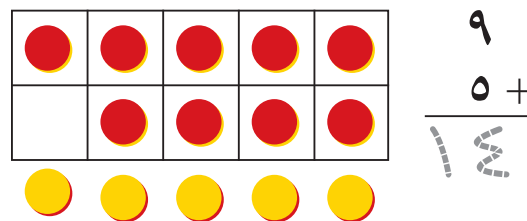
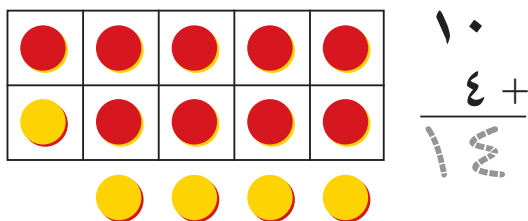
$$١٤ = ٤ + ١٠$$

أَكْمِلُ الْعَشْرَةَ

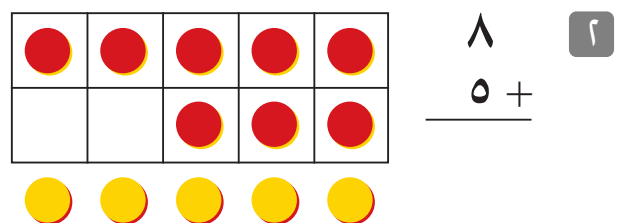
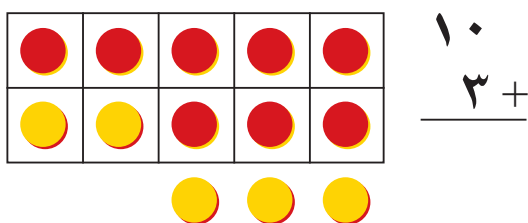
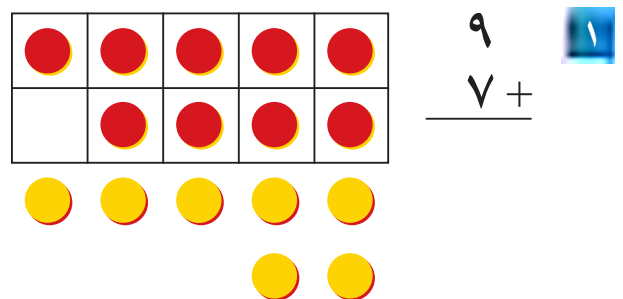
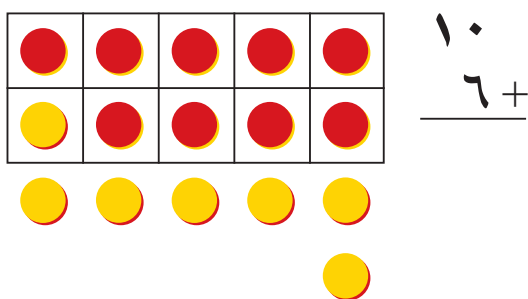
الدرس ١

أَكْمِلُ الْعَشْرَةَ.
أَمَلًا اللَّوْحَةَ.

أَحْسِبُ الْمَجْمُوعَ ٩ + ٥.
أُبَيِّنُ ٩. أُبَيِّنُ ٥.



أَسْتَعْمِلُ ● وَلَوْحَةَ الْعَشْرَةِ.
أَجْمَعُ بِأَكْمَالِ الْعَشْرَةِ.



تَحَدَّثُ ■ اسْتِدْلَالٌ

كَيْفَ تَعْرِفُ أَنَّ ٩ + ٣ = ١٠ + ٢؟

اسْتَعْمِلُ ● لِتَبَيِّنَ جَوَابَكَ.

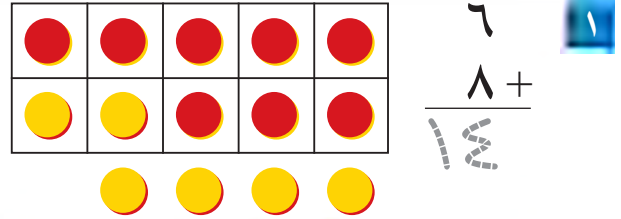
أَتَمَّرْنِ

تَذَكَّرُ:

$$٤ + ١٠ = ٨ + ٦$$



أَسْتَعْمِلُ ● وَلَوْحَةَ الْعَشْرَةِ لِكَيْ أَجْمَعَ.
أَبْدَأُ بِالْعَدَدِ الْأَكْبَرِ.



$$\begin{array}{r} ٨ \\ ٩ + \end{array}$$

$$\begin{array}{r} ٥ \\ ٧ + \end{array}$$

$$\begin{array}{r} ٣ \\ ٨ + \end{array}$$

$$\begin{array}{r} ٩ \\ ٦ + \end{array}$$



$$\begin{array}{r} ٢ \\ ٩ + \end{array}$$

$$\begin{array}{r} ٧ \\ ٩ + \end{array}$$

$$\begin{array}{r} ٧ \\ ٨ + \end{array}$$

$$\begin{array}{r} ٦ \\ ٧ + \end{array}$$

أَحْلُ مَسْأَلَةً ■ اسْتِدْلَالٌ

أَخْتَارُ طَرِيقَةً لِلْحَلِّ.

٤ يُرِيدُ سَيْرَوَانُ زَرْعَ ١٥ بَذْرَةً مِنْ

بُذُورِ دَوَارِ الشَّمْسِ،

لَدَيْهِ ٨ بُذُورٍ. كَمْ بَذْرَةً يَلْزِمُهُ؟

بُذُورٍ _____



نَشَاطٌ مَنْزِلِيٌّ • اظْلُبْ إِلَى وِلْدِكَ أَنْ يَبِينَنَّ لَكَ كَيْفَ يَحُلُّ تَمَرِينًا مِنْ تَمَارِينِ هَذِهِ الصَّفْحَةِ، بِإِكْمَالِ الْعَشْرَةِ.

مَثَلًا: ٨ + ٤ = ١٠ + ٢.

أَجْمَعُ ٣ أَعْدَادٍ

الدرس ٢

عِنْدَمَا أَجْمَعُ ثَلَاثَةَ أَعْدَادٍ، يُهَيِّئُنِي

أَحْيَانًا إِتِهَالُ عَشْرَةٍ :

$$10 = 3 + 7$$

$$14 = 4 + 10$$

عِنْدَمَا أَجْمَعُ ثَلَاثَةَ أَعْدَادٍ، يُهَيِّئُنِي

أَحْيَانًا اسْتِعْمَالُ الْأَضْعَافِ :

$$8 = 4 + 4$$

$$13 = 5 + 8$$



٧



٣



٤ +

١٤



٤



٤



٥ +

١٣

أَحِطُّ بِالْعَدَدَيْنِ اللَّذَيْنِ أَجْمَعُهُمَا أَوَّلًا.
أَكْتُبُ الْمَجْمُوعَ.

$$\begin{array}{r} 8 \\ 3 \\ \hline 3 + \end{array}$$

$$\begin{array}{r} 9 \\ 3 \\ \hline 1 + \end{array}$$

$$\begin{array}{r} 8 \\ 4 \\ \hline 4 + \end{array}$$

$$\begin{array}{r} 2 \\ 7 \\ \hline 3 + \end{array}$$

$$\begin{array}{r} 8 \\ 8 \\ \hline 1 + \end{array}$$

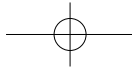
$$\begin{array}{r} 4 \\ 2 \\ \hline 6 + \end{array}$$

$$\begin{array}{r} 2 \\ 5 \\ \hline 5 + \end{array}$$

$$\begin{array}{r} 2 \\ 2 \\ \hline 7 + \end{array}$$

تَحَدَّثُ ■ اسْتَدْلَالُ

كَيْفَ تَخْتَارُ الْعَدَدَيْنِ اللَّذَيْنِ تَجْمَعُهُمَا أَوَّلًا؟



أَتَمَّرْنُ

أُحَوِّطُ الْعِدَدَيْنِ اللَّذَيْنِ أَجْمَعُهُمَا أَوَّلًا.
أَكْتُبُ الْمَجْمُوعَ.

$$\begin{array}{r} 6 \\ 2 \\ \hline 7 + \end{array}$$

$$\begin{array}{r} 8 \\ 2 \\ \hline 1 + \end{array}$$

$$\begin{array}{r} 1 \\ 5 \\ 5 \\ \hline 11 \end{array}$$



$$\begin{array}{r} 9 \\ 6 \\ \hline 1 + \end{array}$$

$$\begin{array}{r} 4 \\ 9 \\ \hline 6 + \end{array}$$

$$\begin{array}{r} 1 \\ 7 \\ \hline 7 + \end{array}$$



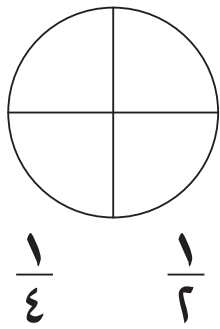
$$\begin{array}{r} 6 \\ 1 \\ \hline 6 + \end{array}$$

$$\begin{array}{r} 3 \\ 5 \\ \hline 5 + \end{array}$$

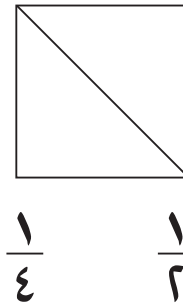
$$\begin{array}{r} 8 \\ 4 \\ \hline 2 + \end{array}$$

مُرَاجَعَةٌ

الْوَنُّ قِسْمًا، ثُمَّ أُحَوِّطُ الْكَسْرَ الْمُنَاسِبَ.

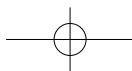


٥



٤

نشاط منزلي • اطلب إلى ولدك استعمال قطع نقدية ليبيّن لك كيف يجمع ٣ أعداد.




أَجْمَعُ الْعَشْرَاتِ

الدرس ٣

لَعِبَ فَرِيقُ سَيْرَوَانَ ٢٠ دَوْرًا فِي مُبَارِيَّاتِ كُرَةِ الطَّاوِلَةِ،
ثُمَّ لَعِبَ ١٠ أَدْوَارٍ. كَمْ دَوْرًا لَعِبَ فَرِيقُ سَيْرَوَانَ؟

أَبْدَأُ بِأَخْذِ عَشْرَتَيْنِ، ثُمَّ
أَضَيْفُهُ إِلَيْهَا عَشْرَةً



أُفَكِّرُ:

$$\begin{array}{r} 20 \\ 10 + \\ \hline 30 \\ \text{عَشْرَات} \end{array} \quad \begin{array}{r} 2 \\ 1 + \\ \hline 3 \\ \text{عَشْرَات} \end{array}$$

لَعِبَ فَرِيقُ كَامِلٍ ٣٠ دَوْرًا.

أَسْتَعْمِلُ  لِكَيْ أَجْمَعَ. أَكْتُبُ الأَعْدَادَ.

عَشْرَات

أُفَكِّرُ:

عَشْرَات + ٥٠

عَشْرَات + ١٠ +

عَشْرَات

عَشْرَات

أُفَكِّرُ:

عَشْرَات + ٣٠

عَشْرَات + ٤٠ +

عَشْرَات

عَشْرَات

أُفَكِّرُ:

عَشْرَات + ٤٠

عَشْرَات + ٤٠ +

عَشْرَات

عَشْرَات

أُفَكِّرُ:

عَشْرَات + ٢٠

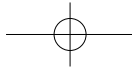
عَشْرَات + ٧٠ +

عَشْرَات



تَحَدَّثُ ■ اسْتِدْلَالٌ

كَيْفَ تَسْتَعْمِلُ جُمْلَةَ الْجَمْعِ ٩ = ٢ + ٧
لِتَجِدَ الْمَجْمُوعَ ٢٠ + ٧٠؟



أَتَمَّرْنِ

٤٠ + ٣٠ هِيَ نَفْسُهَا
٤ عَشْرَاتُ ٣ + عَشْرَاتُ

أَفَكِّرْ:

عَشْرَاتُ	٤	٤٠
عَشْرَاتُ	٣ +	٣٠ +
عَشْرَاتُ	√	√٠

أَسْتَعْمِلُ  لِكَيْ أَجْمَعَ.

$$\begin{array}{r} 10 \\ 60 + \\ \hline \end{array}$$

$$\begin{array}{r} 20 \\ 20 + \\ \hline \end{array}$$

$$\begin{array}{r} 50 \\ 40 + \\ \hline \end{array}$$

١

$$\begin{array}{r} 80 \\ 10 + \\ \hline \end{array}$$

$$\begin{array}{r} 60 \\ 20 + \\ \hline \end{array}$$

$$\begin{array}{r} 10 \\ 70 + \\ \hline \end{array}$$

٢


$$\begin{array}{r} 40 \\ 10 + \\ \hline \end{array}$$

$$\begin{array}{r} 20 \\ 30 + \\ \hline \end{array}$$

$$\begin{array}{r} 10 \\ 50 + \\ \hline \end{array}$$


٣

أَحُلْ مَسْأَلَةً ■ تَفَكِّرْ بَصْرِي
أَرَسِّمْ مَا يَنْقُصُ ثُمَّ أَكْتُبْ جُمْلَةً عَدَدِيَّةً.



=

+

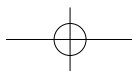


٤

=

+


نَشَاطٌ مَنْزِلِي • اظْلُبْ إِلَى وَلَدِكَ أَنْ يَبِينَنَّ لَكَ كَيْفَ يَجِدُ الْمَجْمُوعَ ٣٠ + ٢٠.



أَطْرَحُ الْعَشْرَاتِ

الدرس ٤

أبدأ بأربع عشرات
وأسحب منها ٣ عشرات




أحضّر دانا ٤٠ سكرةً لزملائه في الصف.
فأكلوا ٣٠ سكرةً. كم سكرة بقي؟

أفكر:

$$\begin{array}{r} 40 \\ - 30 \\ \hline 10 \end{array}$$

عشرات ٤ عشرات ٣

بقي ١٠ سكاكر.

أستعملُ  لكي أطرح. أكتب الأعداد الناقصة.

٢ أفكر:

$$\begin{array}{r} \square \\ - 30 \\ \hline \square \end{array}$$

عشرات

$$\begin{array}{r} \square \\ - 10 \\ \hline \square \end{array}$$

عشرات

$$\begin{array}{r} \square \\ \hline \square \end{array}$$

عشرات

١ أفكر:

$$\begin{array}{r} \square \\ - 90 \\ \hline \square \end{array}$$

عشرات

$$\begin{array}{r} \square \\ - 20 \\ \hline \square \end{array}$$

عشرات

$$\begin{array}{r} \square \\ \hline \square \end{array}$$

عشرات

٤ أفكر:

$$\begin{array}{r} \square \\ - 70 \\ \hline \square \end{array}$$

عشرات

$$\begin{array}{r} \square \\ - 20 \\ \hline \square \end{array}$$

عشرات

$$\begin{array}{r} \square \\ \hline \square \end{array}$$

عشرات

٣ أفكر:

$$\begin{array}{r} \square \\ - 80 \\ \hline \square \end{array}$$

عشرات

$$\begin{array}{r} \square \\ - 40 \\ \hline \square \end{array}$$

عشرات

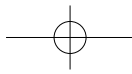
$$\begin{array}{r} \square \\ \hline \square \end{array}$$

عشرات



تحدث ■ استدلال

كيف تستعمل جملة الطرح ٦ - ٤ = ٢
لتجد الفرق ٦٠ - ٤٠؟



أَتَمَّرُنْ

أُفَكِّرُ:

عَشْرَات	٥	٥٠
عَشْرَات	٢ -	٢٠ -
عَشْرَات	٣	٣٠

أَسْتَعْمِلُ  لِكَيْ أَطْرَحَ.

$$\begin{array}{r} 60 \\ 20 - \\ \hline \end{array}$$

$$\begin{array}{r} 40 \\ 40 - \\ \hline \end{array}$$

$$\begin{array}{r} 70 \\ 50 - \\ \hline \end{array}$$

١

$$\begin{array}{r} 20 \\ 10 - \\ \hline \end{array}$$

$$\begin{array}{r} 50 \\ 30 - \\ \hline \end{array}$$

$$\begin{array}{r} 90 \\ 20 - \\ \hline \end{array}$$


٢

$$\begin{array}{r} 90 \\ 60 - \\ \hline \end{array}$$

$$\begin{array}{r} 30 \\ 20 - \\ \hline \end{array}$$

$$\begin{array}{r} 80 \\ 50 - \\ \hline \end{array}$$

٣

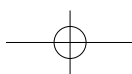


أَحُلْ مَسْأَلَةً ■ تَفَكِيرُ بَصْرِيٌّ
أَكْتُبُ الْجُمْلَةَ الْعَدَدِيَّةَ الْمُنَاسِبَةَ.

٤

_____ ○ _____ ○ _____

نَشَاطٌ مَنْزِلِيٌّ • اظْلُبْ إِلَى وِلْدِكَ أَنْ يَبِينَنَّ لَكَ كَيْفَ يَجِدُ الْفَرْقَ ٧٠ - ٤٠.



أَجْمَعُ لِكَيِ أَطْرَحَ

الدرس ٥

يُمْكِنُنِي أَنْ أَسْتَعْمِلَ حَقَائِقَ
الْجَمْعِ لِكَيِ أَطْرَحَ.

$15 = 7 + 8$
 $8 = 15 - 7$

15
 $7 -$
 8

8
 $7 +$
 15

أَجِدُ الْمَجْمُوعَ، ثُمَّ أَجِدُ الْفَرْقَ.
أَسْتَعْمِلُ حَقِيقَةَ الْجَمْعِ لِكَيِ أَطْرَحَ.

11
 $6 -$
 5

5
 $6 +$
 11

14
 $9 -$
 9

9
 $5 +$
 14

14
 $7 -$
 7

7
 $7 +$
 14

15
 $9 -$
 6

6
 $9 +$
 15

12
 $9 -$
 9

9
 $3 +$
 12

13
 $5 -$
 8

8
 $5 +$
 13



تَحَدَّثُ ■ اسْتِدْلَالٌ

أَيُّ حَقِيقَةٍ جَمَعْتُ تُسَاعِدُكَ لِكَيِ تَجِدَ
الْفَرْقَ $17 - 9$ ؟ بَيْنَ ذَلِكَ.



أَتَمَّرُنْ

أَجِدُ الْمَجْمُوعَ ثُمَّ أَجِدُ الْفَرْقَ.
أَسْتَعْمِلُ حَقِيقَةَ الْجَمْعِ لِكَيْ أُطْرَحَ.

$$\begin{array}{r} 16 \\ 7- \\ \hline \end{array}$$

$$\begin{array}{r} 9 \\ 7+ \\ \hline \end{array}$$

$$\begin{array}{r} 11 \\ 6- \\ \hline \end{array}$$

$$\begin{array}{r} 5 \\ 6+ \\ \hline \end{array}$$

$$\begin{array}{r} 13 \\ 4- \\ \hline \end{array}$$

$$\begin{array}{r} 9 \\ 4+ \\ \hline \end{array}$$

$$\begin{array}{r} 12 \\ 8- \\ \hline \end{array}$$

$$\begin{array}{r} 8 \\ 4+ \\ \hline \end{array}$$

$$\begin{array}{r} 11 \\ 2- \\ \hline \end{array}$$

$$\begin{array}{r} 2 \\ 9+ \\ \hline \end{array}$$

$$\begin{array}{r} 12 \\ 5- \\ \hline \end{array}$$

$$\begin{array}{r} 7 \\ 5+ \\ \hline \end{array}$$



مُرَاجَعَةٌ

أَكْمِلِ النَّمَطَ.



نَشَاطٌ مَنْزِلِيٌّ • اطلُبْ إِلَى وَلَدِكَ أَنْ يَذْكُرَ لَكَ حَقِيقَةَ الْجَمْعِ الَّتِي تُسَاعِدُ عَلَى حِسَابِ الْفَرْقِ ١٤ - ٦.

(١٤ = ٦ + ٨ أَوْ ١٤ = ٨ + ٦)

أحلُّ مسألةٍ أختارُ العمليَّةَ

الدرس ٦

أفهمُ أخطئُ أحلُّ أتحقِّقُ

يلعبُ ١٤ ولداً كرة السلة.

يلعبُ ٨ أولاد كرة الطاولة.

كم يزيد لاعبو كرة السلة على لاعبي كرة الطاولة؟

أفهمُ

ما المطلوب؟

أخطئُ

أختارُ العمليَّةَ المناسبةَ.

أكتبُ جملةً عدديَّةً لحلَّ المسألة.

أحلُّ

أطرحُ

أجمعُ

٦

=

٨

١٤

أتحقِّقُ

هل جوابي معقول؟ أبين ذلك.



تذكّر:
بيئتك أن تطرح
لكي تجد العدد الزائد.

أحوط أجمع أو أطرح.

أكتبُ جملةً عدديَّةً.

١ يسير ١٥ ولداً معاً. لحق بهم

٣. كم ولداً أصبحوا؟

ولداً _____

أطرحُ

أجمعُ



٢ ١٨ ولداً يغنون.

توقف ٩ عن الغناء.

كم ولداً ظلَّ يغني؟

أولاد _____

أطرحُ

أجمعُ



أَتَمَّرْنِ

أُحِوِّطُ أَجْمَعُ أَوْ أَطْرَحُ.
أَكْتُبُ الْجُمْلَةَ الْعَدَدِيَّةَ.

١ ٩ أولادٍ في ساحة المدرسة.
جاءهم ٧ آخرون.
كم ولدًا في الساحة الآن؟

١٦ _____ ولدًا

٢ ٧ أولادٍ يرسمون.
٨ أولادٍ يقرأون.
كم عدد الأولاد جميعًا؟

_____ ولدًا

٣ ١٣ ولدًا يصفقون.
٦ أولادٍ يعزفون. كم يزيد
المُصَفِّقُونَ عَلَى الْعَازِفِينَ؟

_____ أولادٍ

أَطْرَحُ

أَجْمَعُ

$$\underline{16} = \underline{7} + \underline{9}$$

أَطْرَحُ

أَجْمَعُ

$$\underline{\quad} \bigcirc \underline{\quad} \bigcirc \underline{\quad}$$

أَطْرَحُ

أَجْمَعُ

$$\underline{\quad} \bigcirc \underline{\quad} \bigcirc \underline{\quad}$$

اكتب

اكتب حكاية عن الصورة.
اكتب جملة عددية.
اختر طريقة للتحقق من جوابك.



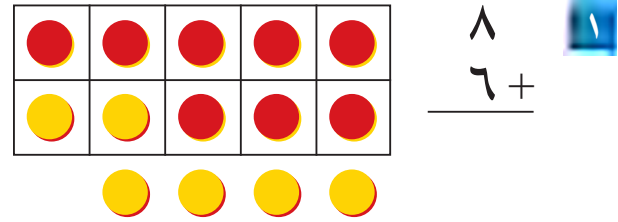
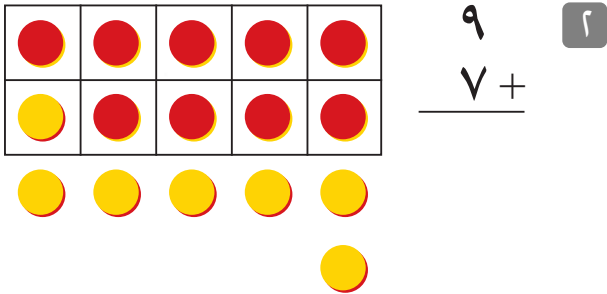
نشاط منزلي • اطلب إلى ولدك أن يبين لك لماذا اختار أن يجمع أو يطرح.

مُرَاجَعَةٌ

الفصل ١٢

الإسم _____

أَكْتُبُ الْمَجْمُوعَ أَوْ الْفَرْقَ.



$$\begin{array}{r} 10 \\ + 5 \\ \hline \end{array}$$

$$\begin{array}{r} 8 \\ - 5 \\ \hline \end{array}$$

$$\begin{array}{r} 10 \\ - 1 \\ \hline \end{array}$$

$$\begin{array}{r} 4 \\ + 7 \\ \hline \end{array}$$

$$\begin{array}{r} 3 \\ + 4 \\ \hline \end{array}$$

$$\begin{array}{r} 7 \\ + 2 \\ \hline \end{array}$$

$$\begin{array}{r} 8 \\ + 1 \\ \hline \end{array}$$

$$\begin{array}{r} 8 \\ + 2 \\ \hline \end{array}$$

أَسْتَعْمِلُ حَقِيقَةً جَمَعَ لِكِي أَطْرَحُ.

$$\begin{array}{r} 12 \\ - 6 \\ \hline \end{array}$$

$$\begin{array}{r} 6 \\ + 6 \\ \hline \end{array}$$

$$\begin{array}{r} 16 \\ - 8 \\ \hline \end{array}$$

$$\begin{array}{r} 8 \\ + 8 \\ \hline \end{array}$$



أَحُلُّ مَسْأَلَةً

أَحُوطُ أَجْمَعُ أَوْ أَطْرَحُ.

أَكْتُبُ جُمْلَةً عَدَدِيَّةً.



أَطْرَحُ

أَجْمَعُ

هُنَاكَ ١٣ وَلَدًا يَدْرُسُونَ. ذَهَبَ مِنْهُمْ ٥. كَمْ وَلَدًا ظَلَّ يَدْرُسُ؟

أَوْلَادُ _____

تَحْضِيرٌ لِلِإِحْتِبَارِ

الفصل ١٢

الاسم

أَخْتَارُ الْجَوَابَ الْمُنَاسِبَ.

$$\begin{array}{r} 10 \\ + 9 \\ \hline \end{array}$$

٣

- ٢٩ ١٩ ١٨ ٩

$$\begin{array}{r} 8 \\ + 2 \\ \hline 8 \end{array}$$

٢

- ٢٠ ١٨ ١٦ ١٠

$$\begin{array}{r} 6 \\ + 7 \\ \hline \end{array}$$

١

- ١٧ ١٤ ١٣ ١٢

٤ زرع سالار ٤ شتول من الورد و ٩ شتول من الرمان.
كم شتلة زرع سالار؟

١٦

١٥

١٤

١٣

$$\begin{array}{r} 16 = 8 + 8 \\ \underline{\quad\quad} = 8 - 16 \end{array}$$

٦

- ١٨ ٨ ٦ ١٠

$$\begin{array}{r} 19 \\ - 2 \\ \hline \end{array}$$

٥

- ٢١ ١٨ ١٧ ١٦

٧ أَشْطَبُ عَدَدًا مِنَ الْمَكْعَبَاتِ.



أَكْتُبُ جُمْلَةَ الْجَمْعِ الْمُرْتَبِطَةَ بِهَا.

_____ ○ _____ ○ _____

أَكْتُبُ جُمْلَةَ الطَّرْحِ.

_____ ○ _____ ○ _____

جَمْعُ وَطَرِحِ عَدَدَيْنِ

الفصل

١٣

أَكْتُبُ جُمْلَةً جَمَعَ
وَجُمْلَةً طَرَحَ عَنِ الصُّورَةِ.



الأهل الأعزّاء،

اليومَ نبدأ الفصلَ ١٣ . سنتعلّم كيف نجمع عددًا من رقم واحد مع عدد من رقمين من دون تجميع، وكيف نطرحها من دون تفكيك . تحوي هذه الصفحة المفردات الرياضية الجديدة ونشاطًا نقوم به معًا في المنزل .

مع حُبّي،

مُفرداتي الجديدةُ

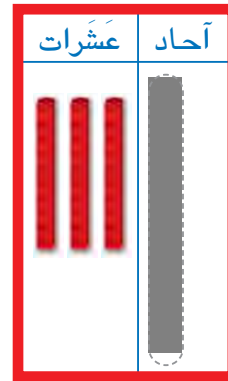
الْفَرْقُ آحاد
عَشْرَات المَجْمُوع

نشاط

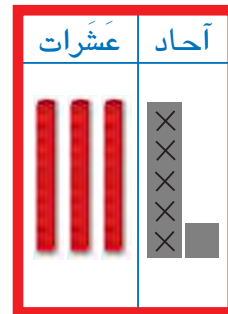
اكتب الأعداد من ٢٥ إلى ٢٩، والأعداد من صفر إلى ٤، على أوراق منفصلة. اطلب إلى ولدك أن يأخذ عددًا من المجموعة الأولى، وعددًا من المجموعة الثانية، وأن يرسم صورة يبين فيها كيف يجمع العددين، وصورة يبين فيها كيف يطرح العدد الثاني من العدد الأول.

المفردات

كم عَشْرَةً في العدد ٣٩؟ وكم واحدًا؟



عَشْرَات	آحاد
3	4
	5 +
3	9
المجموع 39	



عَشْرَات	آحاد
3	6
	5 -
3	1
الفرق 31	

أَجْمَعُ العَشْرَاتِ وَالْأَحَادَ

الدرس ١

قفز شايان في مباراة للقفز ٣٢ قفزة. وقفز رمان ٤ قفزات أكثر من شايان.
كم قفزة قفز رمان؟ أبين ٣٢. أبين ٤.

أَكْتُبُ المَجْمُوعَ المَجْمُوعُ ٣٦ أَجْمَعُ الأَحَادَ

عَشْرَات	أَحَاد
٣	٢
	٤ +
قفزة ٣	٦

عَشْرَات	أَحَاد

عَشْرَات	أَحَاد

أَسْتَعْمِلُ وَ لِكَيْ أَجْمَعَ. أَكْتُبُ المَجْمُوعَ.

عَشْرَات	أَحَاد

عَشْرَات	أَحَاد
٤	٣
	٤ +

عَشْرَات	أَحَاد

عَشْرَات	أَحَاد
٤	٧
	٢ +

عَشْرَات	أَحَاد

عَشْرَات	أَحَاد
٣	٢
	٢ +

عَشْرَات	أَحَاد

عَشْرَات	أَحَاد
٣	٧
	٢ +

عَشْرَات	أَحَاد

عَشْرَات	أَحَاد
٣	٢
	٢ +



تَحَدَّثُ ■ اسْتِدْلَالٌ

كَيْفَ تَجِدُ المَجْمُوعَ ٤٦ + ٣ مِنْ دُونِ اسْتِعْمَالِ وَ ؟



أَتَمَّرُنْ

أَسْتَعْمِلُ ■ وَ ■ لِكِي أَجْمَعُ.
أَكْتُبُ الْمَجْمُوعَ.

عَشْرَات	آحَاد
10	10

عَشْرَات	آحَاد
1	6 3+

٢

عَشْرَات	آحَاد
30	10

عَشْرَات	آحَاد
4	1 4+
4	0

١

عَشْرَات	آحَاد
20	10

عَشْرَات	آحَاد
2	3 3+

٤

عَشْرَات	آحَاد
30	10

عَشْرَات	آحَاد
3	5 2+

٣



٦٤

+

٦٨



٢٢

+

٢٥



٥٣

+

٥٩

الْجَبْرُ
أَكْتُبُ الْعَدَدَ النَّاقِصَ.

٣١

+

٣٦

٥

نَشَاطٌ مَنْزِلِي • اظْلُبْ إِلَى وَلَدِكَ أَنْ يَرَسِّمَ صُورًا لِيُبَيِّنَ كَيْفَ يَجِدُ الْمَجْمُوعَ ٢٤ + ٥.

أَتَمَّرْنُ عَلَى الْجَمْعِ

الدرس ٢

أَسْتَعْمِلُ ■ وَلَوْحَةَ الْعَشْرَةِ. ثُمَّ أَجْمَعُ بِإِكْمَالِ الْعَشْرَةِ.

٧ ٨+	٣ ٩+	٨ ٩+	٧ ٦+
---------	---------	---------	---------

أَجْمَعُ.

٧ ٣ ٧+	٦ ٥ ٤+	٩ ١ ٣+	٣ ٤ ٧+
--------------	--------------	--------------	--------------

أَسْتَعْمِلُ ■ لِكَيْ أَجْمَعَ.

٦٠ ٣٠+	٥٠ ٢٠+	٤٠ ٥٠+	٣٠ ٥٠+
-----------	-----------	-----------	-----------

أَعُدُّ إِلَى الْأَمَامِ لِكَيْ أَجْمَعَ.

٥٠ ١+	٥٦ ٢+	٤٤ ٢+	٣٥ ٣+
----------	----------	----------	----------

أَسْتَعْمِلُ ■ وَ لِكَيْ أَجْمَعَ.

٣١ ٨+	٢٢ ٦+	٤٤ ٥+	٣٥ ٤+
----------	----------	----------	----------

تَحَدَّثُ ■ اسْتِدْلَالٌ

أَيُّ طَرِيقَةٍ تَسْتَعْمِلُ لِجَمْعِ ٧٠ + ٢؟

أَتَمَّرْنِ

أَسْتَعْمِلُ ■ وَلَوْحَةَ الْعَشْرَةِ. ثُمَّ أَجْمَعُ بِإِكْمَالِ الْعَشْرَةِ.

أَجْمَعُ.

٥	٣	٤	٢	١
٦	٧	٢	٣	
٥ +	٥ +	٦ +	٨ +	

أَسْتَعْمِلُ ■ لِكَيْ أَجْمَعَ.

٧٠	٨٠	٤٠	٢٠	٢
٢٠ +	١٠ +	٥٠ +	٣٠ +	

أَعُدُّ إِلَى الْأَمَامِ لِكَيْ أَجْمَعَ.

٥٤	٤٣	٥٢	٣٧	٣
٤ +	٢ +	٣ +	٢ +	

أَحْلُ مَسْأَلَةً ■ حِسَابٌ ذَهْنِيٌّ



٤ سَيْرَوَانُ لَاعِبُ كُرَةِ سَلَّةٍ. رَمَى الْكُرَةَ ٢٥ مَرَّةً وَأَصَابَ السَّلَّةَ فِي ٢٠ مِنْهَا. بَعْدَ ذَلِكَ، رَمَى الْكُرَةَ ٣ مَرَّاتٍ وَأَصَابَ السَّلَّةَ فِي كُلِّ مَرَّةٍ. كَمْ مَرَّةً أَصَابَ سَيْرَوَانُ السَّلَّةَ؟

نَشَاطٌ مَنْزِلِيٌّ • اظْلُبْ إِلَى وَلَدِكَ أَنْ يَبِينَنَّ لَكَ كَيْفَ يَجِدُ الْمَجْمُوعَ ٣٣ + ١٤.

أَطْرَحُ الْأَحَادَ وَالْعَشْرَاتِ

الدرس ٣



يَتَنَاوَلُ ٢٨ وَلَدًا طَعَامَ الْفُطُورِ. أَنهَى ٥ مِنْهُمْ الْأَكْلَ،
وَوَجَّهُوا إِلَى اللَّعِبِ. كَمْ وَلَدًا ظَلَّ يَأْكُلُ؟


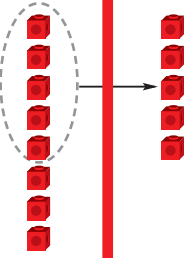
اَكْتُبِ الْفَرْقَ

الباقي ٢٣

أَبِينُ ٢٨. أَطْرَحُ ٥



عَشْرَات	أَحَاد
٢	٨
	٥ -
ولداً	٣

عَشْرَات	أَحَاد
	

عَشْرَات	أَحَاد
	





أَسْتَعْمِلُ  وَ  لِكَيْ أَطْرَحَ.

عَشْرَات	أَحَاد
	

عَشْرَات	أَحَاد
١	٩
	٤ -

٢

عَشْرَات	أَحَاد
	



عَشْرَات	أَحَاد
٤	٧
	٥ -

١

عَشْرَات	أَحَاد
	

عَشْرَات	أَحَاد
٢	٤
	٢ -

٤



عَشْرَات	أَحَاد
	

عَشْرَات	أَحَاد
٣	٦
	٦ -


٣





تَحَدَّثُ ■ اسْتَدْلَالُ

كَيْفَ تَجِدُ الْفَرْقَ ٢٧ - ٤ مِنْ دُونِ
اسْتِعْمَالِ  وَ ؟

أَتَمَّرْنِ

أَسْتَعْمِلُ  وَ لِكِي أَطْرَحُ.
أَكْتُبُ الْفَرْقَ.

عَشْرَات	آحَاد
	



عَشْرَات	آحَاد
٤	٥ ٢ -

٢

عَشْرَات	آحَاد
	

عَشْرَات	آحَاد
٣	٩ ٢ -

١

عَشْرَات	آحَاد
	

عَشْرَات	آحَاد
١	٧ ٣ -

٤

عَشْرَات	آحَاد
	

عَشْرَات	آحَاد
٢	٦ ٥ -

٣



الْجِبْرِ

أَكْتُبُ الْعَدَدَ النَّاقِصَ.

٧٥

٧٢

١٨

١٤

٨٦

٨٠

٤٩

٤١

٥

نَشَاطٌ مَنْزِلِيٌّ • اظْلُبْ إِلَى وِلْدِكَ أَنْ يَبِينَنَّ لَكَ كَيْفَ يَجِدُ الْفَرْقَ ٤٨ - ٣.

أَتَمَّرَنَّ عَلَى الطَّرْحِ

الدرس ٤

أَطْرَحُ.

$$\begin{array}{r} 9 \\ 5 - \end{array}$$

$$\begin{array}{r} 8 \\ 3 - \end{array}$$

$$\begin{array}{r} 7 \\ 4 - \end{array}$$

أَسْتَعْمِلُ  لِكَيْ أَطْرَحَ.

$$\begin{array}{r} 50 \\ 50 - \end{array}$$

$$\begin{array}{r} 30 \\ 10 - \end{array}$$


$$\begin{array}{r} 50 \\ 40 - \end{array}$$

أَعُدُّ إِلَى الْوَرَاءِ لِكَيْ أَطْرَحَ.

$$\begin{array}{r} 11 \\ 5 - \end{array}$$

$$\begin{array}{r} 10 \\ 2 - \end{array}$$

$$\begin{array}{r} 14 \\ 3 - \end{array}$$

أَسْتَعْمِلُ  وَ لِكَيْ أَطْرَحَ.

$$\begin{array}{r} 75 \\ 2 - \end{array}$$

$$\begin{array}{r} 76 \\ 4 - \end{array}$$

$$\begin{array}{r} 65 \\ 5 - \end{array}$$

أَكْتُبُ الْعَدَدَ الْمُنَاسِبَ.

$$\begin{array}{r} 13 \\ 9 - \end{array}$$

$$\begin{array}{r} 9 \\ 4 + \end{array}$$

$$\begin{array}{r} 11 \\ 3 - \end{array}$$

$$\begin{array}{r} 8 \\ 3 + \end{array}$$

تَحَدَّثُ ■ اسْتَدْلَالُ

كَيْفَ تَحْسِبُ الْفَرْقَ ٥٦ - ٣؟

أَتَمَّرُنْ

أَطْرَحُ.

$$\begin{array}{r} 7 \\ - 1 \\ \hline \end{array}$$

$$\begin{array}{r} 6 \\ - 6 \\ \hline \end{array}$$

$$\begin{array}{r} 9 \\ - 3 \\ \hline \end{array}$$

$$\begin{array}{r} 8 \\ - 4 \\ \hline \end{array}$$

١

أَعِدُّ إِلَى الْوَرَاءِ لِكَيْ أَطْرَحَ.

$$\begin{array}{r} 75 \\ - 5 \\ \hline \end{array}$$

$$\begin{array}{r} 49 \\ - 4 \\ \hline \end{array}$$

$$\begin{array}{r} 98 \\ - 3 \\ \hline \end{array}$$

$$\begin{array}{r} 37 \\ - 2 \\ \hline \end{array}$$

٢

أَكْتُبُ النَّاتِجَ.

$$\begin{array}{r} 15 \\ - 7 \\ \hline \end{array}$$

$$\begin{array}{r} 8 \\ + 7 \\ \hline \end{array}$$

$$\begin{array}{r} 14 \\ - 5 \\ \hline \end{array}$$

$$\begin{array}{r} 9 \\ + 5 \\ \hline \end{array}$$


٤

٣

أَحُلْ مَسْأَلَةً ■ أَجْمَعُ أَوْ أَطْرَحُ

٥ اشترى نزار ١١ قلمًا، ثم اشترى ٣ أقلام. كم قلمًا اشترى نزار؟

٦ اشترى سامان ٢٥ سُكَّرَةً. أكل منها ٤ سكاكر. كم سُكَّرَةً بقي معه؟



نشاط منزلي • اطرح على ولدك مسائل يتطلب حلها استعمال الجمع أو الطرح. دعه يبين أي عملية يختار.

أحلُّ مسألةً

أستعملُ الاستدلالَ المنطقيَّ

الدرس ٥

أفهمُ أخطئُ أحلُّ أتحقِّقُ

مع شاكار ٦٥ قطعة بسكوت.
أعطت صديقاتها ٢٢ قطعة.
كم قطعة بقي معها؟

أفهمُ

ما المطلوب؟

أخطئُ

يمكنني أن أستعمل الاستدلال المنطقي
لاختيار الجواب المعقول.

أحلُّ

٤٣
قطعة

٨٧
قطعة

أتحقِّقُ

هل جوابي معقول؟ أبين ذلك.

أحوظ الجواب المناسب دون
القيام بجمع أو طرح.

١
صنعت أمي ٥٠ قطعة حلوى بطعم
المشمش، و ٤٠ قطعة بطعم الليمون.
كم قطعة حلوى صنعت أمي؟

١٠ قطع

٩٠ قطعة

كان معها ٦٥. أعطت
بعضاً منها.
يجب أن يكون الجواب
أقل من ٦٥.



أَتَمَّرْنِ

أَحْوَطُ الْجَوَابَ الْمُنَاسِبَ دُونَ جَمْعِ أَوْ طَرَحِ:

١ مَعَ مِيرَانَ ٢٥ قَلَمًا، وَمَعَ سَرْمَدَ ١٤ قَلَمًا. كَمْ قَلَمًا مَعَ مِيرَانَ زِيَادَةً عَلَى سَرْمَدِ؟

١١ قَلَمًا

٣٩ قَلَمًا

مَعَ مِيرَانَ ٢٥ قَلَمًا فَقَطْ .
لَا يُهَيِّبُ أَنْ يَكُونَ مَعَهُ
٣٩ قَلَمًا زِيَادَةً عَلَى سَرْمَدِ .



٣ صَنَعَتْ زَيْنَبُ ٣٧ قَالِبًا صَغِيرًا مِنْ الْحَلْوَى. أَكَلَ أَوْلَادُهَا ٢١ قَالِبًا. كَمْ قَالِبًا بَقِيَ؟




١٦ قَالِبًا

٥٨ قَالِبًا

٢ مَعَ بِيَانِ ٤٠ قِطْعَةً بِسْكَوتٍ. أَعْطَتْ ٢٠ مِنْهَا لِهَدْيٍ. كَمْ قِطْعَةً بَقِيَ مَعَ بِيَانِ؟

٢٠ قِطْعَةً

٦٠ قِطْعَةً



٥ صَنَعَتْ شِيلَانُ ٥٠ قِطْعَةً حَلْوَى، كَمَا صَنَعَتْ آوَاتُ ٤٠ قِطْعَةً. كَمْ قِطْعَةً حَلْوَى صَنَعَتْ شِيلَانُ زِيَادَةً عَلَى آوَاتِ؟



١٠ قِطْعٍ

٩٠ قِطْعَةً

٤ أَحْضَرَ دَارًا ٥٠ تَفَاحَةً إِلَى قَاعَةِ الصَّفِّ، بَيْنَمَا أَحْضَرَ بَاسِلٌ ٤٠ تَفَاحَةً. كَمْ تَفَاحَةً أَحْضَرَ مَعًا إِلَى الصَّفِّ؟

١٠ تَفَاحَاتٍ

٩٠ تَفَاحَةً



اَكْتُبْ

مَازَا يَجِبُ أَنْ تُغَيِّرَ فِي الْمَسْأَلَةِ الْأَخِيرَةِ لِكَيْ يُصَبِحَ الْجَوَابُ الْمُنَاسِبُ ٩٠ قِطْعَةً. ارْسُمْ لَتَتَحَقَّقَ.

نَشَاطٌ مَنْزِلِيٌّ • اظْلُبْ إِلَى وَلَدِكَ أَنْ يَبِينَنَّ لَكَ كَيْفَ اخْتَارَ كُلَّ جَوَابٍ.

مُراجَعَة

الفصل ١٣

الاسم _____

أَكْتُبُ الْمَجْمُوعَ.

عَشْرَات	آحَاد
٦	٥
١	٤ +

عَشْرَات	آحَاد
٢	٣
	٥ +

$$\begin{array}{r} ٥٦ \\ ٣ + \\ \hline \end{array}$$

$$\begin{array}{r} ٣٧ \\ ٢ + \\ \hline \end{array}$$

$$\begin{array}{r} ٨٠ \\ ١٠ + \\ \hline \end{array}$$

$$\begin{array}{r} ٢٠ \\ ٦٠ + \\ \hline \end{array}$$

أَكْتُبُ الْفَرْقَ.

عَشْرَات	آحَاد
٢	٩
١	٦ -

عَشْرَات	آحَاد
٥	٧
	٢ -

$$\begin{array}{r} ٩٨ \\ ٢ - \\ \hline \end{array}$$

$$\begin{array}{r} ٦٩ \\ ٣ - \\ \hline \end{array}$$

$$\begin{array}{r} ٦٠ \\ ٤٠ - \\ \hline \end{array}$$

$$\begin{array}{r} ٨٠ \\ ٣٠ - \\ \hline \end{array}$$

تَحْضِيرٌ لِلِإِخْتِبَارِ

الفصل ١٣

الاسمُ _____

أَخْتَارُ الْجَوَابَ الْمُنَاسِبَ.

$$\begin{array}{r} ٤٥ \\ ٣٠ + \\ \hline \end{array}$$

٢

٧٥ ٥٥ ٢٥ ١٥

$$\underline{\hspace{2cm}} = ٣ + ٦٠$$

١

٧٣ ٦٣ ٥٧ ٥٦

$$\begin{array}{r} ٢٩ \\ ٢ + \\ \hline \end{array}$$

٤

٤١ ٣٢ ٣١ ٢١

$$\begin{array}{r} ٥٤ \\ ٣ + \\ \hline \end{array}$$

٣

٦٨ ٦٧ ٥٨ ٥٧

$$\begin{array}{r} ٥٧ \\ ٢ - \\ \hline \end{array}$$

٦

٦٥ ٥٥ ٥٤ ٤٥

$$\underline{\hspace{2cm}} = ٣ - ٤٠$$

٥

٣٩ ٣٨ ٣٧ ٣٦

٧ صَنَعَتْ وَالِدَةُ زَيْلِهِ بَعْضَ الْحَلْوَى. أَكَلَتْ زَيْلَهُ عَدَدًا مِنْ قِطَعِ الْحَلْوَى يَزِيدُ عَلَى ٣، وَيَقِلُّ عَنْ ٦، كَمْ قِطْعَةً حَلْوَى أَكَلَتْ زَيْلَهُ؟

- ٥ ٦ ٧ ٨
-